



¿QUÉ HAY EN EL REGALO? (I)


¿Qué número hay en cada regalo?

$8 - 2 =$ 

$9 - 7 =$ 

$6 - 1 =$ 

$16 - 8 =$ 

$4 - 1 =$ 


$10 -$  $= 3$

$13 -$  $= 7$

$8 -$  $= 1$


$9 -$  $= 3$

$10 -$  $= 4$

$$  $- 9 = 7$


$$  $- 7 = 5$

$$  $- 6 = 6$

$$  $- 8 = 4$


$$  $- 7 = 6$

$12 - 4 =$ 

$12 - 3 =$ 

$12 - 7 =$ 

$11 - 5 =$ 

$12 - 9 =$ 

$6 -$  $= 5$

$9 -$  $= 4$


$13 -$  $= 6$

$13 -$  $= 5$


$9 -$  $= 4$

$$  $- 3 = 4$

$$  $- 4 = 3$


$$  $- 7 = 2$


$$  $- 6 = 9$

$$  $- 4 = 5$

$9 - 7 =$ 

$13 - 6 =$ 

$10 - 3 =$ 

$14 - 9 =$ 

$6 - 3 =$ 

$8 -$  $= 1$

$6 -$  $= 3$

$12 -$  $= 8$


$8 -$  $= 3$

$6 -$  $= 5$

$$  $- 2 = 6$

$$  $- 7 = 2$

$$  $- 7 = 8$

$$  $- 1 = 9$

$$  $- 7 = 5$