




# ¿QUÉ HAY EN EL REGALO? (A)


¿Qué número hay en cada regalo?

$27 - 17 =$  

$30 - 19 =$  

$17 - 8 =$  

$22 - 21 =$  

$28 - 20 =$  


$20 -$    $= 17$


$16 -$    $= 2$


$28 -$    $= 20$


$37 -$    $= 21$

$14 -$    $= 11$


$$    $- 18 = 25$

$$    $- 14 = 19$

$$    $- 12 = 24$

$$    $- 1 = 13$


$$    $- 20 = 3$

$28 - 16 =$  

$37 - 23 =$  

$26 - 22 =$  

$19 - 6 =$  

$25 - 19 =$  

$16 -$    $= 8$


$35 -$    $= 19$


$10 -$    $= 6$


$41 -$    $= 21$


$19 -$    $= 12$


$$    $- 13 = 16$


$$    $- 9 = 6$

$$    $- 8 = 22$


$$    $- 7 = 3$

$$    $- 15 = 9$

$8 - 1 =$  

$33 - 19 =$  

$20 - 8 =$  

$15 - 3 =$  

$26 - 22 =$  


$14 -$    $= 12$


$34 -$    $= 23$


$38 -$    $= 23$

$33 -$    $= 20$


$16 -$    $= 2$

$$    $- 21 = 7$

$$    $- 3 = 7$

$$    $- 10 = 9$

$$    $- 5 = 15$

$$    $- 13 = 5$

# ¿QUÉ HAY EN EL REGALO? (A) RESPUESTAS

¿Qué número hay en cada regalo?

27	-	17	=	10	28	-	16	=	12	8	-	1	=	7
30	-	19	=	11	37	-	23	=	14	33	-	19	=	14
17	-	8	=	9	26	-	22	=	4	20	-	8	=	12
22	-	21	=	1	19	-	6	=	13	15	-	3	=	12
28	-	20	=	8	25	-	19	=	6	26	-	22	=	4

20	-	3	=	17	16	-	8	=	8	14	-	2	=	12
16	-	14	=	2	35	-	16	=	19	34	-	11	=	23
28	-	8	=	20	10	-	4	=	6	38	-	15	=	23
37	-	16	=	21	41	-	20	=	21	33	-	13	=	20
14	-	3	=	11	19	-	7	=	12	16	-	14	=	2

43	-	18	=	25	29	-	13	=	16	28	-	21	=	7
33	-	14	=	19	15	-	9	=	6	10	-	3	=	7
36	-	12	=	24	30	-	8	=	22	19	-	10	=	9
14	-	1	=	13	10	-	7	=	3	20	-	5	=	15
23	-	20	=	3	24	-	15	=	9	18	-	13	=	5