



¿QUÉ HAY EN EL REGALO? (B)

¿Qué número hay en cada regalo?

$33 - 12 =$ 

$17 - 15 =$ 

$40 - 18 =$ 

$40 - 19 =$ 

$3 - 2 =$ 


$27 -$  $= 16$


$29 -$  $= 13$


$36 -$  $= 17$


$29 -$  $= 21$

$15 -$  $= 6$

$$  $- 10 = 11$

$$  $- 2 = 20$

$$  $- 13 = 5$

$$  $- 19 = 12$

$$  $- 8 = 10$

$27 - 2 =$ 

$27 - 23 =$ 

$21 - 5 =$ 

$43 - 24 =$ 

$46 - 23 =$ 

$16 -$  $= 11$


$36 -$  $= 25$


$28 -$  $= 20$


$21 -$  $= 16$

$23 -$  $= 15$

$$  $- 12 = 13$

$$  $- 8 = 23$

$$  $- 19 = 6$

$$  $- 14 = 16$

$$  $- 4 = 14$

$27 - 24 =$ 

$35 - 12 =$ 

$15 - 11 =$ 

$24 - 4 =$ 

$25 - 12 =$ 


$8 -$  $= 7$

$18 -$  $= 8$


$19 -$  $= 16$


$27 -$  $= 6$


$19 -$  $= 6$

$$  $- 10 = 25$

$$  $- 4 = 25$

$$  $- 9 = 16$

$$  $- 25 = 18$

$$  $- 10 = 6$