














































¿QUÉ HAY EN EL REGALO? (1)

¿Qué número hay en cada regalo?

4 - 3 = 	21 - 20 = 	28 - 20 = 
15 - 1 = 	29 - 18 = 	34 - 23 = 
13 - 11 = 	46 - 25 = 	25 - 7 = 
30 - 24 = 	36 - 13 = 	33 - 23 = 
9 - 2 = 	24 - 19 = 	26 - 20 = 
28 -  = 13	24 -  = 3	7 -  = 2
19 -  = 7	16 -  = 8	39 -  = 23
21 -  = 8	28 -  = 7	19 -  = 6
33 -  = 18	18 -  = 5	28 -  = 12
14 -  = 10	35 -  = 16	36 -  = 12
 - 24 = 15	 - 8 = 10	 - 19 = 21
 - 13 = 23	 - 18 = 9	 - 24 = 3
 - 10 = 7	 - 10 = 16	 - 1 = 17
 - 22 = 16	 - 11 = 3	 - 12 = 4
 - 1 = 10	 - 25 = 11	 - 20 = 16

¿QUÉ HAY EN EL REGALO? (D) RESPUESTAS

¿Qué número hay en cada regalo?

$4 - 3 = 1$

$21 - 20 = 1$

$28 - 20 = 8$

$15 - 1 = 14$

$29 - 18 = 11$

$34 - 23 = 11$

$13 - 11 = 2$

$46 - 25 = 21$

$25 - 7 = 18$

$30 - 24 = 6$

$36 - 13 = 23$

$33 - 23 = 10$

$9 - 2 = 7$

$24 - 19 = 5$

$26 - 20 = 6$

$28 - 15 = 13$

$24 - 21 = 3$

$7 - 5 = 2$

$19 - 12 = 7$

$16 - 8 = 8$

$39 - 16 = 23$

$21 - 13 = 8$

$28 - 21 = 7$

$19 - 13 = 6$

$33 - 15 = 18$

$18 - 13 = 5$

$28 - 16 = 12$

$14 - 4 = 10$

$35 - 19 = 16$

$36 - 24 = 12$

$39 - 24 = 15$

$18 - 8 = 10$

$40 - 19 = 21$

$36 - 13 = 23$

$27 - 18 = 9$

$27 - 24 = 3$

$17 - 10 = 7$

$26 - 10 = 16$

$18 - 1 = 17$

$38 - 22 = 16$

$14 - 11 = 3$

$16 - 12 = 4$

$11 - 1 = 10$

$36 - 25 = 11$

$36 - 20 = 16$