














































¿QUÉ HAY EN EL REGALO? (1)

¿Qué número hay en cada regalo?

| | | |
|---|---|---|
| 4 - 3 =  | 21 - 20 =  | 28 - 20 =  |
| 15 - 1 =  | 29 - 18 =  | 34 - 23 =  |
| 13 - 11 =  | 46 - 25 =  | 25 - 7 =  |
| 30 - 24 =  | 36 - 13 =  | 33 - 23 =  |
| 9 - 2 =  | 24 - 19 =  | 26 - 20 =  |
| 28 -  = 13 | 24 -  = 3 | 7 -  = 2 |
| 19 -  = 7 | 16 -  = 8 | 39 -  = 23 |
| 21 -  = 8 | 28 -  = 7 | 19 -  = 6 |
| 33 -  = 18 | 18 -  = 5 | 28 -  = 12 |
| 14 -  = 10 | 35 -  = 16 | 36 -  = 12 |
|  - 24 = 15 |  - 8 = 10 |  - 19 = 21 |
|  - 13 = 23 |  - 18 = 9 |  - 24 = 3 |
|  - 10 = 7 |  - 10 = 16 |  - 1 = 17 |
|  - 22 = 16 |  - 11 = 3 |  - 12 = 4 |
|  - 1 = 10 |  - 25 = 11 |  - 20 = 16 |