


¿QUÉ HAY EN EL REGALO? (C)

¿Qué número hay en cada regalo?

$38 - 5 =$ 

$23 - 4 =$ 

$48 - 5 =$ 

$59 - 17 =$ 

$41 - 5 =$ 

$56 -$  $= 45$

$55 -$  $= 15$


$50 -$  $= 37$


$55 -$  $= 8$


$33 -$  $= 5$


$$  $- 17 = 43$


$$  $- 37 = 25$

$$  $- 15 = 46$


$$  $- 13 = 43$

$$  $- 6 = 25$

$42 - 10 =$ 

$2 - 1 =$ 

$63 - 23 =$ 

$21 - 17 =$ 

$65 - 31 =$ 

$30 -$  $= 29$

$46 -$  $= 3$

$40 -$  $= 33$

$87 -$  $= 38$


$45 -$  $= 1$

$$  $- 45 = 5$

$$  $- 2 = 5$

$$  $- 36 = 17$

$$  $- 48 = 32$


$$  $- 14 = 4$

$67 - 40 =$ 

$36 - 7 =$ 

$59 - 35 =$ 

$55 - 46 =$ 

$21 - 1 =$ 

$80 -$  $= 43$

$51 -$  $= 43$

$66 -$  $= 28$


$57 -$  $= 35$

$42 -$  $= 20$

$$  $- 32 = 47$

$$  $- 22 = 48$

$$  $- 36 = 29$

$$  $- 5 = 22$

$$  $- 42 = 40$