


¿QUÉ HAY EN EL REGALO? (F)

¿Qué número hay en cada regalo?

$18 - 8 =$ 

$26 - 8 =$ 

$64 - 45 =$ 

$42 - 4 =$ 

$41 - 14 =$ 


$34 -$  $= 27$


$44 -$  $= 23$

$22 -$  $= 16$


$43 -$  $= 3$

$57 -$  $= 35$

$$  $- 18 = 38$

$$  $- 16 = 11$

$$  $- 26 = 46$


$$  $- 9 = 39$

$$  $- 45 = 19$

$58 - 10 =$ 

$15 - 7 =$ 

$45 - 7 =$ 

$47 - 31 =$ 

$52 - 14 =$ 

$58 -$  $= 35$

$52 -$  $= 8$


$10 -$  $= 9$

$39 -$  $= 33$

$52 -$  $= 9$


$$  $- 1 = 34$

$$  $- 44 = 31$


$$  $- 16 = 4$

$$  $- 4 = 48$

$$  $- 25 = 8$

$59 - 19 =$ 

$45 - 38 =$ 

$57 - 9 =$ 

$47 - 14 =$ 

$66 - 31 =$ 

$65 -$  $= 38$


$46 -$  $= 3$


$38 -$  $= 36$


$70 -$  $= 27$


$52 -$  $= 27$

$$  $- 17 = 16$

$$  $- 12 = 24$

$$  $- 18 = 48$

$$  $- 31 = 9$

$$  $- 43 = 39$