

¿QUÉ HAY EN EL REGALO? (€)

¿Qué número hay en cada regalo?

$102 - 68 =$ 

$111 - 89 =$ 

$111 - 31 =$ 

$108 - 63 =$ 

$123 - 53 =$ 

$94 -$  $= 19$


$135 -$  $= 84$


$75 -$  $= 70$

$95 -$  $= 69$

$105 -$  $= 98$

$$  $- 4 = 82$

$$  $- 21 = 37$


$$  $- 87 = 75$

$$  $- 5 = 51$


$$  $- 97 = 24$

$79 - 64 =$ 

$106 - 82 =$ 

$19 - 18 =$ 

$127 - 98 =$ 

$106 - 17 =$ 


$112 -$  $= 58$


$70 -$  $= 25$

$147 -$  $= 83$

$77 -$  $= 22$


$40 -$  $= 17$

$$  $- 97 = 62$

$$  $- 9 = 12$

$$  $- 43 = 22$

$$  $- 76 = 62$

$$  $- 74 = 83$

$82 - 67 =$ 

$103 - 20 =$ 

$124 - 62 =$ 

$98 - 49 =$ 

$89 - 4 =$ 

$63 -$  $= 29$

$167 -$  $= 69$

$84 -$  $= 19$


$122 -$  $= 28$

$93 -$  $= 90$

$$  $- 8 = 78$

$$  $- 56 = 7$

$$  $- 88 = 42$

$$  $- 46 = 10$

$$  $- 83 = 15$