

¿QUÉ HAY EN EL REGALO? (H)

¿Qué número hay en cada regalo?

$107 - 40 =$ 

$93 - 75 =$ 

$126 - 46 =$ 

$66 - 51 =$ 

$148 - 63 =$ 


$92 -$  $= 64$


$54 -$  $= 20$

$125 -$  $= 92$

$75 -$  $= 49$

$40 -$  $= 11$


$$  $- 36 = 58$

$$  $- 5 = 73$

$$  $- 4 = 29$

$$  $- 98 = 62$

$$  $- 2 = 61$

$53 - 16 =$ 

$114 - 95 =$ 

$171 - 81 =$ 

$28 - 27 =$ 

$86 - 6 =$ 


$79 -$  $= 76$

$70 -$  $= 40$


$90 -$  $= 84$


$107 -$  $= 16$

$71 -$  $= 13$

$$  $- 67 = 91$

$$  $- 57 = 91$

$$  $- 31 = 98$

$$  $- 39 = 99$

$$  $- 73 = 25$

$33 - 23 =$ 

$80 - 68 =$ 

$90 - 30 =$ 

$30 - 23 =$ 

$92 - 36 =$ 

$118 -$  $= 53$

$126 -$  $= 34$

$113 -$  $= 64$

$145 -$  $= 70$

$63 -$  $= 45$

$$  $- 24 = 88$

$$  $- 42 = 84$

$$  $- 8 = 57$

$$  $- 66 = 85$

$$  $- 25 = 60$