




¿QUÉ HAY EN EL REGALO? (C)

¿Qué número hay en cada regalo?

$6 + 3 =$ 

$8 + 9 =$ 

$4 + 5 =$ 

$7 + 2 =$ 

$1 + 6 =$ 

$1 +$  $= 10$


$3 +$  $= 9$

$7 +$  $= 14$


$1 +$  $= 6$


$4 +$  $= 9$


$$  $+ 6 = 14$

$$  $+ 6 = 10$


$$  $+ 8 = 10$


$$  $+ 2 = 4$

$$  $+ 2 = 5$

$6 + 2 =$ 

$3 + 6 =$ 

$2 + 1 =$ 

$4 + 1 =$ 

$2 + 2 =$ 

$3 +$  $= 12$


$8 +$  $= 12$


$6 +$  $= 7$


$9 +$  $= 17$


$9 +$  $= 11$

$$  $+ 3 = 6$

$$  $+ 2 = 11$

$$  $+ 4 = 7$


$$  $+ 3 = 11$


$$  $+ 5 = 11$

$8 + 5 =$ 

$4 + 8 =$ 

$2 + 4 =$ 

$6 + 3 =$ 

$7 + 2 =$ 

$7 +$  $= 12$


$4 +$  $= 6$


$4 +$  $= 7$


$2 +$  $= 3$


$3 +$  $= 11$

$$  $+ 5 = 12$

$$  $+ 4 = 8$

$$  $+ 6 = 9$

$$  $+ 8 = 17$

$$  $+ 9 = 18$

¿QUÉ HAY EN EL REGALO? (C) RESPUESTAS

¿Qué número hay en cada regalo?

$6 + 3 = 9$

$6 + 2 = 8$

$8 + 5 = 13$

$8 + 9 = 17$

$3 + 6 = 9$

$4 + 8 = 12$

$4 + 5 = 9$

$2 + 1 = 3$

$2 + 4 = 6$

$7 + 2 = 9$

$4 + 1 = 5$

$6 + 3 = 9$

$1 + 6 = 7$

$2 + 2 = 4$

$7 + 2 = 9$

$1 + 9 = 10$

$3 + 9 = 12$

$7 + 5 = 12$

$3 + 6 = 9$

$8 + 4 = 12$

$4 + 2 = 6$

$7 + 7 = 14$

$6 + 1 = 7$

$4 + 3 = 7$

$1 + 5 = 6$

$9 + 8 = 17$

$2 + 1 = 3$

$4 + 5 = 9$

$9 + 2 = 11$

$3 + 8 = 11$

$8 + 6 = 14$

$3 + 3 = 6$

$7 + 5 = 12$

$4 + 6 = 10$

$9 + 2 = 11$

$4 + 4 = 8$

$2 + 8 = 10$

$3 + 4 = 7$

$3 + 6 = 9$

$2 + 2 = 4$

$8 + 3 = 11$

$9 + 8 = 17$

$3 + 2 = 5$

$6 + 5 = 11$

$9 + 9 = 18$