



¿QUÉ HAY EN EL REGALO? (€)

¿Qué número hay en cada regalo?

$4 + 8 =$ 

$3 + 1 =$ 

$9 + 3 =$ 

$2 + 7 =$ 

$4 + 5 =$ 


$2 +$  $= 7$

$9 +$  $= 17$


$8 +$  $= 16$


$5 +$  $= 13$

$2 +$  $= 7$

$$  $+ 2 = 8$


$$  $+ 4 = 5$


$$  $+ 8 = 10$


$$  $+ 9 = 16$

$$  $+ 6 = 13$

$4 + 5 =$ 

$2 + 9 =$ 

$9 + 1 =$ 

$4 + 1 =$ 

$1 + 5 =$ 

$3 +$  $= 10$

$6 +$  $= 13$

$6 +$  $= 7$

$4 +$  $= 13$


$9 +$  $= 10$


$$  $+ 2 = 9$

$$  $+ 8 = 9$


$$  $+ 2 = 8$


$$  $+ 8 = 9$


$$  $+ 4 = 7$

$4 + 8 =$ 

$7 + 4 =$ 

$5 + 9 =$ 

$2 + 9 =$ 

$8 + 9 =$ 

$5 +$  $= 6$

$8 +$  $= 11$


$6 +$  $= 7$


$5 +$  $= 9$


$4 +$  $= 12$

$$  $+ 5 = 12$

$$  $+ 8 = 11$

$$  $+ 2 = 7$

$$  $+ 4 = 13$

$$  $+ 2 = 7$