


¿QUÉ HAY EN EL REGALO? (F)


¿Qué número hay en cada regalo?

$8 + 3 =$ 

$4 + 7 =$ 

$9 + 5 =$ 

$6 + 5 =$ 

$1 + 9 =$ 


$2 +$  $= 11$


$9 +$  $= 10$


$8 +$  $= 16$


$8 +$  $= 9$


$1 +$  $= 3$

$$  $+ 9 = 18$

$$  $+ 9 = 16$

$$  $+ 9 = 11$


$$  $+ 9 = 10$

$$  $+ 1 = 4$

$2 + 6 =$ 

$4 + 4 =$ 

$1 + 3 =$ 

$9 + 8 =$ 

$8 + 8 =$ 

$3 +$  $= 5$

$8 +$  $= 16$

$3 +$  $= 12$

$3 +$  $= 8$


$5 +$  $= 11$


$$  $+ 8 = 12$

$$  $+ 7 = 13$

$$  $+ 4 = 13$

$$  $+ 7 = 12$

$$  $+ 8 = 15$

$1 + 1 =$ 

$8 + 5 =$ 

$3 + 3 =$ 

$9 + 7 =$ 

$9 + 6 =$ 

$9 +$  $= 15$

$5 +$  $= 14$

$5 +$  $= 7$

$1 +$  $= 6$

$2 +$  $= 8$

$$  $+ 2 = 3$

$$  $+ 4 = 12$

$$  $+ 2 = 9$

$$  $+ 2 = 4$

$$  $+ 4 = 6$