


# ¿QUÉ HAY EN EL REGALO? (9)

¿Qué número hay en cada regalo?

$5 + 1 =$  

$4 + 6 =$  

$9 + 5 =$  

$1 + 7 =$  

$6 + 5 =$  


$1 +$    $= 9$


$5 +$    $= 8$


$7 +$    $= 10$

$6 +$    $= 13$


$3 +$    $= 9$


$$    $+ 1 = 6$


$$    $+ 8 = 10$

$$    $+ 9 = 16$


$$    $+ 6 = 12$

$$    $+ 1 = 8$

$4 + 9 =$  

$2 + 1 =$  

$2 + 6 =$  

$5 + 1 =$  

$5 + 7 =$  

$5 +$    $= 7$

$9 +$    $= 17$


$3 +$    $= 12$

$2 +$    $= 6$


$2 +$    $= 7$

$$    $+ 9 = 15$

$$    $+ 6 = 13$


$$    $+ 3 = 12$

$$    $+ 5 = 10$

$$    $+ 9 = 16$

$2 + 7 =$  

$5 + 7 =$  

$9 + 3 =$  

$1 + 5 =$  

$2 + 2 =$  

$2 +$    $= 10$


$3 +$    $= 8$


$5 +$    $= 12$

$1 +$    $= 4$


$1 +$    $= 2$

$$    $+ 7 = 15$

$$    $+ 2 = 5$

$$    $+ 1 = 2$

$$    $+ 6 = 13$

$$    $+ 3 = 4$