




¿QUÉ HAY EN EL REGALO? (1)

¿Qué número hay en cada regalo?

$6 + 10 =$ 

$17 + 4 =$ 

$9 + 3 =$ 

$2 + 1 =$ 

$23 + 5 =$ 


$23 +$  $= 47$

$10 +$  $= 20$

$15 +$  $= 32$


$9 +$  $= 14$


$15 +$  $= 25$

$$  $+ 18 = 38$

$$  $+ 22 = 37$

$$  $+ 21 = 25$


$$  $+ 8 = 26$

$$  $+ 13 = 20$

$21 + 20 =$ 

$15 + 2 =$ 

$17 + 12 =$ 

$21 + 9 =$ 

$3 + 12 =$ 

$3 +$  $= 4$


$5 +$  $= 6$

$19 +$  $= 43$

$3 +$  $= 13$


$2 +$  $= 10$

$$  $+ 3 = 21$

$$  $+ 10 = 32$


$$  $+ 23 = 47$

$$  $+ 25 = 42$

$$  $+ 10 = 16$

$20 + 23 =$ 

$22 + 6 =$ 

$2 + 17 =$ 

$6 + 24 =$ 

$23 + 13 =$ 

$5 +$  $= 6$


$1 +$  $= 21$


$9 +$  $= 32$


$19 +$  $= 23$

$17 +$  $= 36$

$$  $+ 21 = 24$

$$  $+ 9 = 28$

$$  $+ 3 = 19$

$$  $+ 11 = 15$

$$  $+ 23 = 27$