


¿QUÉ HAY EN EL REGALO? (€)


¿Qué número hay en cada regalo?

$15 + 3 =$ 

$5 + 22 =$ 

$22 + 14 =$ 

$4 + 19 =$ 

$8 + 11 =$ 

$25 +$  $= 29$


$12 +$  $= 23$

$25 +$  $= 35$


$2 +$  $= 4$


$1 +$  $= 19$

$$  $+ 14 = 38$

$$  $+ 21 = 33$

$$  $+ 5 = 24$

$$  $+ 18 = 22$

$$  $+ 17 = 26$

$8 + 25 =$ 

$24 + 5 =$ 

$18 + 6 =$ 

$22 + 2 =$ 

$10 + 6 =$ 

$2 +$  $= 14$


$10 +$  $= 11$

$3 +$  $= 6$


$6 +$  $= 22$

$9 +$  $= 31$

$$  $+ 11 = 13$

$$  $+ 11 = 26$

$$  $+ 21 = 45$

$$  $+ 9 = 31$

$$  $+ 23 = 38$

$1 + 18 =$ 

$24 + 13 =$ 

$13 + 17 =$ 

$1 + 4 =$ 

$25 + 14 =$ 

$9 +$  $= 20$


$25 +$  $= 40$


$20 +$  $= 45$

$2 +$  $= 27$

$14 +$  $= 22$

$$  $+ 7 = 30$

$$  $+ 16 = 31$

$$  $+ 15 = 18$

$$  $+ 25 = 39$

$$  $+ 21 = 32$