



# ¿QUÉ HAY EN EL REGALO? (I)

¿Qué número hay en cada regalo?

$18 + 15 =$  

$4 + 8 =$  

$12 + 19 =$  

$16 + 25 =$  

$20 + 7 =$  


$20 +$    $= 27$

$11 +$    $= 27$


$19 +$    $= 33$


$20 +$    $= 34$


$2 +$    $= 10$


$$    $+ 9 = 26$

$$    $+ 24 = 47$

$$    $+ 3 = 7$

$$    $+ 18 = 24$

$$    $+ 7 = 30$

$4 + 15 =$  

$25 + 24 =$  

$21 + 18 =$  

$5 + 23 =$  

$6 + 4 =$  

$14 +$    $= 19$


$19 +$    $= 41$


$22 +$    $= 38$

$25 +$    $= 39$


$5 +$    $= 8$

$$    $+ 16 = 35$

$$    $+ 4 = 9$

$$    $+ 16 = 25$


$$    $+ 2 = 14$

$$    $+ 3 = 10$

$23 + 14 =$  

$13 + 18 =$  

$1 + 6 =$  

$8 + 9 =$  

$24 + 5 =$  

$7 +$    $= 20$


$2 +$    $= 7$


$7 +$    $= 21$

$23 +$    $= 32$


$2 +$    $= 13$

$$    $+ 12 = 37$

$$    $+ 16 = 30$

$$    $+ 4 = 5$

$$    $+ 23 = 42$

$$    $+ 8 = 18$