



# ¿QUÉ HAY EN EL REGALO? (C)

¿Qué número hay en cada regalo?

$30 + 17 =$  

$12 + 20 =$  

$4 + 13 =$  

$17 + 32 =$  

$28 + 37 =$  


$35 +$    $= 83$

$6 +$    $= 31$

$22 +$    $= 43$

$27 +$    $= 72$


$49 +$    $= 76$

$$    $+ 17 = 38$

$$    $+ 34 = 40$

$$    $+ 22 = 53$


$$    $+ 34 = 69$

$$    $+ 7 = 26$

$26 + 2 =$  

$30 + 28 =$  

$8 + 24 =$  

$48 + 3 =$  

$1 + 26 =$  

$3 +$    $= 16$

$24 +$    $= 40$

$32 +$    $= 36$

$30 +$    $= 47$


$3 +$    $= 6$

$$    $+ 49 = 50$

$$    $+ 44 = 82$


$$    $+ 39 = 87$

$$    $+ 49 = 95$

$$    $+ 45 = 88$

$18 + 34 =$  

$6 + 11 =$  

$7 + 1 =$  

$38 + 22 =$  

$27 + 34 =$  


$36 +$    $= 70$


$45 +$    $= 75$


$11 +$    $= 23$


$39 +$    $= 52$


$35 +$    $= 48$

$$    $+ 32 = 54$

$$    $+ 26 = 29$

$$    $+ 40 = 65$

$$    $+ 45 = 65$

$$    $+ 30 = 60$