



¿QUÉ HAY EN EL REGALO? (F)

¿Qué número hay en cada regalo?

$16 + 45 =$ 

$25 + 43 =$ 

$37 + 10 =$ 

$30 + 11 =$ 

$38 + 21 =$ 


$41 +$  $= 56$


$10 +$  $= 29$

$37 +$  $= 73$

$47 +$  $= 83$

$9 +$  $= 49$


$$  $+ 37 = 75$

$$  $+ 17 = 49$

$$  $+ 43 = 85$


$$  $+ 36 = 79$

$$  $+ 25 = 32$

$48 + 17 =$ 

$2 + 45 =$ 

$14 + 38 =$ 

$38 + 1 =$ 

$43 + 7 =$ 

$46 +$  $= 50$


$8 +$  $= 29$


$6 +$  $= 34$


$19 +$  $= 36$


$46 +$  $= 51$

$$  $+ 12 = 60$


$$  $+ 1 = 6$

$$  $+ 19 = 49$

$$  $+ 25 = 71$


$$  $+ 26 = 51$

$3 + 27 =$ 

$20 + 10 =$ 

$14 + 37 =$ 

$19 + 8 =$ 

$35 + 18 =$ 

$20 +$  $= 59$


$35 +$  $= 66$

$26 +$  $= 55$


$33 +$  $= 67$

$38 +$  $= 62$

$$  $+ 9 = 26$

$$  $+ 32 = 80$

$$  $+ 44 = 69$

$$  $+ 25 = 34$

$$  $+ 40 = 55$