

¿QUÉ HAY EN EL REGALO? (B)


¿Qué número hay en cada regalo?

$46 + 62 =$ 

$19 + 64 =$ 

$98 + 27 =$ 

$90 + 32 =$ 

$81 + 74 =$ 


$1 +$  $= 23$

$84 +$  $= 155$


$26 +$  $= 106$


$51 +$  $= 73$

$83 +$  $= 104$

$$  $+ 9 = 74$

$$  $+ 58 = 93$

$$  $+ 58 = 68$


$$  $+ 16 = 109$


$$  $+ 94 = 142$

$38 + 63 =$ 

$80 + 26 =$ 

$26 + 42 =$ 

$94 + 84 =$ 

$39 + 87 =$ 

$96 +$  $= 188$


$98 +$  $= 125$

$12 +$  $= 47$

$12 +$  $= 46$

$30 +$  $= 119$


$$  $+ 38 = 77$

$$  $+ 83 = 100$

$$  $+ 43 = 54$

$$  $+ 58 = 149$

$$  $+ 59 = 94$

$94 + 83 =$ 

$81 + 74 =$ 

$28 + 77 =$ 

$13 + 69 =$ 

$13 + 84 =$ 

$45 +$  $= 144$

$55 +$  $= 93$


$79 +$  $= 174$

$62 +$  $= 122$


$78 +$  $= 96$

$$  $+ 80 = 105$

$$  $+ 24 = 93$

$$  $+ 1 = 32$

$$  $+ 46 = 102$

$$  $+ 79 = 123$