


# ¿QUÉ HAY EN EL REGALO? (F)

¿Qué número hay en cada regalo?

$60 + 86 =$  

$82 + 36 =$  

$36 + 68 =$  

$7 + 98 =$  

$31 + 27 =$  


$45 +$    $= 135$


$78 +$    $= 111$

$8 +$    $= 92$

$42 +$    $= 128$


$97 +$    $= 193$

$$    $+ 87 = 151$

$$    $+ 5 = 53$

$$    $+ 47 = 102$

$$    $+ 83 = 174$


$$    $+ 76 = 146$

$59 + 42 =$  

$68 + 57 =$  

$64 + 80 =$  

$34 + 94 =$  

$6 + 76 =$  

$49 +$    $= 129$

$83 +$    $= 174$

$96 +$    $= 132$


$25 +$    $= 98$

$39 +$    $= 84$

$$    $+ 92 = 140$

$$    $+ 4 = 41$


$$    $+ 60 = 148$

$$    $+ 13 = 35$

$$    $+ 53 = 109$

$14 + 77 =$  

$53 + 43 =$  

$55 + 16 =$  

$99 + 40 =$  

$15 + 81 =$  

$44 +$    $= 53$

$38 +$    $= 98$


$1 +$    $= 42$


$95 +$    $= 160$

$96 +$    $= 156$

$$    $+ 27 = 51$

$$    $+ 35 = 104$

$$    $+ 59 = 120$

$$    $+ 18 = 19$

$$    $+ 72 = 133$