

¿QUÉ HAY EN EL REGALO? (9)

¿Qué número hay en cada regalo?

$32 + 52 =$ 

$43 + 57 =$ 

$43 + 88 =$ 

$46 + 67 =$ 

$36 + 82 =$ 


$13 +$  $= 20$

$65 +$  $= 114$


$68 +$  $= 101$


$91 +$  $= 172$


$13 +$  $= 59$

$$  $+ 32 = 113$

$$  $+ 29 = 126$

$$  $+ 38 = 130$


$$  $+ 86 = 155$

$$  $+ 51 = 146$

$3 + 64 =$ 

$42 + 45 =$ 

$10 + 22 =$ 

$30 + 16 =$ 

$80 + 59 =$ 

$77 +$  $= 131$

$59 +$  $= 81$


$74 +$  $= 158$


$70 +$  $= 143$


$28 +$  $= 48$


$$  $+ 99 = 195$

$$  $+ 30 = 41$


$$  $+ 14 = 85$

$$  $+ 93 = 116$

$$  $+ 10 = 47$

$35 + 58 =$ 

$76 + 37 =$ 

$24 + 24 =$ 

$67 + 67 =$ 

$75 + 22 =$ 

$51 +$  $= 131$

$17 +$  $= 89$


$95 +$  $= 153$


$49 +$  $= 65$


$78 +$  $= 122$

$$  $+ 31 = 52$

$$  $+ 44 = 143$

$$  $+ 69 = 152$

$$  $+ 9 = 75$

$$  $+ 16 = 29$