




¿QUÉ HAY EN EL REGALO? (I)


¿Qué número hay en cada regalo?

$18 + 19 =$ 

$24 + 51 =$ 

$85 + 20 =$ 

$26 + 31 =$ 

$59 + 10 =$ 

$28 +$  $= 89$

$15 +$  $= 43$

$50 +$  $= 141$

$8 +$  $= 15$


$78 +$  $= 146$


$$  $+ 93 = 124$

$$  $+ 56 = 83$


$$  $+ 82 = 165$


$$  $+ 35 = 46$


$$  $+ 11 = 32$

$54 + 86 =$ 

$50 + 70 =$ 

$8 + 16 =$ 

$18 + 85 =$ 

$8 + 19 =$ 

$66 +$  $= 72$

$96 +$  $= 104$

$97 +$  $= 126$

$64 +$  $= 123$


$16 +$  $= 46$

$$  $+ 75 = 126$

$$  $+ 72 = 117$

$$  $+ 27 = 86$


$$  $+ 68 = 70$


$$  $+ 51 = 149$

$8 + 59 =$ 

$94 + 84 =$ 

$4 + 53 =$ 

$48 + 76 =$ 

$31 + 19 =$ 

$56 +$  $= 134$


$6 +$  $= 85$

$35 +$  $= 124$

$53 +$  $= 95$


$12 +$  $= 48$

$$  $+ 99 = 104$

$$  $+ 51 = 56$

$$  $+ 47 = 115$

$$  $+ 45 = 98$

$$  $+ 87 = 101$