




















# Mapa de Pascuas (C)

¿Cuáles son las coordenadas de cada huevo de Pascua?

	A	B	C	D	E	F	G	H	I
1									
2									
3									
4									
5									
6									
7									
8									
9									

¿Cuántos huevos de Pascua hay?

\_\_\_\_\_

¿Cuántos  hay?

\_\_\_\_\_

¿Cuántos espacios en blanco hay?

\_\_\_\_\_

¡MatesLibres.Com les desea una Felices Pascuas!

# Mapa de Pascuas (C) Respuestas

¿Cuáles son las coordenadas de cada huevo de Pascua?

	A	B	C	D	E	F	G	H	I
1	A1		C1						I1
2							G2		
3		B3	C3				G3		
4		B4						H4	
5		B5		D5		F5			
6	A6	B6		D6					
7					E7			H7	
8									I8
9									I9

¿Cuántos huevos de Pascua hay?

19

¿Cuántos  hay?

0

¿Cuántos espacios en blanco hay?

62

¡MatesLibres.Com les desea una Felices Pascuas!