















# Mapa de Pascuas (G)

¿Cuáles son las coordenadas de cada huevo de Pascua?

	A	B	C	D	E	F	G	H	I
1									
2									
3									
4									
5									
6									
7									
8									
9									

¿Cuántos huevos de Pascua hay?

\_\_\_\_\_

¿Cuántos  hay?

\_\_\_\_\_

¿Cuántos espacios en blanco hay?

\_\_\_\_\_

¡MatesLibres.Com les desea una Felices Pascuas!

# Mapa de Pascuas (G) Respuestas

¿Cuáles son las coordenadas de cada huevo de Pascua?

	A	B	C	D	E	F	G	H	I
1						F1			I1
2	A2								I2
3									
4		B4					G4		
5							G5	H5	
6									I6
7	A7	B7				F7	G7		
8						F8			
9									

¿Cuántos huevos de Pascua hay?

14

¿Cuántos  hay?

1

¿Cuántos espacios en blanco hay?

67

¡MatesLibres.Com les desea una Felices Pascuas!