


















Mapa de Pascuas (A)

¿Cuáles son las coordenadas de cada huevo de Pascua?

| | A | B | C | D | E | F | G | H | I |
|---|---|---|---|---|---|--|---|---|---|
| 1 |  |  | | | |  | |  |  |
| 2 | | |  | | | |  | | |
| 3 | | | | | | |  | |  |
| 4 | |  | | | | | | | |
| 5 | | | | | | | |  | |
| 6 | | | | | |  | | | |
| 7 | | | | | | | |  | |
| 8 | | | | |  | | | | |
| 9 | | | | | | |  |  |  |

¿Cuántos huevos de Pascua hay?

¿Cuántos  hay?

¿Cuántos espacios en blanco hay?

¡MatesLibres.Com les desea una Felices Pascuas!

Mapa de Pascuas (A) Respuestas

¿Cuáles son las coordenadas de cada huevo de Pascua?

| | A | B | C | D | E | F | G | H | I |
|---|----|----|----|---|----|----|----|----|----|
| 1 | A1 | B1 | | | | F1 | | H1 | I1 |
| 2 | | | C2 | | | | G2 | | |
| 3 | | | | | | | G3 | | I3 |
| 4 | | B4 | | | | | | | |
| 5 | | | | | | | | H5 | |
| 6 | | | | | | F6 | | | |
| 7 | | | | | | | | H7 | |
| 8 | | | | | E8 | | | | |
| 9 | | | | | | | G9 | H9 | I9 |

¿Cuántos huevos de Pascua hay?

17

¿Cuántos  hay?

4













¿Cuántos espacios en blanco hay?

64

¡MatesLibres.Com les desea una Felices Pascuas!

Mapa de Pascuas (B)

¿Cuáles son las coordenadas de cada huevo de Pascua?

| | A | B | C | D | E | F | G | H | I |
|---|---|---|---|---|---|--|---|---|---|
| 1 | | | | | | | | | |
| 2 | | |  | | | | | | |
| 3 | | | | | | | | | |
| 4 | | | | | | | | | |
| 5 | | | |  | |  | | |  |
| 6 | |  |  |  | | |  | | |
| 7 | | | | | |  | | | |
| 8 | |  | |  | | | | | |
| 9 |  | | | | | | | | |

¿Cuántos huevos de Pascua hay?

¿Cuántos  hay?

¿Cuántos espacios en blanco hay?

¡MatesLibres.Com les desea una Felices Pascuas!

Mapa de Pascuas (B) Respuestas

¿Cuáles son las coordenadas de cada huevo de Pascua?

| | A | B | C | D | E | F | G | H | I |
|---|----|----|----|----|---|----|----|---|----|
| 1 | | | | | | | | | |
| 2 | | | C2 | | | | | | |
| 3 | | | | | | | | | |
| 4 | | | | | | | | | |
| 5 | | | | D5 | | F5 | | | I5 |
| 6 | | B6 | C6 | D6 | | | G6 | | |
| 7 | | | | | | F7 | | | |
| 8 | | B8 | | D8 | | | | | |
| 9 | A9 | | | | | | | | |

¿Cuántos huevos de Pascua hay?

12

¿Cuántos  hay?

0




















¿Cuántos espacios en blanco hay?

69

¡MatesLibres.Com les desea una Felices Pascuas!

Mapa de Pascuas (C)

¿Cuáles son las coordenadas de cada huevo de Pascua?

| | A | B | C | D | E | F | G | H | I |
|---|---|---|---|---|---|--|---|---|---|
| 1 |  | |  | | | | | |  |
| 2 | | | | | | |  | | |
| 3 | |  |  | | | |  | | |
| 4 | |  | | | | | |  | |
| 5 | |  | |  | |  | | | |
| 6 |  |  | |  | | | | | |
| 7 | | | | |  | | |  | |
| 8 | | | | | | | | |  |
| 9 | | | | | | | | |  |

¿Cuántos huevos de Pascua hay?

¿Cuántos  hay?

¿Cuántos espacios en blanco hay?

¡MatesLibres.Com les desea una Felices Pascuas!

Mapa de Pascuas (C) Respuestas

¿Cuáles son las coordenadas de cada huevo de Pascua?

| | A | B | C | D | E | F | G | H | I |
|---|----|----|----|----|----|----|----|----|----|
| 1 | A1 | | C1 | | | | | | I1 |
| 2 | | | | | | | G2 | | |
| 3 | | B3 | C3 | | | | G3 | | |
| 4 | | B4 | | | | | | H4 | |
| 5 | | B5 | | D5 | | F5 | | | |
| 6 | A6 | B6 | | D6 | | | | | |
| 7 | | | | | E7 | | | H7 | |
| 8 | | | | | | | | | I8 |
| 9 | | | | | | | | | I9 |

¿Cuántos huevos de Pascua hay?

19

¿Cuántos  hay?

0

















¿Cuántos espacios en blanco hay?

62

¡MatesLibres.Com les desea una Felices Pascuas!

Mapa de Pascuas (D)

¿Cuáles son las coordenadas de cada huevo de Pascua?

| | A | B | C | D | E | F | G | H | I |
|---|---|---|---|---|---|---|---|---|---|
| 1 | |  | | | | | | | |
| 2 | | | |  | | | |  | |
| 3 | |  | | | | | | |  |
| 4 | | | | | | | | | |
| 5 |  | | | | | | |  |  |
| 6 | |  | | |  | | | | |
| 7 | | | | | | | |  | |
| 8 | | | |  | | | | |  |
| 9 | | | | |  | |  | |  |

¿Cuántos huevos de Pascua hay?

¿Cuántos  hay?

¿Cuántos espacios en blanco hay?

¡MatesLibres.Com les desea una Felices Pascuas!

Mapa de Pascuas (D) Respuestas

¿Cuáles son las coordenadas de cada huevo de Pascua?

| | A | B | C | D | E | F | G | H | I |
|---|----|----|---|----|----|---|----|----|----|
| 1 | | B1 | | | | | | | |
| 2 | | | | D2 | | | | H2 | |
| 3 | | B3 | | | | | | | I3 |
| 4 | | | | | | | | | |
| 5 | A5 | | | | | | | H5 | I5 |
| 6 | | B6 | | | E6 | | | | |
| 7 | | | | | | | | H7 | |
| 8 | | | | D8 | | | | | I8 |
| 9 | | | | | E9 | | G9 | | I9 |

¿Cuántos huevos de Pascua hay?

16

¿Cuántos  hay?

2


















¿Cuántos espacios en blanco hay?

65

¡MatesLibres.Com les desea una Felices Pascuas!

Mapa de Pascuas (E)

¿Cuáles son las coordenadas de cada huevo de Pascua?

| | A | B | C | D | E | F | G | H | I |
|---|---|---|---|---|---|--|---|---|---|
| 1 | |  | | |  | | | | |
| 2 | |  |  | |  | | | | |
| 3 | | | | | |  | | | |
| 4 | | | | | |  | | |  |
| 5 | |  | | | | | | |  |
| 6 | | |  | | | | |  | |
| 7 | | |  | | | | | | |
| 8 |  | | | | | | |  |  |
| 9 | |  | | | | | | | |

¿Cuántos huevos de Pascua hay?

¿Cuántos  hay?

¿Cuántos espacios en blanco hay?

¡MatesLibres.Com les desea una Felices Pascuas!

Mapa de Pascuas (E) Respuestas

¿Cuáles son las coordenadas de cada huevo de Pascua?

| | A | B | C | D | E | F | G | H | I |
|---|----|----|----|---|----|----|---|----|----|
| 1 | | B1 | | | E1 | | | | |
| 2 | | B2 | C2 | | E2 | | | | |
| 3 | | | | | | F3 | | | |
| 4 | | | | | | F4 | | | I4 |
| 5 | | B5 | | | | | | | I5 |
| 6 | | | C6 | | | | | H6 | |
| 7 | | | C7 | | | | | | |
| 8 | A8 | | | | | | | H8 | I8 |
| 9 | | B9 | | | | | | | |

¿Cuántos huevos de Pascua hay?

17

¿Cuántos  hay?

4


















¿Cuántos espacios en blanco hay?

64

¡MatesLibres.Com les desea una Felices Pascuas!

Mapa de Pascuas (F)

¿Cuáles son las coordenadas de cada huevo de Pascua?

| | A | B | C | D | E | F | G | H | I |
|---|---|---|---|---|---|--|---|---|---|
| 1 | | |  |  |  | |  | | |
| 2 |  | | | | | | | |  |
| 3 |  | | | | | | | | |
| 4 | | | | | | |  | |  |
| 5 | | | | | |  | |  |  |
| 6 | | | | |  | | | | |
| 7 | |  | | | | | | |  |
| 8 | | | | |  | | | | |
| 9 | | | | | |  | | | |

¿Cuántos huevos de Pascua hay?

¿Cuántos  hay?

¿Cuántos espacios en blanco hay?

¡MatesLibres.Com les desea una Felices Pascuas!

Mapa de Pascuas (F) Respuestas

¿Cuáles son las coordenadas de cada huevo de Pascua?

| | A | B | C | D | E | F | G | H | I |
|---|----|----|----|----|----|----|----|----|----|
| 1 | | | C1 | D1 | E1 | | G1 | | |
| 2 | A2 | | | | | | | | I2 |
| 3 | A3 | | | | | | | | |
| 4 | | | | | | | G4 | | I4 |
| 5 | | | | | | F5 | | H5 | I5 |
| 6 | | | | | E6 | | | | |
| 7 | | B7 | | | | | | | I7 |
| 8 | | | | | E8 | | | | |
| 9 | | | | | | F9 | | | |

¿Cuántos huevos de Pascua hay?

17

¿Cuántos  hay?

5















¿Cuántos espacios en blanco hay?

64

¡MatesLibres.Com les desea una Felices Pascuas!

Mapa de Pascuas (G)

¿Cuáles son las coordenadas de cada huevo de Pascua?

| | A | B | C | D | E | F | G | H | I |
|---|---|---|---|---|---|--|---|---|---|
| 1 | | | | | |  | | |  |
| 2 |  | | | | | | | |  |
| 3 | | | | | | | | | |
| 4 | |  | | | | |  | | |
| 5 | | | | | | |  |  | |
| 6 | | | | | | | | |  |
| 7 |  |  | | | |  |  | | |
| 8 | | | | | |  | | | |
| 9 | | | | | | | | | |

¿Cuántos huevos de Pascua hay?

¿Cuántos  hay?

¿Cuántos espacios en blanco hay?

¡MatesLibres.Com les desea una Felices Pascuas!

Mapa de Pascuas (G) Respuestas

¿Cuáles son las coordenadas de cada huevo de Pascua?

| | A | B | C | D | E | F | G | H | I |
|---|----|----|---|---|---|----|----|----|----|
| 1 | | | | | | F1 | | | I1 |
| 2 | A2 | | | | | | | | I2 |
| 3 | | | | | | | | | |
| 4 | | B4 | | | | | G4 | | |
| 5 | | | | | | | G5 | H5 | |
| 6 | | | | | | | | | I6 |
| 7 | A7 | B7 | | | | F7 | G7 | | |
| 8 | | | | | | F8 | | | |
| 9 | | | | | | | | | |

¿Cuántos huevos de Pascua hay?

14

¿Cuántos  hay?

1



















¿Cuántos espacios en blanco hay?

67

¡MatesLibres.Com les desea una Felices Pascuas!

Mapa de Pascuas (H)

¿Cuáles son las coordenadas de cada huevo de Pascua?

| | A | B | C | D | E | F | G | H | I |
|---|---|---|---|---|---|--|---|---|---|
| 1 | |  | | | | | | | |
| 2 | | |  |  |  |  | | |  |
| 3 | | | | | |  |  | |  |
| 4 | | | | | | | | | |
| 5 |  | |  | |  | |  | | |
| 6 | |  | |  | | | |  | |
| 7 | | | |  |  | | | | |
| 8 | | | | | | | | | |
| 9 | | | | | | | | | |

¿Cuántos huevos de Pascua hay?

¿Cuántos  hay?

¿Cuántos espacios en blanco hay?

¡MatesLibres.Com les desea una Felices Pascuas!

Mapa de Pascuas (H) Respuestas

¿Cuáles son las coordenadas de cada huevo de Pascua?

| | A | B | C | D | E | F | G | H | I |
|---|----|----|----|----|----|----|----|----|----|
| 1 | | B1 | | | | | | | |
| 2 | | | C2 | D2 | E2 | F2 | | | I2 |
| 3 | | | | | | F3 | G3 | | I3 |
| 4 | | | | | | | | | |
| 5 | A5 | | C5 | | E5 | | G5 | | |
| 6 | | B6 | | D6 | | | | H6 | |
| 7 | | | | D7 | E7 | | | | |
| 8 | | | | | | | | | |
| 9 | | | | | | | | | |

¿Cuántos huevos de Pascua hay?

18

¿Cuántos  hay?

1




















¿Cuántos espacios en blanco hay?

63

¡MatesLibres.Com les desea una Felices Pascuas!

Mapa de Pascuas (I)

¿Cuáles son las coordenadas de cada huevo de Pascua?

| | A | B | C | D | E | F | G | H | I |
|---|---|---|---|---|---|--|---|---|---|
| 1 |  | | | |  |  |  | | |
| 2 | | | | |  | | |  | |
| 3 | | | | | | | | |  |
| 4 | | | | | | | |  |  |
| 5 |  |  | | | | | | |  |
| 6 | | |  | | | |  | | |
| 7 | |  | | | | | | | |
| 8 | | |  | | | |  | | |
| 9 | |  | |  | | | | | |

¿Cuántos huevos de Pascua hay?

¿Cuántos  hay?

¿Cuántos espacios en blanco hay?

¡MatesLibres.Com les desea una Felices Pascuas!

Mapa de Pascuas (I) Respuestas

¿Cuáles son las coordenadas de cada huevo de Pascua?

| | A | B | C | D | E | F | G | H | I |
|---|----|----|----|----|----|----|----|----|----|
| 1 | A1 | | | | E1 | F1 | G1 | | |
| 2 | | | | | E2 | | | H2 | |
| 3 | | | | | | | | | I3 |
| 4 | | | | | | | | H4 | I4 |
| 5 | A5 | B5 | | | | | | | I5 |
| 6 | | | C6 | | | | G6 | | |
| 7 | | B7 | | | | | | | |
| 8 | | | C8 | | | | G8 | | |
| 9 | | B9 | | D9 | | | | | |

¿Cuántos huevos de Pascua hay?

19

¿Cuántos  hay?

1














¿Cuántos espacios en blanco hay?

62

¡MatesLibres.Com les desea una Felices Pascuas!

Mapa de Pascuas (J)

¿Cuáles son las coordenadas de cada huevo de Pascua?

| | A | B | C | D | E | F | G | H | I |
|---|---|---|---|---|---|--|---|---|---|
| 1 | | | |  | | | | |  |
| 2 |  | | | |  | | | | |
| 3 | |  | | | |  | | | |
| 4 | | | | | | | | | |
| 5 | | | | | | | | | |
| 6 | | | | | | | | | |
| 7 | | |  |  | | | | | |
| 8 |  | | |  |  |  | | | |
| 9 | | |  | | | | | | |

¿Cuántos huevos de Pascua hay?

¿Cuántos  hay?

¿Cuántos espacios en blanco hay?

¡MatesLibres.Com les desea una Felices Pascuas!

Mapa de Pascuas (J) Respuestas

¿Cuáles son las coordenadas de cada huevo de Pascua?

| | A | B | C | D | E | F | G | H | I |
|---|----|----|----|----|----|----|---|---|----|
| 1 | | | | D1 | | | | | I1 |
| 2 | A2 | | | | E2 | | | | |
| 3 | | B3 | | | | F3 | | | |
| 4 | | | | | | | | | |
| 5 | | | | | | | | | |
| 6 | | | | | | | | | |
| 7 | | | C7 | D7 | | | | | |
| 8 | A8 | | | D8 | E8 | F8 | | | |
| 9 | | | C9 | | | | | | |

¿Cuántos huevos de Pascua hay?

13

¿Cuántos  hay?

0

¿Cuántos espacios en blanco hay?

68

¡MatesLibres.Com les desea una Felices Pascuas!