



CONTAR HUEVOS DE PASCUAS (6)

Cuente la cantidad en cada conjunto de huevos de Pascuas.


1. Hay ____ huevos de Pascuas en el conjunto siguiente.




2. Hay ____ huevos de Pascuas en el conjunto siguiente.




3. Hay ____ huevos de Pascuas en el conjunto siguiente.




4. Hay ____ huevos de Pascuas en el conjunto siguiente.



5. Hay ____ huevos de Pascuas en el conjunto siguiente.




6. Hay ____ huevos de Pascuas en el conjunto siguiente.




CONTAR HUEVOS DE PASCUAS (O) RESPUESTAS

Cuente la cantidad en cada conjunto de huevos de Pascuas.


1. Hay 8 huevos de Pascuas en el conjunto siguiente.




2. Hay 11 huevos de Pascuas en el conjunto siguiente.




3. Hay 10 huevos de Pascuas en el conjunto siguiente.



4. Hay 5 huevos de Pascuas en el conjunto siguiente.



5. Hay 9 huevos de Pascuas en el conjunto siguiente.



6. Hay 7 huevos de Pascuas en el conjunto siguiente.

