



# CONTAR HUEVOS DE PASCUAS (A)

Cuente la cantidad en cada conjunto de huevos de Pascuas.


1. Hay \_\_\_\_ huevos de Pascuas en el conjunto siguiente.




2. Hay \_\_\_\_ huevos de Pascuas en el conjunto siguiente.



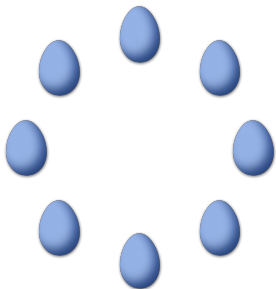
3. Hay \_\_\_\_ huevos de Pascuas en el conjunto siguiente.



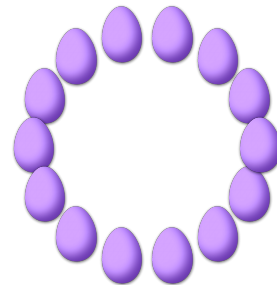
4. Hay \_\_\_\_ huevos de Pascuas en el conjunto siguiente.



5. Hay \_\_\_\_ huevos de Pascuas en el conjunto siguiente.




6. Hay \_\_\_\_ huevos de Pascuas en el conjunto siguiente.




# CONTAR HUEVOS DE PASCUAS (A) RESPUESTAS

Cuente la cantidad en cada conjunto de huevos de Pascuas.


1. Hay 9 huevos de Pascuas en el conjunto siguiente.




2. Hay 10 huevos de Pascuas en el conjunto siguiente.



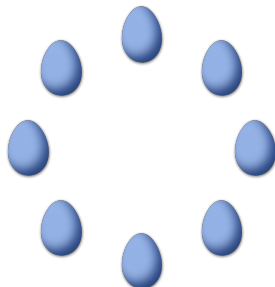
3. Hay 5 huevos de Pascuas en el conjunto siguiente.



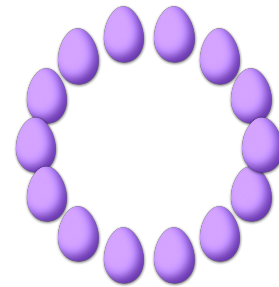
4. Hay 13 huevos de Pascuas en el conjunto siguiente.



5. Hay 8 huevos de Pascuas en el conjunto siguiente.




6. Hay 14 huevos de Pascuas en el conjunto siguiente.




# CONTAR HUEVOS DE PASCUAS (B)

Cuente la cantidad en cada conjunto de huevos de Pascuas.


1. Hay \_\_\_\_ huevos de Pascuas en el conjunto siguiente.



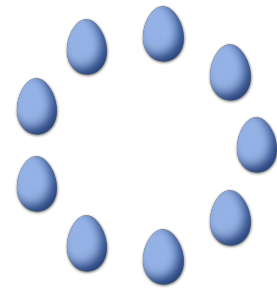
2. Hay \_\_\_\_ huevos de Pascuas en el conjunto siguiente.




3. Hay \_\_\_\_ huevos de Pascuas en el conjunto siguiente.



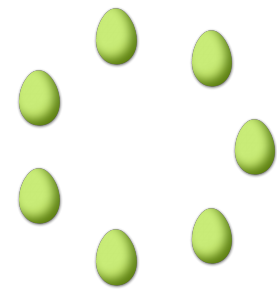
4. Hay \_\_\_\_ huevos de Pascuas en el conjunto siguiente.



5. Hay \_\_\_\_ huevos de Pascuas en el conjunto siguiente.




6. Hay \_\_\_\_ huevos de Pascuas en el conjunto siguiente.




# CONTAR HUEVOS DE PASCUAS (B) RESPUESTAS

Cuente la cantidad en cada conjunto de huevos de Pascuas.


1. Hay 10 huevos de Pascuas en el conjunto siguiente.



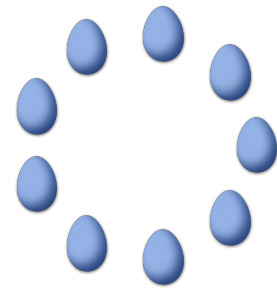
2. Hay 8 huevos de Pascuas en el conjunto siguiente.




3. Hay 12 huevos de Pascuas en el conjunto siguiente.



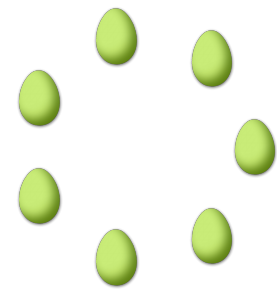
4. Hay 9 huevos de Pascuas en el conjunto siguiente.



5. Hay 11 huevos de Pascuas en el conjunto siguiente.




6. Hay 7 huevos de Pascuas en el conjunto siguiente.




# CONTAR HUEVOS DE PASCUAS CO

Cuente la cantidad en cada conjunto de huevos de Pascuas.

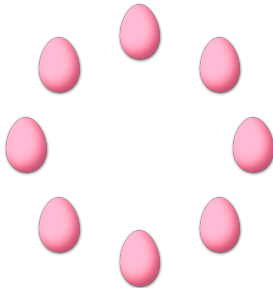
1. Hay \_\_\_\_ huevos de Pascuas en el conjunto siguiente.




2. Hay \_\_\_\_ huevos de Pascuas en el conjunto siguiente.




3. Hay \_\_\_\_ huevos de Pascuas en el conjunto siguiente.



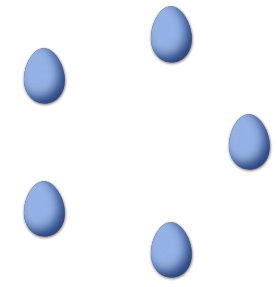
4. Hay \_\_\_\_ huevos de Pascuas en el conjunto siguiente.



5. Hay \_\_\_\_ huevos de Pascuas en el conjunto siguiente.




6. Hay \_\_\_\_ huevos de Pascuas en el conjunto siguiente.




# CONTAR HUEVOS DE PASCUAS (C) RESPUESTAS

Cuente la cantidad en cada conjunto de huevos de Pascuas.

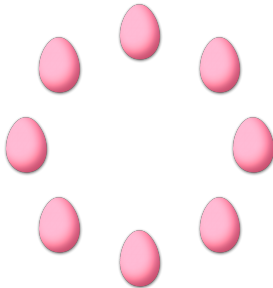
1. Hay 13 huevos de Pascuas en el conjunto siguiente.




2. Hay 6 huevos de Pascuas en el conjunto siguiente.




3. Hay 8 huevos de Pascuas en el conjunto siguiente.



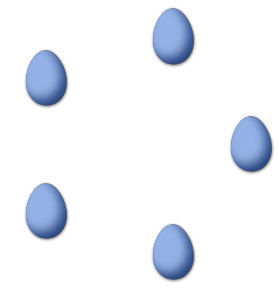
4. Hay 9 huevos de Pascuas en el conjunto siguiente.



5. Hay 14 huevos de Pascuas en el conjunto siguiente.




6. Hay 5 huevos de Pascuas en el conjunto siguiente.




# CONTAR HUEVOS DE PASCUAS (1)

Cuente la cantidad en cada conjunto de huevos de Pascuas.


1. Hay \_\_\_\_ huevos de Pascuas en el conjunto siguiente.




2. Hay \_\_\_\_ huevos de Pascuas en el conjunto siguiente.




3. Hay \_\_\_\_ huevos de Pascuas en el conjunto siguiente.



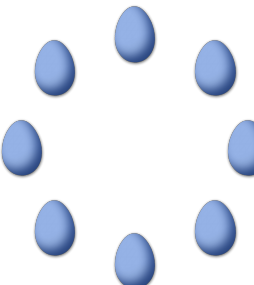
4. Hay \_\_\_\_ huevos de Pascuas en el conjunto siguiente.



5. Hay \_\_\_\_ huevos de Pascuas en el conjunto siguiente.




6. Hay \_\_\_\_ huevos de Pascuas en el conjunto siguiente.




# CONTAR HUEVOS DE PASCUAS (D) RESPUESTAS

Cuente la cantidad en cada conjunto de huevos de Pascuas.


1. Hay 10 huevos de Pascuas en el conjunto siguiente.




2. Hay 5 huevos de Pascuas en el conjunto siguiente.




3. Hay 6 huevos de Pascuas en el conjunto siguiente.



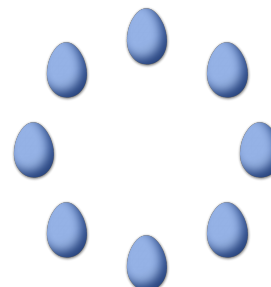
4. Hay 9 huevos de Pascuas en el conjunto siguiente.



5. Hay 14 huevos de Pascuas en el conjunto siguiente.



6. Hay 8 huevos de Pascuas en el conjunto siguiente.







# CONTAR HUEVOS DE PASCUAS (E)

Cuente la cantidad en cada conjunto de huevos de Pascuas.


1. Hay \_\_\_\_ huevos de Pascuas en el conjunto siguiente.



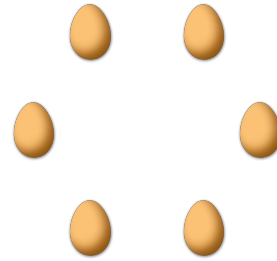
2. Hay \_\_\_\_ huevos de Pascuas en el conjunto siguiente.



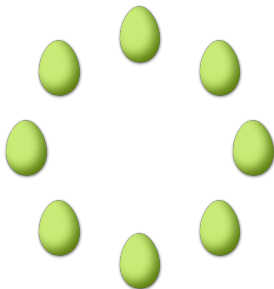
3. Hay \_\_\_\_ huevos de Pascuas en el conjunto siguiente.




4. Hay \_\_\_\_ huevos de Pascuas en el conjunto siguiente.



5. Hay \_\_\_\_ huevos de Pascuas en el conjunto siguiente.





6. Hay \_\_\_\_ huevos de Pascuas en el conjunto siguiente.



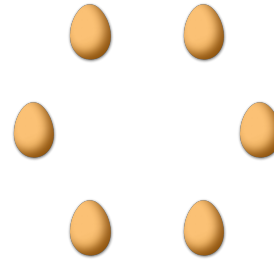

# CONTAR HUEVOS DE PASCUAS (E) RESPUESTAS

Cuente la cantidad en cada conjunto de huevos de Pascuas.

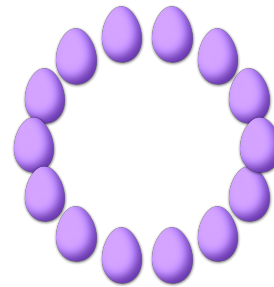
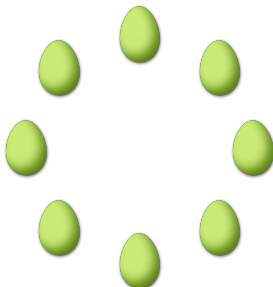
1. Hay 15 huevos de Pascuas en el conjunto siguiente.
2. Hay 13 huevos de Pascuas en el conjunto siguiente.



3. Hay 9 huevos de Pascuas en el conjunto siguiente.
4. Hay 6 huevos de Pascuas en el conjunto siguiente.




5. Hay 8 huevos de Pascuas en el conjunto siguiente.
6. Hay 14 huevos de Pascuas en el conjunto siguiente.




# CONTAR HUEVOS DE PASCUAS (F)

Cuente la cantidad en cada conjunto de huevos de Pascuas.


1. Hay \_\_\_\_ huevos de Pascuas en el conjunto siguiente.



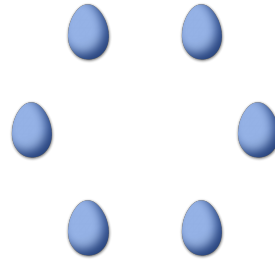
2. Hay \_\_\_\_ huevos de Pascuas en el conjunto siguiente.



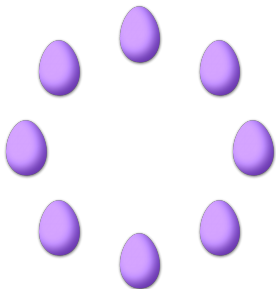
3. Hay \_\_\_\_ huevos de Pascuas en el conjunto siguiente.




4. Hay \_\_\_\_ huevos de Pascuas en el conjunto siguiente.



5. Hay \_\_\_\_ huevos de Pascuas en el conjunto siguiente.





6. Hay \_\_\_\_ huevos de Pascuas en el conjunto siguiente.



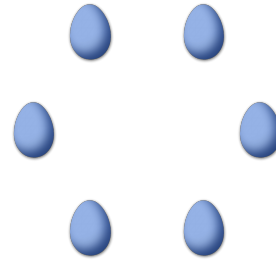

# CONTAR HUEVOS DE PASCUAS (F) RESPUESTAS

Cuente la cantidad en cada conjunto de huevos de Pascuas.


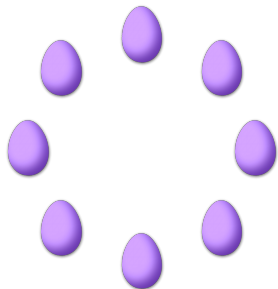
1. Hay 12 huevos de Pascuas en el conjunto siguiente.
2. Hay 11 huevos de Pascuas en el conjunto siguiente.



3. Hay 9 huevos de Pascuas en el conjunto siguiente.
4. Hay 6 huevos de Pascuas en el conjunto siguiente.




5. Hay 8 huevos de Pascuas en el conjunto siguiente.
6. Hay 10 huevos de Pascuas en el conjunto siguiente.




# CONTAR HUEVOS DE PASCUAS (6)

Cuente la cantidad en cada conjunto de huevos de Pascuas.


1. Hay \_\_\_\_ huevos de Pascuas en el conjunto siguiente.




2. Hay \_\_\_\_ huevos de Pascuas en el conjunto siguiente.




3. Hay \_\_\_\_ huevos de Pascuas en el conjunto siguiente.




4. Hay \_\_\_\_ huevos de Pascuas en el conjunto siguiente.



5. Hay \_\_\_\_ huevos de Pascuas en el conjunto siguiente.




6. Hay \_\_\_\_ huevos de Pascuas en el conjunto siguiente.




# CONTAR HUEVOS DE PASCUAS (O) RESPUESTAS

Cuente la cantidad en cada conjunto de huevos de Pascuas.


1. Hay 8 huevos de Pascuas en el conjunto siguiente.




2. Hay 11 huevos de Pascuas en el conjunto siguiente.




3. Hay 10 huevos de Pascuas en el conjunto siguiente.




4. Hay 5 huevos de Pascuas en el conjunto siguiente.



5. Hay 9 huevos de Pascuas en el conjunto siguiente.




6. Hay 7 huevos de Pascuas en el conjunto siguiente.



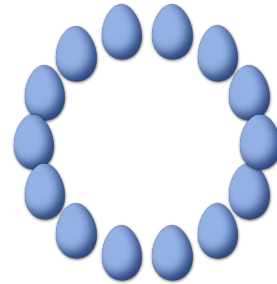
# CONTAR HUEVOS DE PASCUAS (H)

Cuente la cantidad en cada conjunto de huevos de Pascuas.


1. Hay \_\_\_\_ huevos de Pascuas en el conjunto siguiente.




2. Hay \_\_\_\_ huevos de Pascuas en el conjunto siguiente.



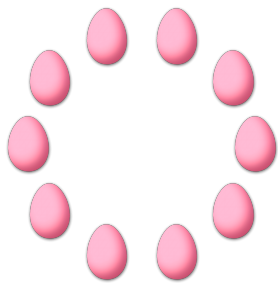
3. Hay \_\_\_\_ huevos de Pascuas en el conjunto siguiente.




4. Hay \_\_\_\_ huevos de Pascuas en el conjunto siguiente.



5. Hay \_\_\_\_ huevos de Pascuas en el conjunto siguiente.




6. Hay \_\_\_\_ huevos de Pascuas en el conjunto siguiente.



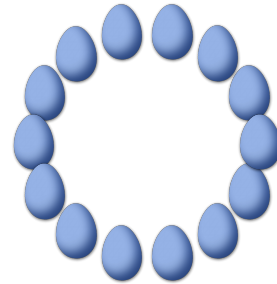
# CONTAR HUEVOS DE PASCUAS (4) RESPUESTAS

Cuente la cantidad en cada conjunto de huevos de Pascuas.


1. Hay 8 huevos de Pascuas en el conjunto siguiente.




2. Hay 14 huevos de Pascuas en el conjunto siguiente.



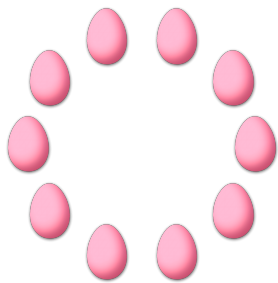
3. Hay 12 huevos de Pascuas en el conjunto siguiente.




4. Hay 11 huevos de Pascuas en el conjunto siguiente.



5. Hay 10 huevos de Pascuas en el conjunto siguiente.



6. Hay 9 huevos de Pascuas en el conjunto siguiente.







# CONTAR HUEVOS DE PASCUAS 01

Cuente la cantidad en cada conjunto de huevos de Pascuas.


1. Hay \_\_\_\_ huevos de Pascuas en el conjunto siguiente.




2. Hay \_\_\_\_ huevos de Pascuas en el conjunto siguiente.



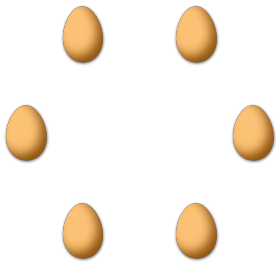
3. Hay \_\_\_\_ huevos de Pascuas en el conjunto siguiente.




4. Hay \_\_\_\_ huevos de Pascuas en el conjunto siguiente.



5. Hay \_\_\_\_ huevos de Pascuas en el conjunto siguiente.




6. Hay \_\_\_\_ huevos de Pascuas en el conjunto siguiente.




# CONTAR HUEVOS DE PASCUAS O RESPUESTAS

Cuente la cantidad en cada conjunto de huevos de Pascuas.


1. Hay 12 huevos de Pascuas en el conjunto siguiente.




2. Hay 5 huevos de Pascuas en el conjunto siguiente.



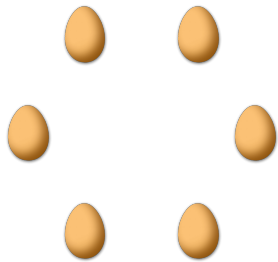
3. Hay 8 huevos de Pascuas en el conjunto siguiente.




4. Hay 13 huevos de Pascuas en el conjunto siguiente.



5. Hay 6 huevos de Pascuas en el conjunto siguiente.




6. Hay 11 huevos de Pascuas en el conjunto siguiente.




# CONTAR HUEVOS DE PASCUAS (1)

Cuente la cantidad en cada conjunto de huevos de Pascuas.


1. Hay \_\_\_\_ huevos de Pascuas en el conjunto siguiente.




2. Hay \_\_\_\_ huevos de Pascuas en el conjunto siguiente.



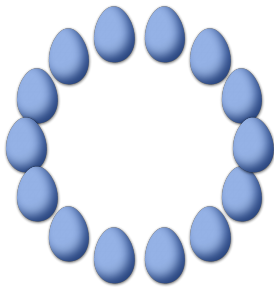
3. Hay \_\_\_\_ huevos de Pascuas en el conjunto siguiente.




4. Hay \_\_\_\_ huevos de Pascuas en el conjunto siguiente.



5. Hay \_\_\_\_ huevos de Pascuas en el conjunto siguiente.




6. Hay \_\_\_\_ huevos de Pascuas en el conjunto siguiente.




# CONTAR HUEVOS DE PASCUAS (O) RESPUESTAS

Cuente la cantidad en cada conjunto de huevos de Pascuas.


1. Hay 5 huevos de Pascuas en el conjunto siguiente.




2. Hay 9 huevos de Pascuas en el conjunto siguiente.



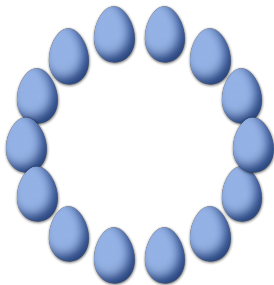
3. Hay 12 huevos de Pascuas en el conjunto siguiente.



4. Hay 10 huevos de Pascuas en el conjunto siguiente.



5. Hay 14 huevos de Pascuas en el conjunto siguiente.



6. Hay 11 huevos de Pascuas en el conjunto siguiente.

