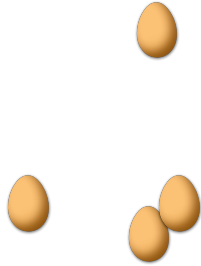


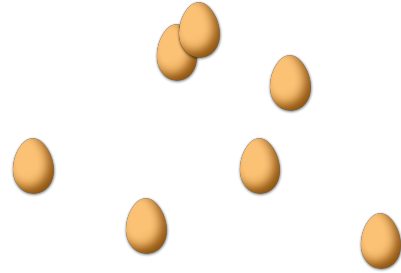
# CONTAR HUEVOS DE PASCUAS (A)

Cuente la cantidad en cada conjunto de huevos de Pascuas.

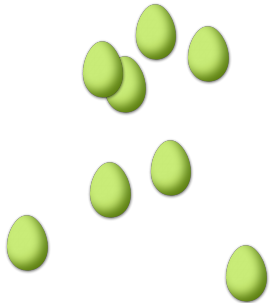
1. Hay \_\_\_\_ huevos de Pascuas en el conjunto siguiente.



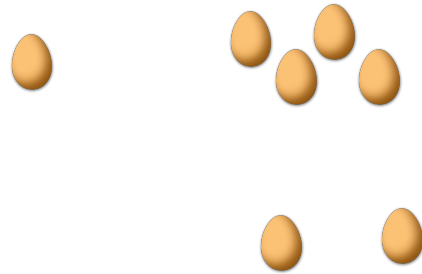
2. Hay \_\_\_\_ huevos de Pascuas en el conjunto siguiente.



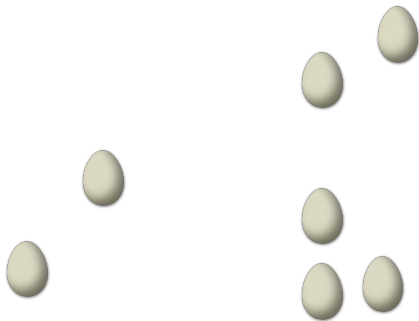
3. Hay \_\_\_\_ huevos de Pascuas en el conjunto siguiente.




4. Hay \_\_\_\_ huevos de Pascuas en el conjunto siguiente.



5. Hay \_\_\_\_ huevos de Pascuas en el conjunto siguiente.



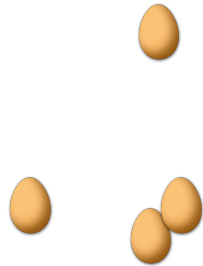
6. Hay \_\_\_\_ huevos de Pascuas en el conjunto siguiente.



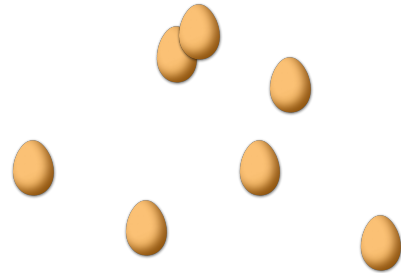
# CONTAR HUEVOS DE PASCUAS (A) RESPUESTAS

Cuente la cantidad en cada conjunto de huevos de Pascuas.

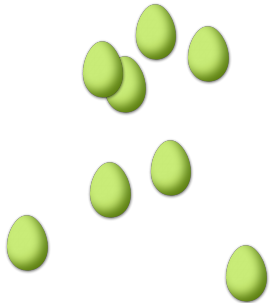
1. Hay 4 huevos de Pascuas en el conjunto siguiente.



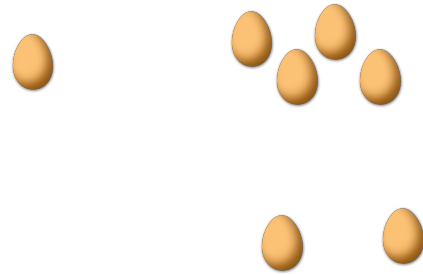
2. Hay 7 huevos de Pascuas en el conjunto siguiente.




3. Hay 8 huevos de Pascuas en el conjunto siguiente.



4. Hay 7 huevos de Pascuas en el conjunto siguiente.



5. Hay 7 huevos de Pascuas en el conjunto siguiente.



6. Hay 9 huevos de Pascuas en el conjunto siguiente.

