


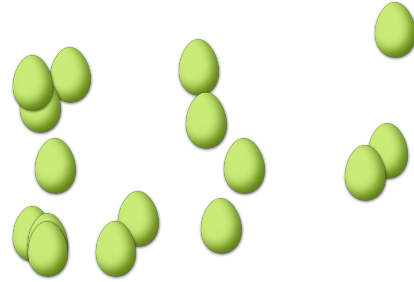
# CONTAR HUEVOS DE PASCUAS (A)

Cuente la cantidad en cada conjunto de huevos de Pascuas.

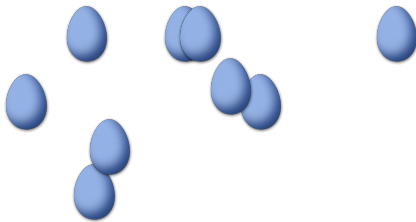
1. Hay \_\_\_\_ huevos de Pascuas en el conjunto siguiente.




2. Hay \_\_\_\_ huevos de Pascuas en el conjunto siguiente.



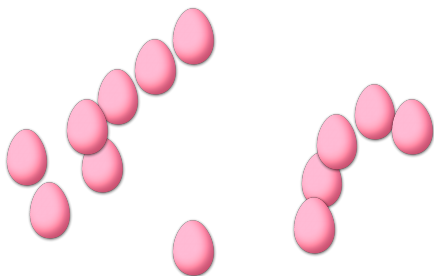
3. Hay \_\_\_\_ huevos de Pascuas en el conjunto siguiente.




4. Hay \_\_\_\_ huevos de Pascuas en el conjunto siguiente.



5. Hay \_\_\_\_ huevos de Pascuas en el conjunto siguiente.




6. Hay \_\_\_\_ huevos de Pascuas en el conjunto siguiente.



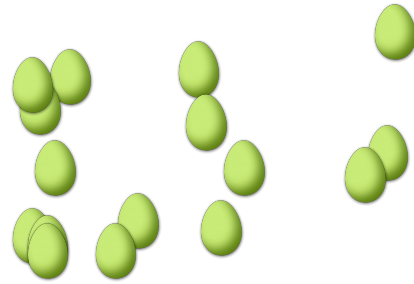
# CONTAR HUEVOS DE PASCUAS (A) RESPUESTAS

Cuente la cantidad en cada conjunto de huevos de Pascuas.

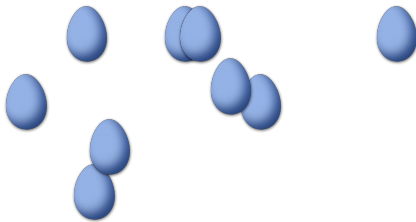
1. Hay 7 huevos de Pascuas en el conjunto siguiente.




2. Hay 16 huevos de Pascuas en el conjunto siguiente.



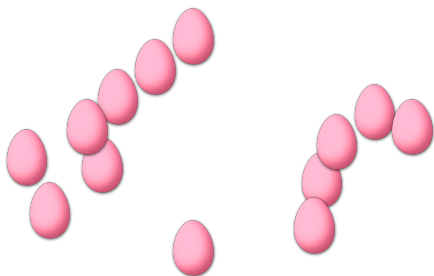
3. Hay 9 huevos de Pascuas en el conjunto siguiente.



4. Hay 16 huevos de Pascuas en el conjunto siguiente.



5. Hay 13 huevos de Pascuas en el conjunto siguiente.



6. Hay 18 huevos de Pascuas en el conjunto siguiente.

