


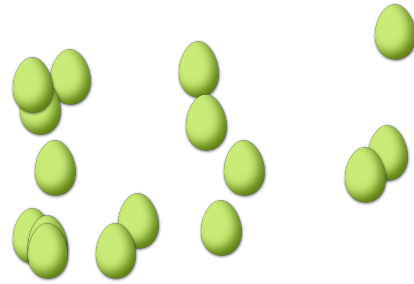
CONTAR HUEVOS DE PASCUAS (A)

Cuente la cantidad en cada conjunto de huevos de Pascuas.

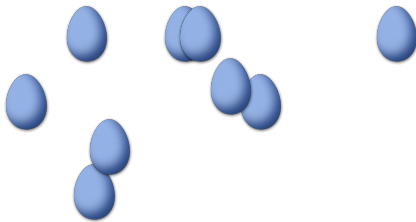
1. Hay ____ huevos de Pascuas en el conjunto siguiente.




2. Hay ____ huevos de Pascuas en el conjunto siguiente.



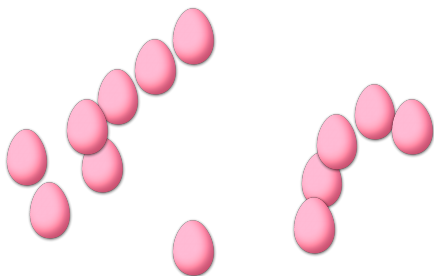
3. Hay ____ huevos de Pascuas en el conjunto siguiente.




4. Hay ____ huevos de Pascuas en el conjunto siguiente.



5. Hay ____ huevos de Pascuas en el conjunto siguiente.




6. Hay ____ huevos de Pascuas en el conjunto siguiente.



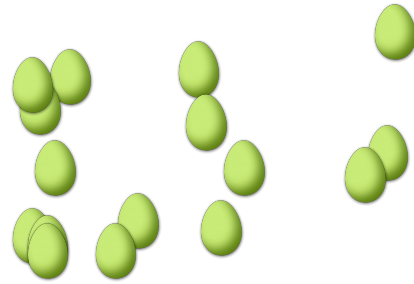
CONTAR HUEVOS DE PASCUAS (A) RESPUESTAS

Cuente la cantidad en cada conjunto de huevos de Pascuas.

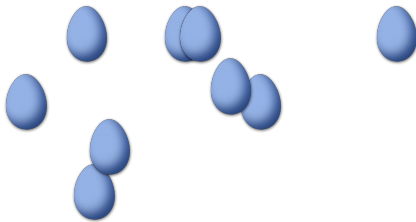
1. Hay 7 huevos de Pascuas en el conjunto siguiente.




2. Hay 16 huevos de Pascuas en el conjunto siguiente.



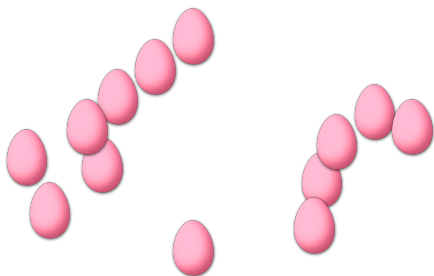
3. Hay 9 huevos de Pascuas en el conjunto siguiente.




4. Hay 16 huevos de Pascuas en el conjunto siguiente.



5. Hay 13 huevos de Pascuas en el conjunto siguiente.



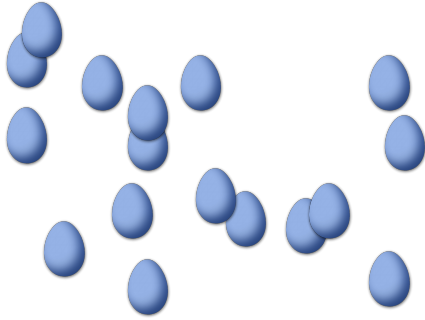
6. Hay 18 huevos de Pascuas en el conjunto siguiente.




CONTAR HUEVOS DE PASCUAS (B)

Cuente la cantidad en cada conjunto de huevos de Pascuas.


1. Hay ____ huevos de Pascuas en el conjunto siguiente.



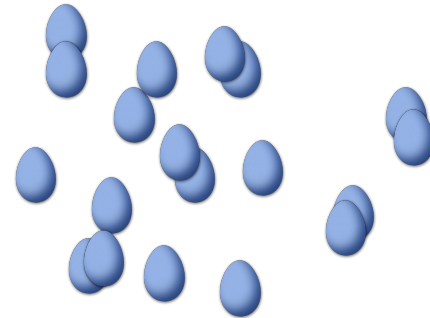
2. Hay ____ huevos de Pascuas en el conjunto siguiente.



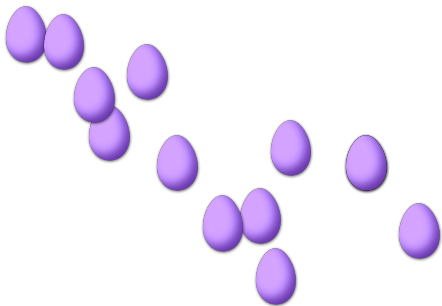
3. Hay ____ huevos de Pascuas en el conjunto siguiente.



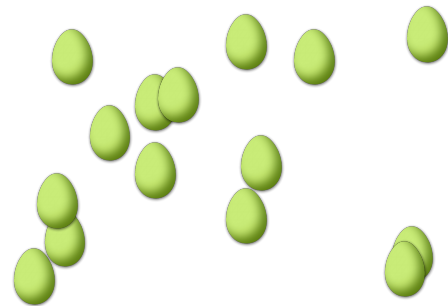
4. Hay ____ huevos de Pascuas en el conjunto siguiente.



5. Hay ____ huevos de Pascuas en el conjunto siguiente.



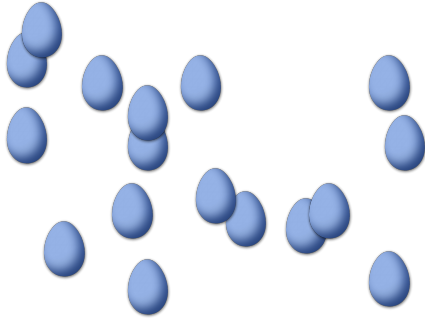
6. Hay ____ huevos de Pascuas en el conjunto siguiente.




CONTAR HUEVOS DE PASCUAS (B) RESPUESTAS

Cuente la cantidad en cada conjunto de huevos de Pascuas.

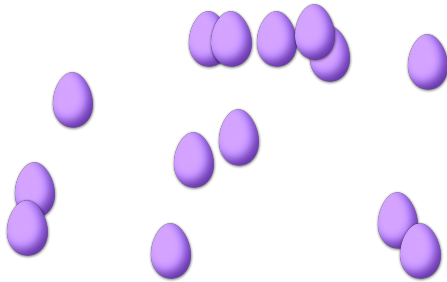
1. Hay 17 huevos de Pascuas en el conjunto siguiente.



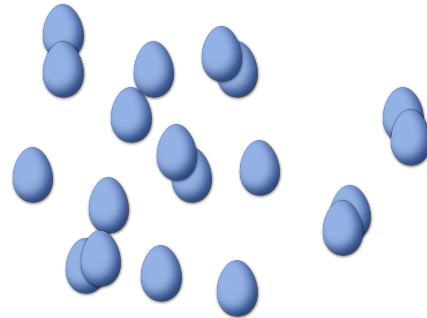
2. Hay 4 huevos de Pascuas en el conjunto siguiente.



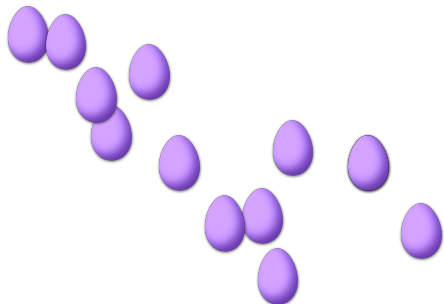
3. Hay 14 huevos de Pascuas en el conjunto siguiente.



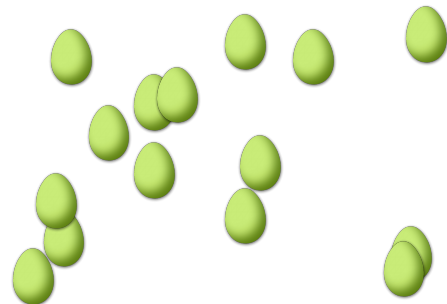
4. Hay 19 huevos de Pascuas en el conjunto siguiente.



5. Hay 13 huevos de Pascuas en el conjunto siguiente.



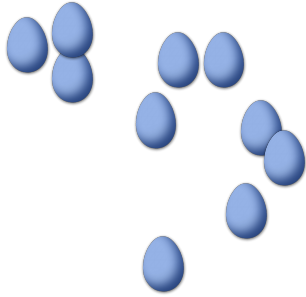
6. Hay 15 huevos de Pascuas en el conjunto siguiente.




CONTAR HUEVOS DE PASCUAS

Cuente la cantidad en cada conjunto de huevos de Pascuas.

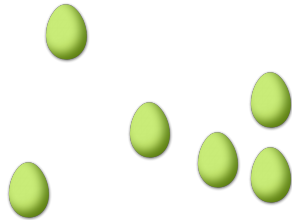
1. Hay ____ huevos de Pascuas en el conjunto siguiente.



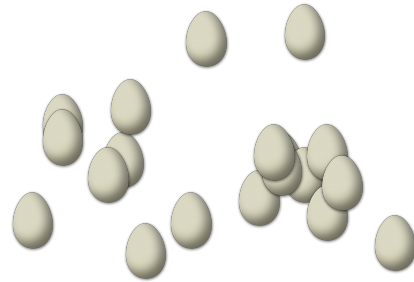
2. Hay ____ huevos de Pascuas en el conjunto siguiente.




3. Hay ____ huevos de Pascuas en el conjunto siguiente.



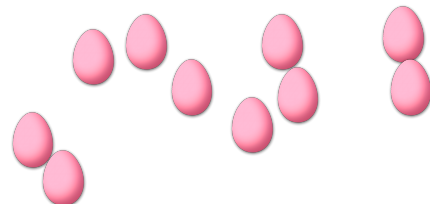
4. Hay ____ huevos de Pascuas en el conjunto siguiente.



5. Hay ____ huevos de Pascuas en el conjunto siguiente.



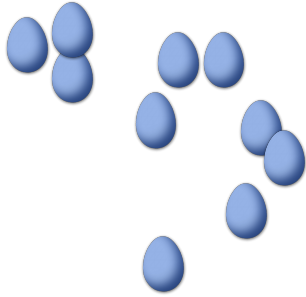
6. Hay ____ huevos de Pascuas en el conjunto siguiente.




CONTAR HUEVOS DE PASCUAS (C) RESPUESTAS

Cuente la cantidad en cada conjunto de huevos de Pascuas.

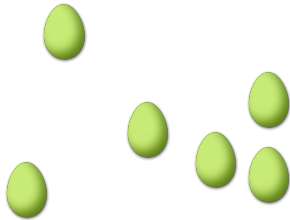
1. Hay 10 huevos de Pascuas en el conjunto siguiente.



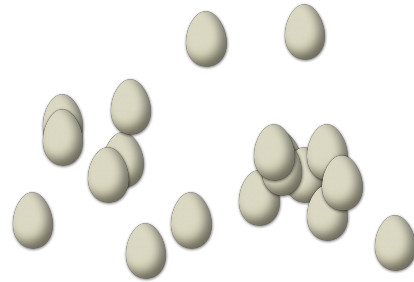
2. Hay 13 huevos de Pascuas en el conjunto siguiente.




3. Hay 6 huevos de Pascuas en el conjunto siguiente.



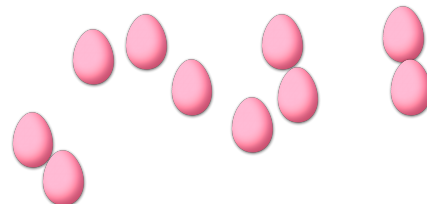
4. Hay 19 huevos de Pascuas en el conjunto siguiente.



5. Hay 12 huevos de Pascuas en el conjunto siguiente.



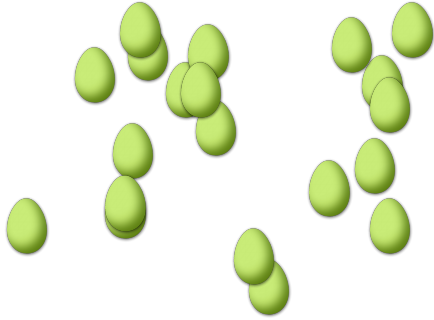
6. Hay 10 huevos de Pascuas en el conjunto siguiente.



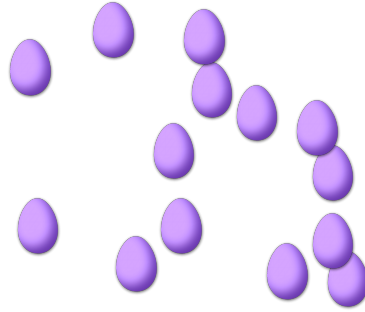
CONTAR HUEVOS DE PASCUAS (1)

Cuente la cantidad en cada conjunto de huevos de Pascuas.

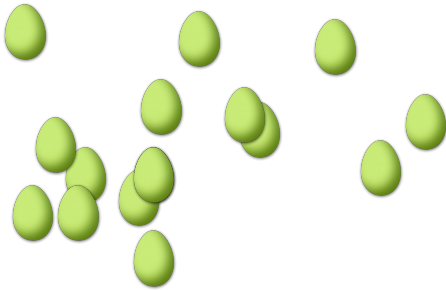
1. Hay ____ huevos de Pascuas en el conjunto siguiente.



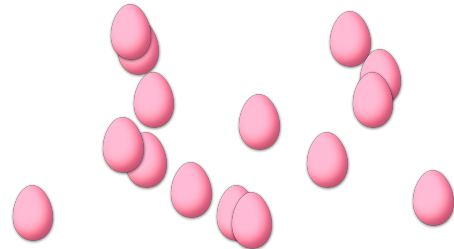
2. Hay ____ huevos de Pascuas en el conjunto siguiente.



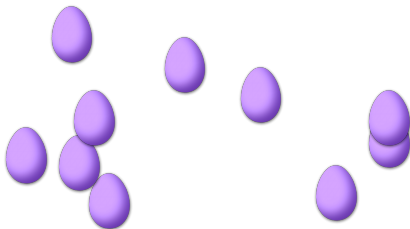
3. Hay ____ huevos de Pascuas en el conjunto siguiente.



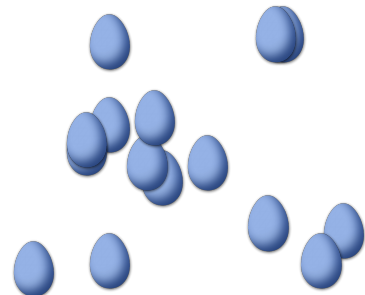
4. Hay ____ huevos de Pascuas en el conjunto siguiente.



5. Hay ____ huevos de Pascuas en el conjunto siguiente.



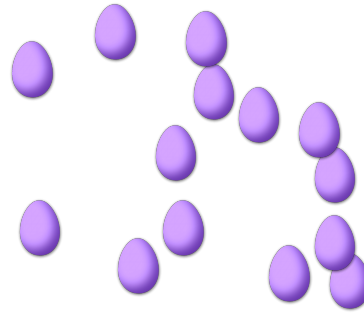
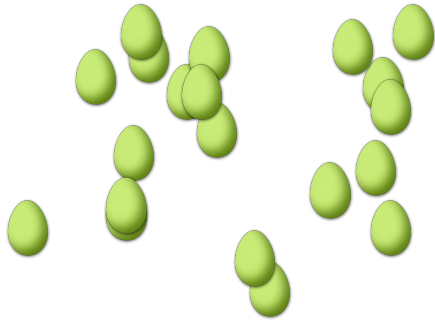
6. Hay ____ huevos de Pascuas en el conjunto siguiente.




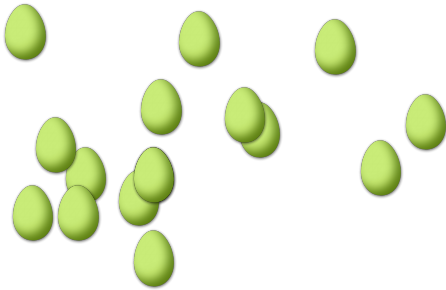
CONTAR HUEVOS DE PASCUAS (D) RESPUESTAS

Cuente la cantidad en cada conjunto de huevos de Pascuas.

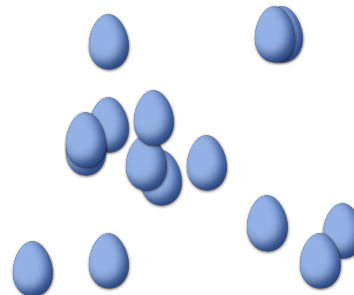
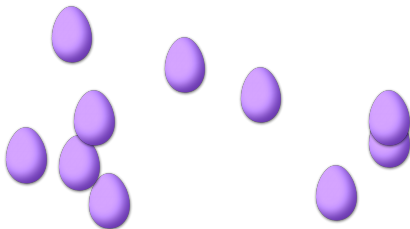
1. Hay 20 huevos de Pascuas en el conjunto siguiente.
2. Hay 14 huevos de Pascuas en el conjunto siguiente.



3. Hay 16 huevos de Pascuas en el conjunto siguiente.
4. Hay 15 huevos de Pascuas en el conjunto siguiente.



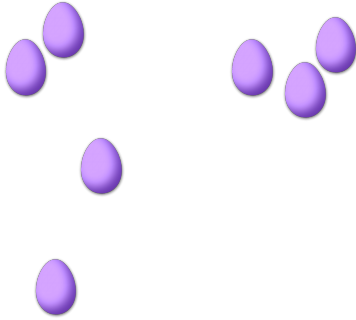
5. Hay 10 huevos de Pascuas en el conjunto siguiente.
6. Hay 15 huevos de Pascuas en el conjunto siguiente.



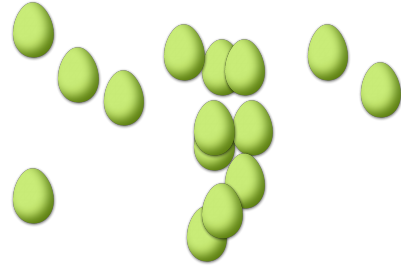
CONTAR HUEVOS DE PASCUAS (E)

Cuente la cantidad en cada conjunto de huevos de Pascuas.

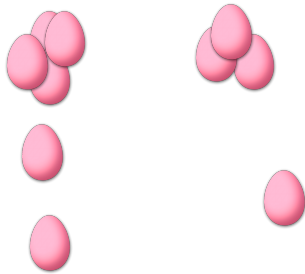
1. Hay ____ huevos de Pascuas en el conjunto siguiente.



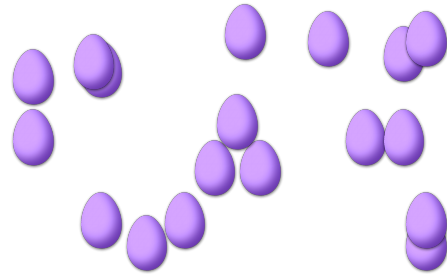
2. Hay ____ huevos de Pascuas en el conjunto siguiente.




3. Hay ____ huevos de Pascuas en el conjunto siguiente.



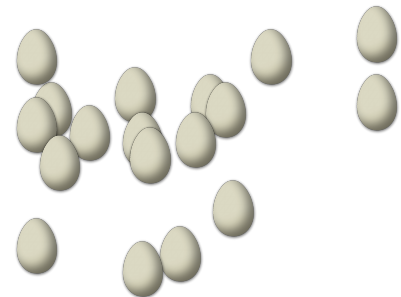
4. Hay ____ huevos de Pascuas en el conjunto siguiente.



5. Hay ____ huevos de Pascuas en el conjunto siguiente.



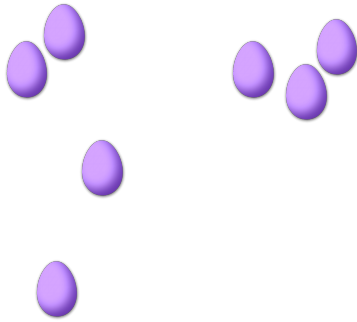
6. Hay ____ huevos de Pascuas en el conjunto siguiente.



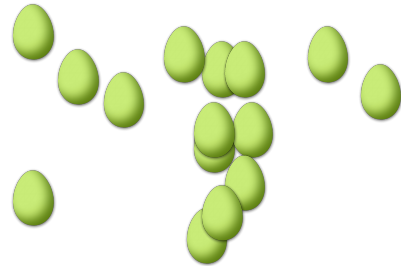
CONTAR HUEVOS DE PASCUAS (E) RESPUESTAS

Cuente la cantidad en cada conjunto de huevos de Pascuas.

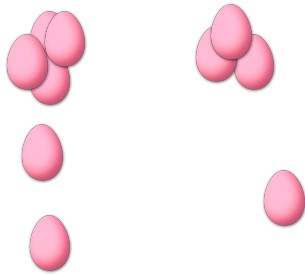
1. Hay 7 huevos de Pascuas en el conjunto siguiente.



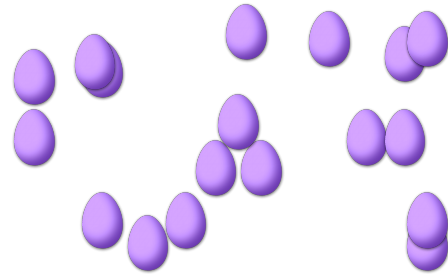
2. Hay 15 huevos de Pascuas en el conjunto siguiente.




3. Hay 10 huevos de Pascuas en el conjunto siguiente.



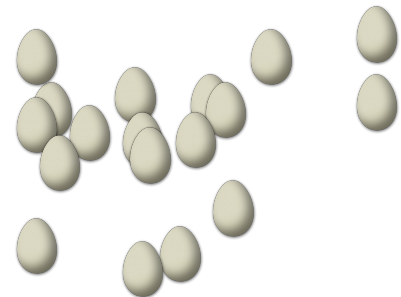
4. Hay 18 huevos de Pascuas en el conjunto siguiente.



5. Hay 8 huevos de Pascuas en el conjunto siguiente.



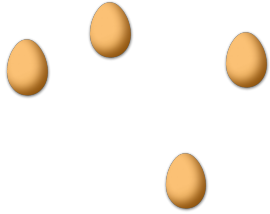
6. Hay 18 huevos de Pascuas en el conjunto siguiente.



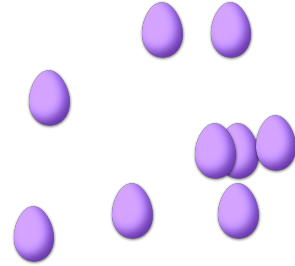
CONTAR HUEVOS DE PASCUAS (F)

Cuente la cantidad en cada conjunto de huevos de Pascuas.


1. Hay ____ huevos de Pascuas en el conjunto siguiente.



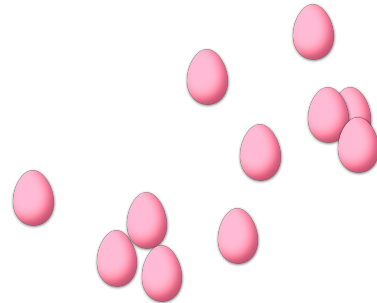
2. Hay ____ huevos de Pascuas en el conjunto siguiente.



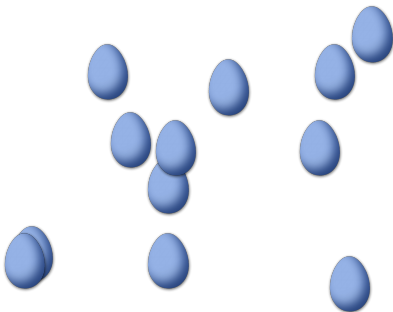
3. Hay ____ huevos de Pascuas en el conjunto siguiente.




4. Hay ____ huevos de Pascuas en el conjunto siguiente.



5. Hay ____ huevos de Pascuas en el conjunto siguiente.



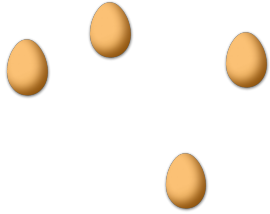
6. Hay ____ huevos de Pascuas en el conjunto siguiente.



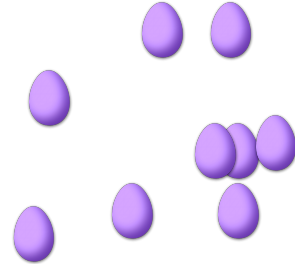
CONTAR HUEVOS DE PASCUAS (F) RESPUESTAS

Cuente la cantidad en cada conjunto de huevos de Pascuas.


1. Hay 4 huevos de Pascuas en el conjunto siguiente.



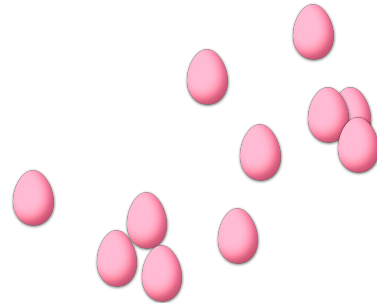
2. Hay 9 huevos de Pascuas en el conjunto siguiente.



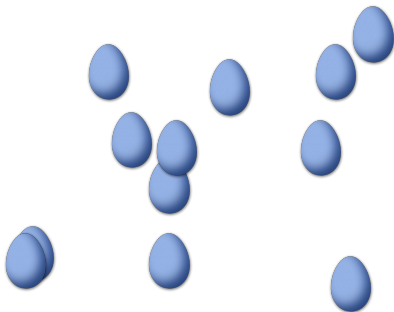
3. Hay 6 huevos de Pascuas en el conjunto siguiente.




4. Hay 11 huevos de Pascuas en el conjunto siguiente.



5. Hay 12 huevos de Pascuas en el conjunto siguiente.



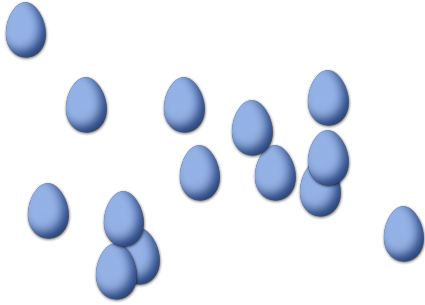
6. Hay 10 huevos de Pascuas en el conjunto siguiente.



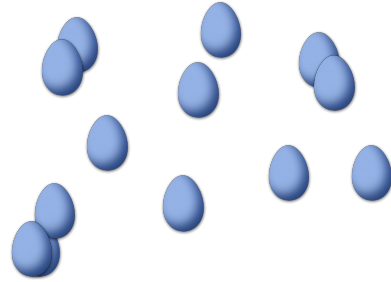
CONTAR HUEVOS DE PASCUAS (6)

Cuente la cantidad en cada conjunto de huevos de Pascuas.

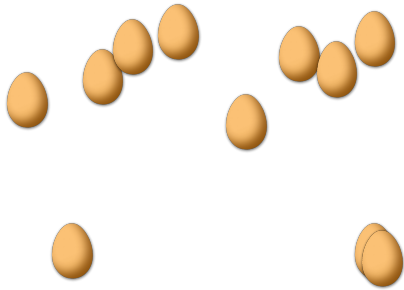
1. Hay ____ huevos de Pascuas en el conjunto siguiente.



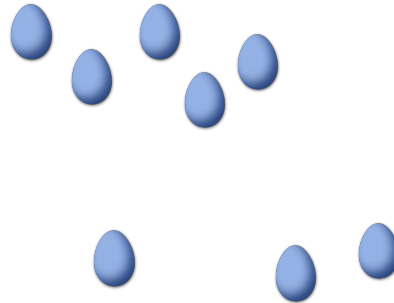
2. Hay ____ huevos de Pascuas en el conjunto siguiente.



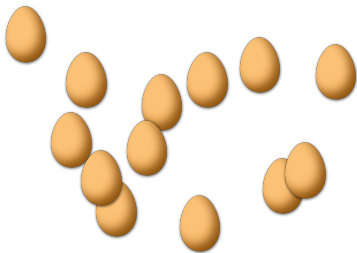
3. Hay ____ huevos de Pascuas en el conjunto siguiente.



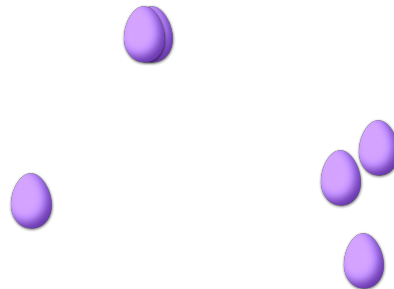
4. Hay ____ huevos de Pascuas en el conjunto siguiente.



5. Hay ____ huevos de Pascuas en el conjunto siguiente.



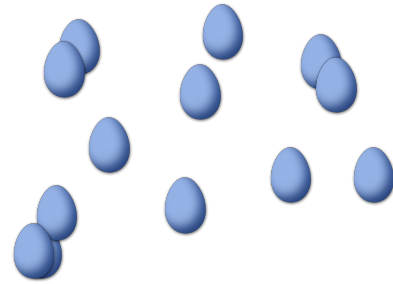
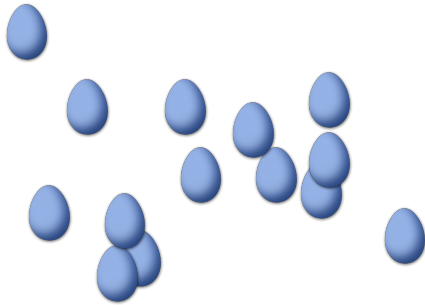
6. Hay ____ huevos de Pascuas en el conjunto siguiente.



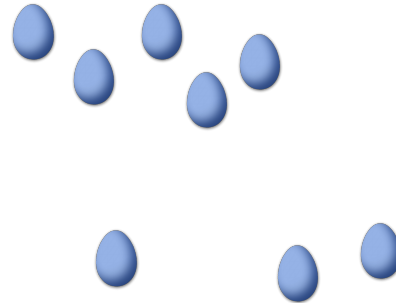
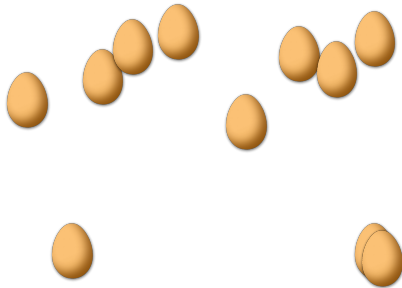
CONTAR HUEVOS DE PASCUAS (G) RESPUESTAS

Cuente la cantidad en cada conjunto de huevos de Pascuas.

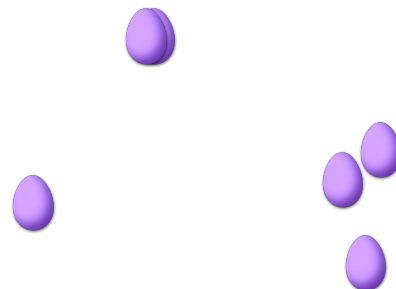
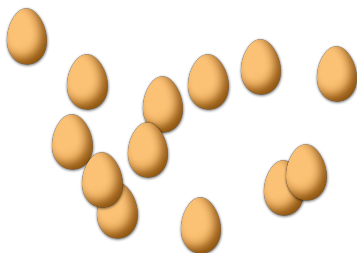
1. Hay 14 huevos de Pascuas en el conjunto siguiente.
2. Hay 13 huevos de Pascuas en el conjunto siguiente.



3. Hay 11 huevos de Pascuas en el conjunto siguiente.
4. Hay 8 huevos de Pascuas en el conjunto siguiente.



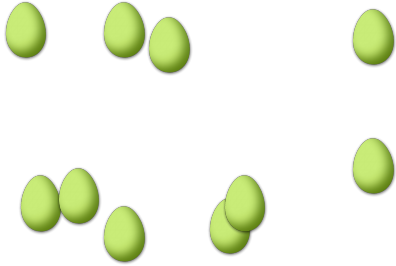
5. Hay 13 huevos de Pascuas en el conjunto siguiente.
6. Hay 6 huevos de Pascuas en el conjunto siguiente.



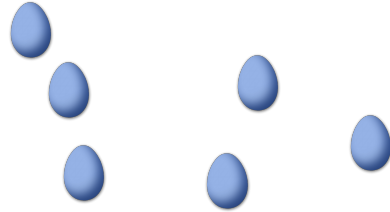
CONTAR HUEVOS DE PASCUAS (H)

Cuente la cantidad en cada conjunto de huevos de Pascuas.

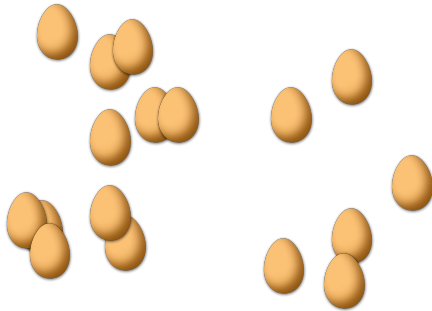
1. Hay ____ huevos de Pascuas en el conjunto siguiente.



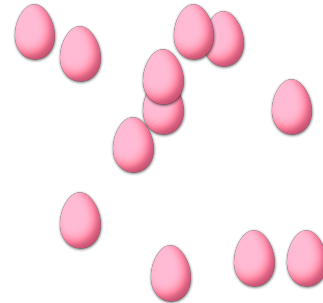
2. Hay ____ huevos de Pascuas en el conjunto siguiente.



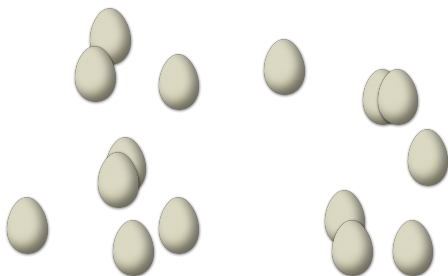
3. Hay ____ huevos de Pascuas en el conjunto siguiente.



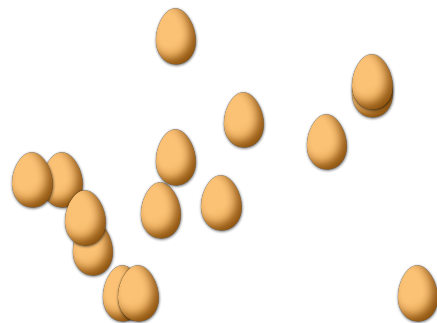
4. Hay ____ huevos de Pascuas en el conjunto siguiente.



5. Hay ____ huevos de Pascuas en el conjunto siguiente.



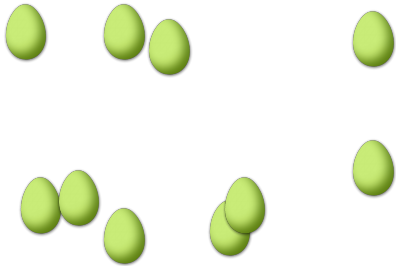
6. Hay ____ huevos de Pascuas en el conjunto siguiente.



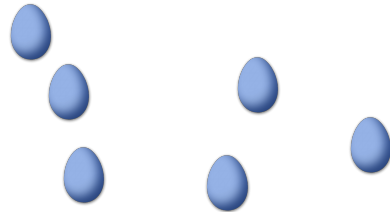
CONTAR HUEVOS DE PASCUAS (HD) RESPUESTAS

Cuente la cantidad en cada conjunto de huevos de Pascuas.

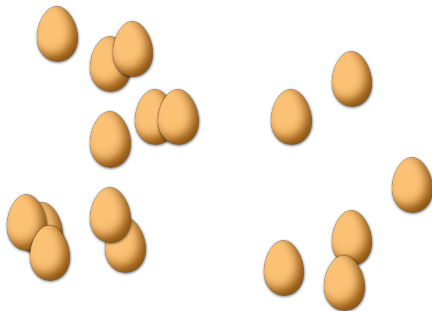
1. Hay 10 huevos de Pascuas en el conjunto siguiente.



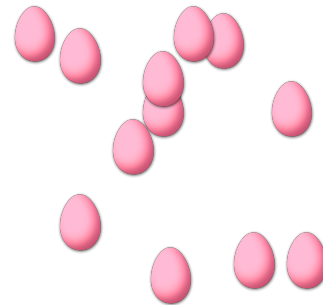
2. Hay 6 huevos de Pascuas en el conjunto siguiente.



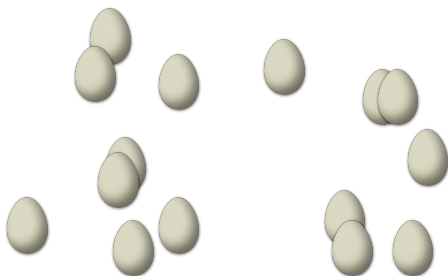
3. Hay 17 huevos de Pascuas en el conjunto siguiente.



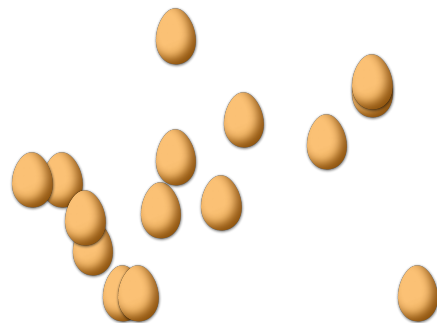
4. Hay 12 huevos de Pascuas en el conjunto siguiente.



5. Hay 15 huevos de Pascuas en el conjunto siguiente.



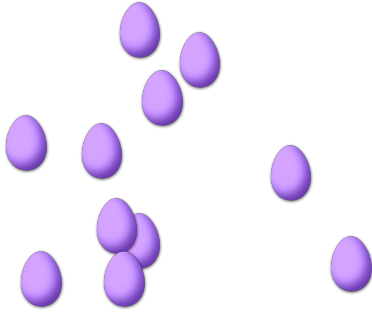
6. Hay 15 huevos de Pascuas en el conjunto siguiente.



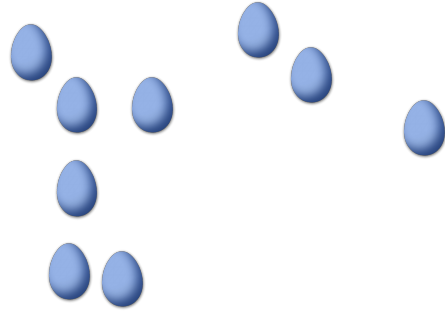
CONTAR HUEVOS DE PASCUAS 10

Cuente la cantidad en cada conjunto de huevos de Pascuas.

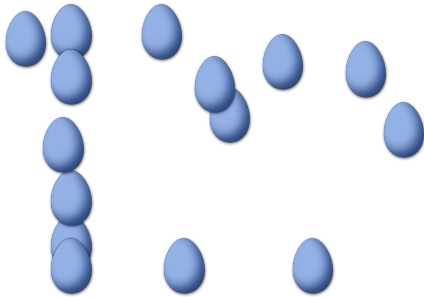
1. Hay ____ huevos de Pascuas en el conjunto siguiente.



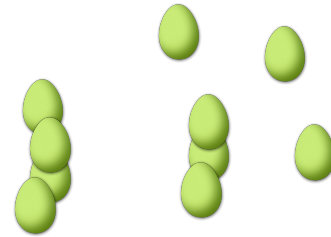
2. Hay ____ huevos de Pascuas en el conjunto siguiente.



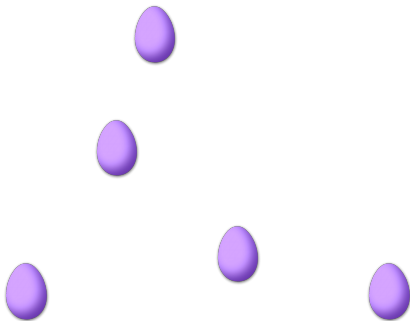
3. Hay ____ huevos de Pascuas en el conjunto siguiente.



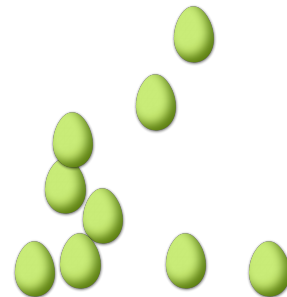
4. Hay ____ huevos de Pascuas en el conjunto siguiente.



5. Hay ____ huevos de Pascuas en el conjunto siguiente.



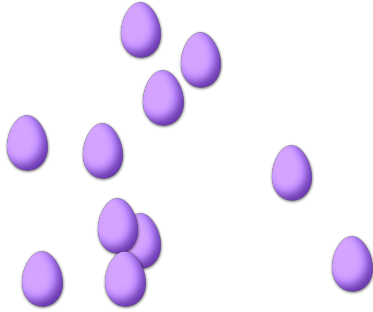
6. Hay ____ huevos de Pascuas en el conjunto siguiente.



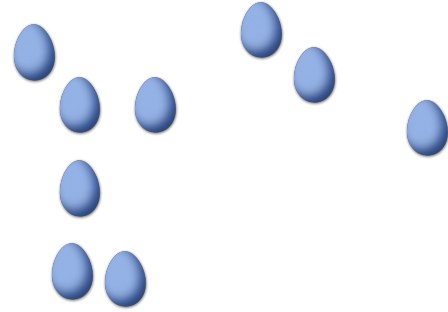
CONTAR HUEVOS DE PASCUAS O RESPUESTAS

Cuente la cantidad en cada conjunto de huevos de Pascuas.

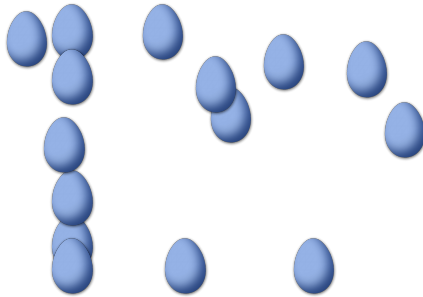
1. Hay 11 huevos de Pascuas en el conjunto siguiente.



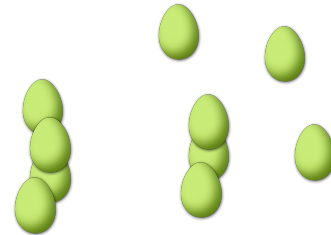
2. Hay 9 huevos de Pascuas en el conjunto siguiente.



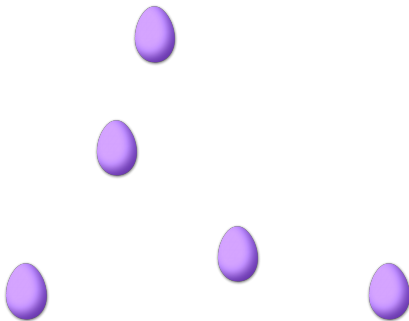
3. Hay 15 huevos de Pascuas en el conjunto siguiente.



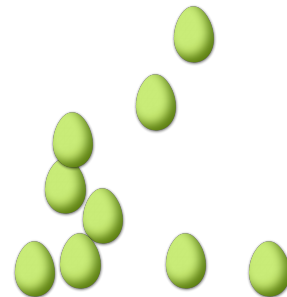
4. Hay 10 huevos de Pascuas en el conjunto siguiente.



5. Hay 5 huevos de Pascuas en el conjunto siguiente.



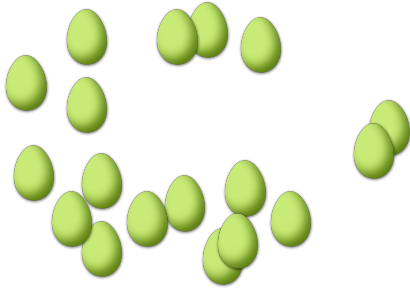
6. Hay 9 huevos de Pascuas en el conjunto siguiente.



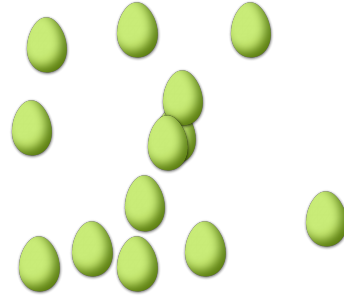
CONTAR HUEVOS DE PASCUAS (1)

Cuente la cantidad en cada conjunto de huevos de Pascuas.


1. Hay ____ huevos de Pascuas en el conjunto siguiente.



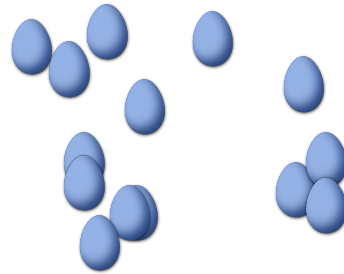
2. Hay ____ huevos de Pascuas en el conjunto siguiente.



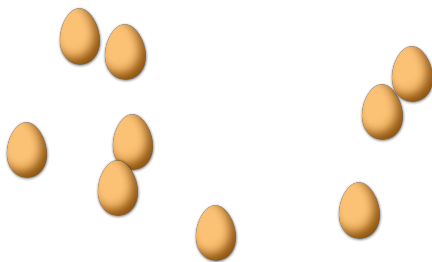
3. Hay ____ huevos de Pascuas en el conjunto siguiente.




4. Hay ____ huevos de Pascuas en el conjunto siguiente.



5. Hay ____ huevos de Pascuas en el conjunto siguiente.



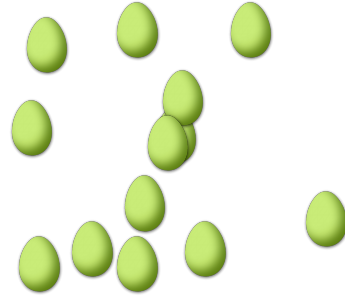
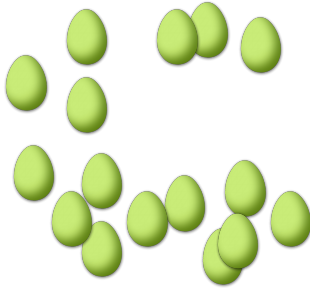
6. Hay ____ huevos de Pascuas en el conjunto siguiente.



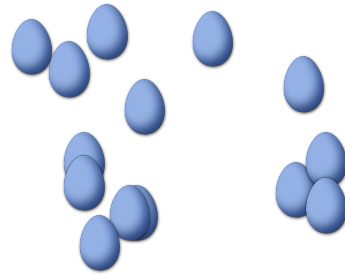

CONTAR HUEVOS DE PASCUAS (D) RESPUESTAS

Cuente la cantidad en cada conjunto de huevos de Pascuas.

1. Hay 18 huevos de Pascuas en el conjunto siguiente.
2. Hay 13 huevos de Pascuas en el conjunto siguiente.



3. Hay 12 huevos de Pascuas en el conjunto siguiente.
4. Hay 14 huevos de Pascuas en el conjunto siguiente.



5. Hay 9 huevos de Pascuas en el conjunto siguiente.
6. Hay 5 huevos de Pascuas en el conjunto siguiente.

