

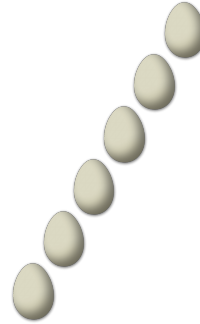
CONTAR HUEVOS DE PASCUAS (F)

Cuente la cantidad en cada conjunto de huevos de Pascuas.

1. Hay ____ huevos de Pascuas en el conjunto siguiente.



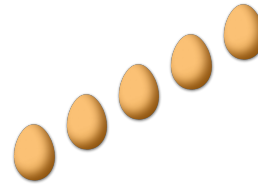
2. Hay ____ huevos de Pascuas en el conjunto siguiente.




3. Hay ____ huevos de Pascuas en el conjunto siguiente.




4. Hay ____ huevos de Pascuas en el conjunto siguiente.



5. Hay ____ huevos de Pascuas en el conjunto siguiente.



6. Hay ____ huevos de Pascuas en el conjunto siguiente.



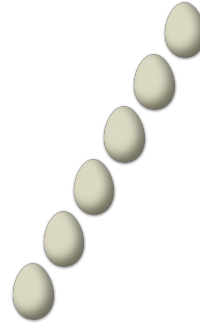
CONTAR HUEVOS DE PASCUAS (F) RESPUESTAS

Cuente la cantidad en cada conjunto de huevos de Pascuas.

1. Hay 7 huevos de Pascuas en el conjunto siguiente.



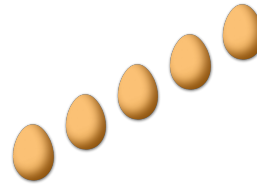
2. Hay 6 huevos de Pascuas en el conjunto siguiente.




3. Hay 2 huevos de Pascuas en el conjunto siguiente.



4. Hay 5 huevos de Pascuas en el conjunto siguiente.



5. Hay 3 huevos de Pascuas en el conjunto siguiente.



6. Hay 4 huevos de Pascuas en el conjunto siguiente.

