



# CONTAR HUEVOS DE PASCUAS (A)

Cuente la cantidad en cada conjunto de huevos de Pascuas.


1. Hay \_\_\_\_ huevos de Pascuas en el conjunto siguiente.



2. Hay \_\_\_\_ huevos de Pascuas en el conjunto siguiente.




3. Hay \_\_\_\_ huevos de Pascuas en el conjunto siguiente.



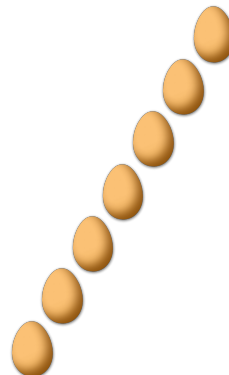
4. Hay \_\_\_\_ huevos de Pascuas en el conjunto siguiente.



5. Hay \_\_\_\_ huevos de Pascuas en el conjunto siguiente.




6. Hay \_\_\_\_ huevos de Pascuas en el conjunto siguiente.




# CONTAR HUEVOS DE PASCUAS (A) RESPUESTAS

Cuente la cantidad en cada conjunto de huevos de Pascuas.


1. Hay 6 huevos de Pascuas en el conjunto siguiente.



2. Hay 2 huevos de Pascuas en el conjunto siguiente.




3. Hay 5 huevos de Pascuas en el conjunto siguiente.



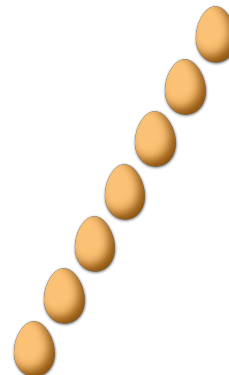
4. Hay 3 huevos de Pascuas en el conjunto siguiente.



5. Hay 4 huevos de Pascuas en el conjunto siguiente.



6. Hay 7 huevos de Pascuas en el conjunto siguiente.



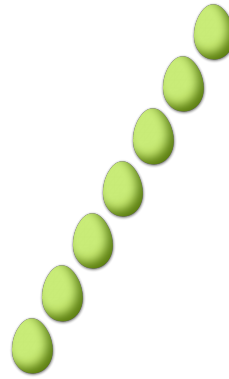
# CONTAR HUEVOS DE PASCUAS (B)

Cuente la cantidad en cada conjunto de huevos de Pascuas.


1. Hay \_\_\_\_ huevos de Pascuas en el conjunto siguiente.




2. Hay \_\_\_\_ huevos de Pascuas en el conjunto siguiente.



3. Hay \_\_\_\_ huevos de Pascuas en el conjunto siguiente.



4. Hay \_\_\_\_ huevos de Pascuas en el conjunto siguiente.



5. Hay \_\_\_\_ huevos de Pascuas en el conjunto siguiente.



6. Hay \_\_\_\_ huevos de Pascuas en el conjunto siguiente.



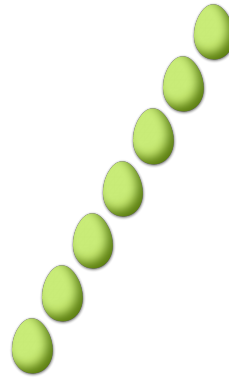
# CONTAR HUEVOS DE PASCUAS (B) RESPUESTAS

Cuente la cantidad en cada conjunto de huevos de Pascuas.


1. Hay 3 huevos de Pascuas en el conjunto siguiente.




2. Hay 7 huevos de Pascuas en el conjunto siguiente.



3. Hay 5 huevos de Pascuas en el conjunto siguiente.



4. Hay 6 huevos de Pascuas en el conjunto siguiente.



5. Hay 4 huevos de Pascuas en el conjunto siguiente.



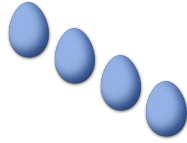
6. Hay 2 huevos de Pascuas en el conjunto siguiente.




# CONTAR HUEVOS DE PASCUAS

Cuente la cantidad en cada conjunto de huevos de Pascuas.

1. Hay \_\_\_\_ huevos de Pascuas en el conjunto siguiente.



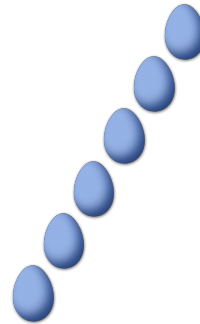
2. Hay \_\_\_\_ huevos de Pascuas en el conjunto siguiente.




3. Hay \_\_\_\_ huevos de Pascuas en el conjunto siguiente.



4. Hay \_\_\_\_ huevos de Pascuas en el conjunto siguiente.



5. Hay \_\_\_\_ huevos de Pascuas en el conjunto siguiente.



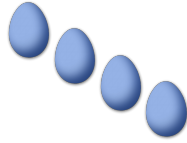
6. Hay \_\_\_\_ huevos de Pascuas en el conjunto siguiente.




# CONTAR HUEVOS DE PASCUAS (C) RESPUESTAS

Cuente la cantidad en cada conjunto de huevos de Pascuas.

1. Hay 4 huevos de Pascuas en el conjunto siguiente.



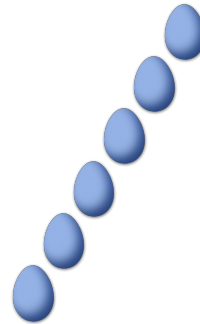
2. Hay 5 huevos de Pascuas en el conjunto siguiente.




3. Hay 2 huevos de Pascuas en el conjunto siguiente.



4. Hay 6 huevos de Pascuas en el conjunto siguiente.



5. Hay 7 huevos de Pascuas en el conjunto siguiente.



6. Hay 3 huevos de Pascuas en el conjunto siguiente.



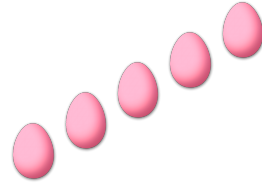
# CONTAR HUEVOS DE PASCUAS (1)

Cuente la cantidad en cada conjunto de huevos de Pascuas.

1. Hay \_\_\_\_ huevos de Pascuas en el conjunto siguiente.




2. Hay \_\_\_\_ huevos de Pascuas en el conjunto siguiente.



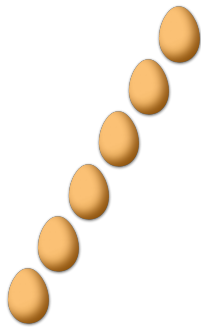
3. Hay \_\_\_\_ huevos de Pascuas en el conjunto siguiente.



4. Hay \_\_\_\_ huevos de Pascuas en el conjunto siguiente.



5. Hay \_\_\_\_ huevos de Pascuas en el conjunto siguiente.



6. Hay \_\_\_\_ huevos de Pascuas en el conjunto siguiente.




# CONTAR HUEVOS DE PASCUAS (D) RESPUESTAS

Cuente la cantidad en cada conjunto de huevos de Pascuas.

1. Hay 2 huevos de Pascuas en el conjunto siguiente.




2. Hay 5 huevos de Pascuas en el conjunto siguiente.



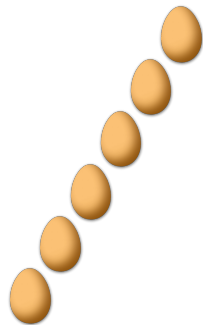
3. Hay 3 huevos de Pascuas en el conjunto siguiente.



4. Hay 4 huevos de Pascuas en el conjunto siguiente.



5. Hay 6 huevos de Pascuas en el conjunto siguiente.



6. Hay 7 huevos de Pascuas en el conjunto siguiente.







# CONTAR HUEVOS DE PASCUAS (E)

Cuente la cantidad en cada conjunto de huevos de Pascuas.

1. Hay \_\_\_\_ huevos de Pascuas en el conjunto siguiente.



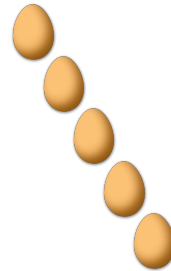
2. Hay \_\_\_\_ huevos de Pascuas en el conjunto siguiente.




3. Hay \_\_\_\_ huevos de Pascuas en el conjunto siguiente.



4. Hay \_\_\_\_ huevos de Pascuas en el conjunto siguiente.



5. Hay \_\_\_\_ huevos de Pascuas en el conjunto siguiente.




6. Hay \_\_\_\_ huevos de Pascuas en el conjunto siguiente.




# CONTAR HUEVOS DE PASCUAS (E) RESPUESTAS

Cuente la cantidad en cada conjunto de huevos de Pascuas.

1. Hay 6 huevos de Pascuas en el conjunto siguiente.



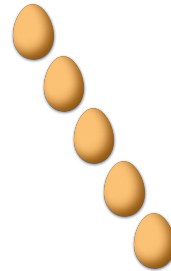
2. Hay 3 huevos de Pascuas en el conjunto siguiente.



3. Hay 2 huevos de Pascuas en el conjunto siguiente.



4. Hay 5 huevos de Pascuas en el conjunto siguiente.



5. Hay 4 huevos de Pascuas en el conjunto siguiente.



6. Hay 7 huevos de Pascuas en el conjunto siguiente.



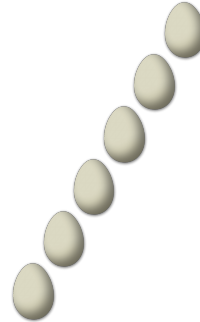
# CONTAR HUEVOS DE PASCUAS (F)

Cuente la cantidad en cada conjunto de huevos de Pascuas.

1. Hay \_\_\_\_ huevos de Pascuas en el conjunto siguiente.



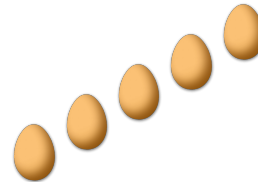
2. Hay \_\_\_\_ huevos de Pascuas en el conjunto siguiente.




3. Hay \_\_\_\_ huevos de Pascuas en el conjunto siguiente.




4. Hay \_\_\_\_ huevos de Pascuas en el conjunto siguiente.



5. Hay \_\_\_\_ huevos de Pascuas en el conjunto siguiente.



6. Hay \_\_\_\_ huevos de Pascuas en el conjunto siguiente.



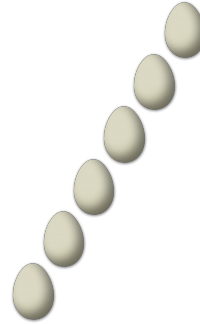
# CONTAR HUEVOS DE PASCUAS (F) RESPUESTAS

Cuente la cantidad en cada conjunto de huevos de Pascuas.

1. Hay 7 huevos de Pascuas en el conjunto siguiente.



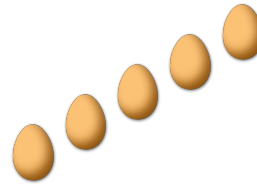
2. Hay 6 huevos de Pascuas en el conjunto siguiente.




3. Hay 2 huevos de Pascuas en el conjunto siguiente.




4. Hay 5 huevos de Pascuas en el conjunto siguiente.



5. Hay 3 huevos de Pascuas en el conjunto siguiente.




6. Hay 4 huevos de Pascuas en el conjunto siguiente.




# CONTAR HUEVOS DE PASCUAS (6)

Cuente la cantidad en cada conjunto de huevos de Pascuas.

1. Hay \_\_\_\_ huevos de Pascuas en el conjunto siguiente.



2. Hay \_\_\_\_ huevos de Pascuas en el conjunto siguiente.



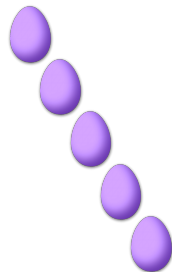
3. Hay \_\_\_\_ huevos de Pascuas en el conjunto siguiente.




4. Hay \_\_\_\_ huevos de Pascuas en el conjunto siguiente.



5. Hay \_\_\_\_ huevos de Pascuas en el conjunto siguiente.




6. Hay \_\_\_\_ huevos de Pascuas en el conjunto siguiente.




# CONTAR HUEVOS DE PASCUAS (G) RESPUESTAS

Cuente la cantidad en cada conjunto de huevos de Pascuas.

1. Hay 2 huevos de Pascuas en el conjunto siguiente.



2. Hay 3 huevos de Pascuas en el conjunto siguiente.



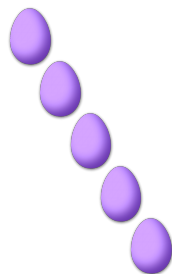
3. Hay 7 huevos de Pascuas en el conjunto siguiente.




4. Hay 4 huevos de Pascuas en el conjunto siguiente.



5. Hay 5 huevos de Pascuas en el conjunto siguiente.



6. Hay 6 huevos de Pascuas en el conjunto siguiente.



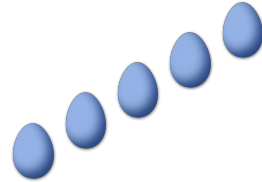
# CONTAR HUEVOS DE PASCUAS (H)

Cuente la cantidad en cada conjunto de huevos de Pascuas.


1. Hay \_\_\_\_ huevos de Pascuas en el conjunto siguiente.



2. Hay \_\_\_\_ huevos de Pascuas en el conjunto siguiente.



3. Hay \_\_\_\_ huevos de Pascuas en el conjunto siguiente.



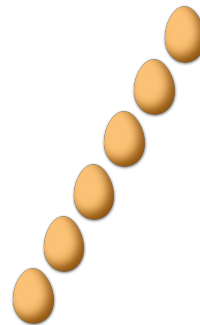
4. Hay \_\_\_\_ huevos de Pascuas en el conjunto siguiente.



5. Hay \_\_\_\_ huevos de Pascuas en el conjunto siguiente.




6. Hay \_\_\_\_ huevos de Pascuas en el conjunto siguiente.



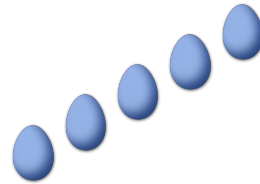
# CONTAR HUEVOS DE PASCUAS (H) RESPUESTAS

Cuente la cantidad en cada conjunto de huevos de Pascuas.


1. Hay 3 huevos de Pascuas en el conjunto siguiente.



2. Hay 5 huevos de Pascuas en el conjunto siguiente.



3. Hay 4 huevos de Pascuas en el conjunto siguiente.



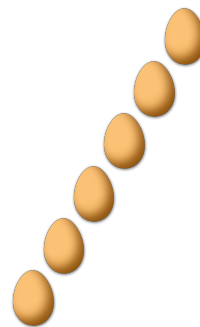
4. Hay 7 huevos de Pascuas en el conjunto siguiente.



5. Hay 2 huevos de Pascuas en el conjunto siguiente.



6. Hay 6 huevos de Pascuas en el conjunto siguiente.







# CONTAR HUEVOS DE PASCUAS ①

Cuente la cantidad en cada conjunto de huevos de Pascuas.

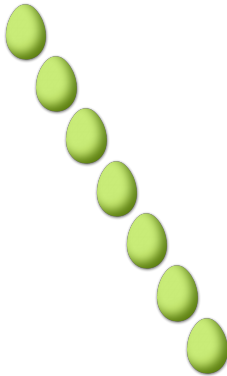
1. Hay \_\_\_\_ huevos de Pascuas en el conjunto siguiente.




2. Hay \_\_\_\_ huevos de Pascuas en el conjunto siguiente.



3. Hay \_\_\_\_ huevos de Pascuas en el conjunto siguiente.



4. Hay \_\_\_\_ huevos de Pascuas en el conjunto siguiente.



5. Hay \_\_\_\_ huevos de Pascuas en el conjunto siguiente.



6. Hay \_\_\_\_ huevos de Pascuas en el conjunto siguiente.




# CONTAR HUEVOS DE PASCUAS O RESPUESTAS

Cuente la cantidad en cada conjunto de huevos de Pascuas.

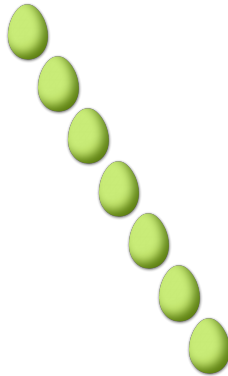
1. Hay 6 huevos de Pascuas en el conjunto siguiente.




2. Hay 4 huevos de Pascuas en el conjunto siguiente.



3. Hay 7 huevos de Pascuas en el conjunto siguiente.



4. Hay 3 huevos de Pascuas en el conjunto siguiente.



5. Hay 5 huevos de Pascuas en el conjunto siguiente.



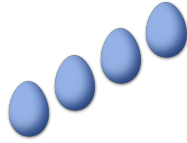
6. Hay 2 huevos de Pascuas en el conjunto siguiente.



# CONTAR HUEVOS DE PASCUAS (1)

Cuente la cantidad en cada conjunto de huevos de Pascuas.

1. Hay \_\_\_\_ huevos de Pascuas en el conjunto siguiente.



2. Hay \_\_\_\_ huevos de Pascuas en el conjunto siguiente.




3. Hay \_\_\_\_ huevos de Pascuas en el conjunto siguiente.



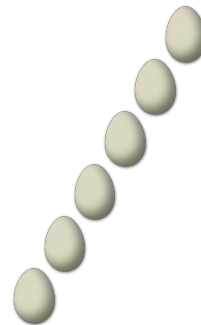
4. Hay \_\_\_\_ huevos de Pascuas en el conjunto siguiente.



5. Hay \_\_\_\_ huevos de Pascuas en el conjunto siguiente.



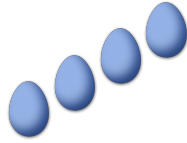
6. Hay \_\_\_\_ huevos de Pascuas en el conjunto siguiente.



# CONTAR HUEVOS DE PASCUAS (O) RESPUESTAS

Cuente la cantidad en cada conjunto de huevos de Pascuas.

1. Hay 4 huevos de Pascuas en el conjunto siguiente.



2. Hay 7 huevos de Pascuas en el conjunto siguiente.




3. Hay 5 huevos de Pascuas en el conjunto siguiente.



4. Hay 2 huevos de Pascuas en el conjunto siguiente.



5. Hay 3 huevos de Pascuas en el conjunto siguiente.



6. Hay 6 huevos de Pascuas en el conjunto siguiente.

