


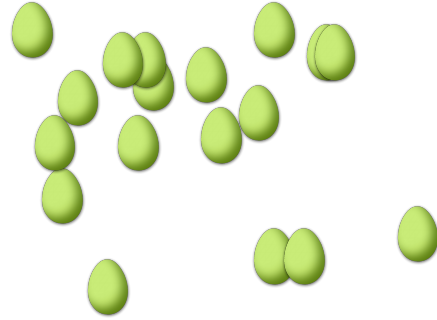
CONTAR HUEVOS DE PASCUAS (1)

Cuente la cantidad en cada conjunto de huevos de Pascuas.


1. Hay ____ huevos de Pascuas en el conjunto siguiente.



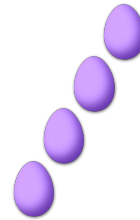
2. Hay ____ huevos de Pascuas en el conjunto siguiente.



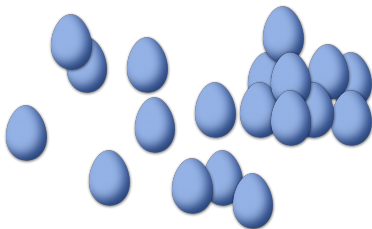
3. Hay ____ huevos de Pascuas en el conjunto siguiente.




4. Hay ____ huevos de Pascuas en el conjunto siguiente.



5. Hay ____ huevos de Pascuas en el conjunto siguiente.




6. Hay ____ huevos de Pascuas en el conjunto siguiente.



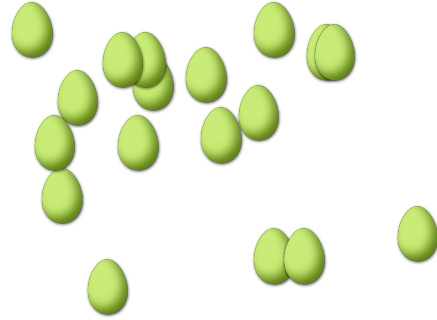
CONTAR HUEVOS DE PASCUAS (D) RESPUESTAS

Cuente la cantidad en cada conjunto de huevos de Pascuas.


1. Hay 15 huevos de Pascuas en el conjunto siguiente.



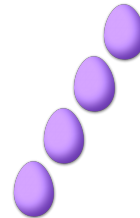
2. Hay 18 huevos de Pascuas en el conjunto siguiente.



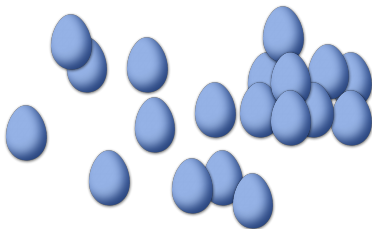
3. Hay 14 huevos de Pascuas en el conjunto siguiente.



4. Hay 4 huevos de Pascuas en el conjunto siguiente.



5. Hay 19 huevos de Pascuas en el conjunto siguiente.



6. Hay 2 huevos de Pascuas en el conjunto siguiente.

