


# CONTAR HUEVOS DE PASCUAS (H)

Cuente la cantidad en cada conjunto de huevos de Pascuas.


1. Hay \_\_\_\_ huevos de Pascuas en el conjunto siguiente.



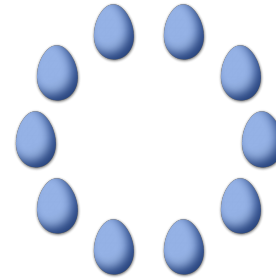
2. Hay \_\_\_\_ huevos de Pascuas en el conjunto siguiente.



3. Hay \_\_\_\_ huevos de Pascuas en el conjunto siguiente.




4. Hay \_\_\_\_ huevos de Pascuas en el conjunto siguiente.



5. Hay \_\_\_\_ huevos de Pascuas en el conjunto siguiente.




6. Hay \_\_\_\_ huevos de Pascuas en el conjunto siguiente.



# CONTAR HUEVOS DE PASCUAS (HD) RESPUESTAS

Cuente la cantidad en cada conjunto de huevos de Pascuas.


1. Hay 9 huevos de Pascuas en el conjunto siguiente.



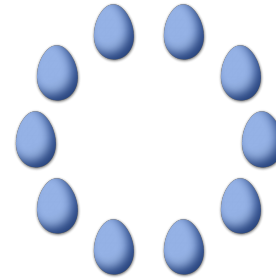
2. Hay 4 huevos de Pascuas en el conjunto siguiente.



3. Hay 13 huevos de Pascuas en el conjunto siguiente.



4. Hay 10 huevos de Pascuas en el conjunto siguiente.



5. Hay 2 huevos de Pascuas en el conjunto siguiente.



6. Hay 13 huevos de Pascuas en el conjunto siguiente.

