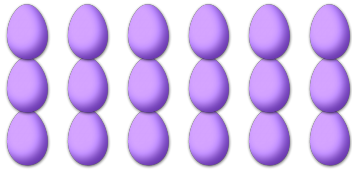



CONTAR HUEVOS DE PASCUAS (A)

Cuente la cantidad en cada conjunto de huevos de Pascuas.

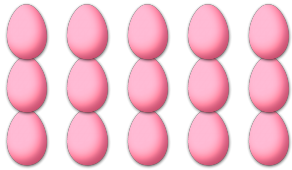
1. Hay ____ huevos de Pascuas en el conjunto siguiente.



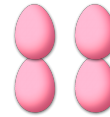
2. Hay ____ huevos de Pascuas en el conjunto siguiente.




3. Hay ____ huevos de Pascuas en el conjunto siguiente.



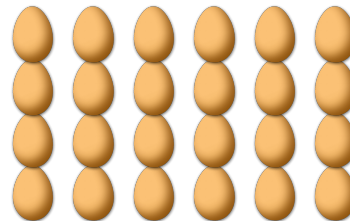
4. Hay ____ huevos de Pascuas en el conjunto siguiente.



5. Hay ____ huevos de Pascuas en el conjunto siguiente.




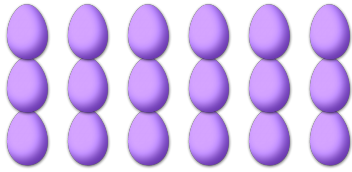
6. Hay ____ huevos de Pascuas en el conjunto siguiente.



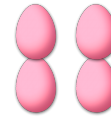
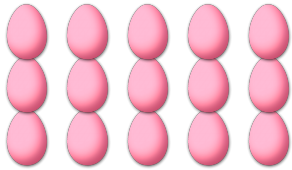
CONTAR HUEVOS DE PASCUAS (A) RESPUESTAS

Cuente la cantidad en cada conjunto de huevos de Pascuas.

1. Hay 18 huevos de Pascuas en el conjunto siguiente. 2. Hay 16 huevos de Pascuas en el conjunto siguiente.



3. Hay 15 huevos de Pascuas en el conjunto siguiente. 4. Hay 4 huevos de Pascuas en el conjunto siguiente.



5. Hay 25 huevos de Pascuas en el conjunto siguiente. 6. Hay 24 huevos de Pascuas en el conjunto siguiente.

