



CONTAR HUEVOS DE PASCUAS (E)

Cuente la cantidad en cada conjunto de huevos de Pascuas.

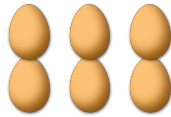
1. Hay ____ huevos de Pascuas en el conjunto siguiente.



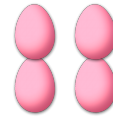
2. Hay ____ huevos de Pascuas en el conjunto siguiente.



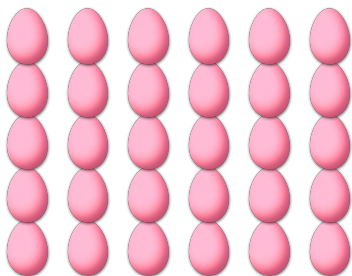
3. Hay ____ huevos de Pascuas en el conjunto siguiente.




4. Hay ____ huevos de Pascuas en el conjunto siguiente.



5. Hay ____ huevos de Pascuas en el conjunto siguiente.





6. Hay ____ huevos de Pascuas en el conjunto siguiente.



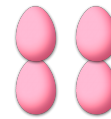
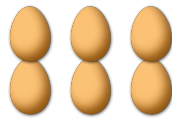
CONTAR HUEVOS DE PASCUAS (E) RESPUESTAS

Cuente la cantidad en cada conjunto de huevos de Pascuas.

1. Hay 25 huevos de Pascuas en el conjunto siguiente.
2. Hay 35 huevos de Pascuas en el conjunto siguiente.



3. Hay 6 huevos de Pascuas en el conjunto siguiente.
4. Hay 4 huevos de Pascuas en el conjunto siguiente.



5. Hay 30 huevos de Pascuas en el conjunto siguiente.
6. Hay 21 huevos de Pascuas en el conjunto siguiente.

