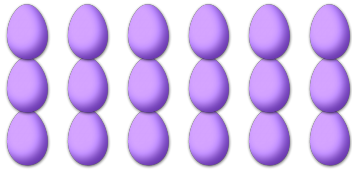



CONTAR HUEVOS DE PASCUAS (A)

Cuente la cantidad en cada conjunto de huevos de Pascuas.

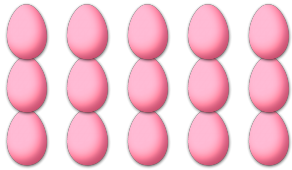
1. Hay ____ huevos de Pascuas en el conjunto siguiente.



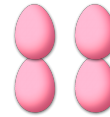
2. Hay ____ huevos de Pascuas en el conjunto siguiente.




3. Hay ____ huevos de Pascuas en el conjunto siguiente.



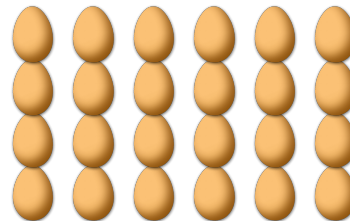
4. Hay ____ huevos de Pascuas en el conjunto siguiente.



5. Hay ____ huevos de Pascuas en el conjunto siguiente.



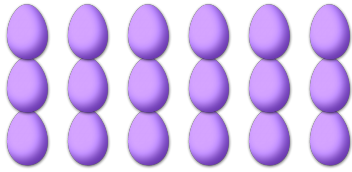
6. Hay ____ huevos de Pascuas en el conjunto siguiente.



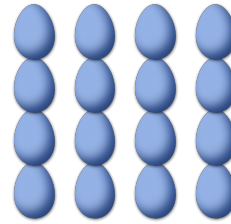
CONTAR HUEVOS DE PASCUAS (A) RESPUESTAS

Cuente la cantidad en cada conjunto de huevos de Pascuas.

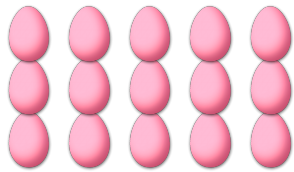
1. Hay 18 huevos de Pascuas en el conjunto siguiente.



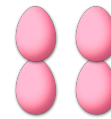
2. Hay 16 huevos de Pascuas en el conjunto siguiente.




3. Hay 15 huevos de Pascuas en el conjunto siguiente.



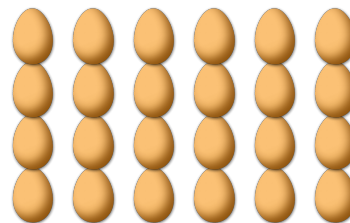
4. Hay 4 huevos de Pascuas en el conjunto siguiente.



5. Hay 25 huevos de Pascuas en el conjunto siguiente.




6. Hay 24 huevos de Pascuas en el conjunto siguiente.




CONTAR HUEVOS DE PASCUAS (B)

Cuente la cantidad en cada conjunto de huevos de Pascuas.

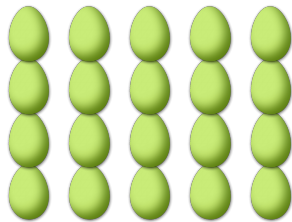
1. Hay ____ huevos de Pascuas en el conjunto siguiente.




2. Hay ____ huevos de Pascuas en el conjunto siguiente.



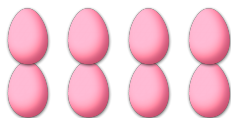
3. Hay ____ huevos de Pascuas en el conjunto siguiente.




4. Hay ____ huevos de Pascuas en el conjunto siguiente.



5. Hay ____ huevos de Pascuas en el conjunto siguiente.





6. Hay ____ huevos de Pascuas en el conjunto siguiente.





CONTAR HUEVOS DE PASCUAS (B) RESPUESTAS

Cuente la cantidad en cada conjunto de huevos de Pascuas.


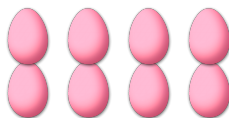
1. Hay 14 huevos de Pascuas en el conjunto siguiente.
2. Hay 21 huevos de Pascuas en el conjunto siguiente.



3. Hay 20 huevos de Pascuas en el conjunto siguiente.
4. Hay 42 huevos de Pascuas en el conjunto siguiente.




5. Hay 8 huevos de Pascuas en el conjunto siguiente.
6. Hay 12 huevos de Pascuas en el conjunto siguiente.




CONTAR HUEVOS DE PASCUAS

Cuente la cantidad en cada conjunto de huevos de Pascuas.

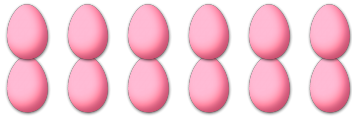
1. Hay ____ huevos de Pascuas en el conjunto siguiente.




2. Hay ____ huevos de Pascuas en el conjunto siguiente.



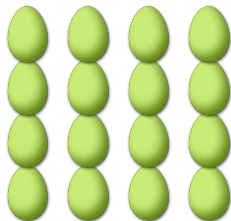
3. Hay ____ huevos de Pascuas en el conjunto siguiente.




4. Hay ____ huevos de Pascuas en el conjunto siguiente.



5. Hay ____ huevos de Pascuas en el conjunto siguiente.




6. Hay ____ huevos de Pascuas en el conjunto siguiente.




CONTAR HUEVOS DE PASCUAS (C) RESPUESTAS

Cuente la cantidad en cada conjunto de huevos de Pascuas.

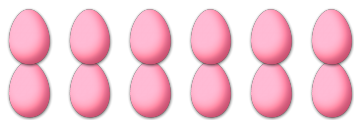
1. Hay 30 huevos de Pascuas en el conjunto siguiente.




2. Hay 8 huevos de Pascuas en el conjunto siguiente.




3. Hay 12 huevos de Pascuas en el conjunto siguiente.




4. Hay 4 huevos de Pascuas en el conjunto siguiente.



5. Hay 16 huevos de Pascuas en el conjunto siguiente.




6. Hay 9 huevos de Pascuas en el conjunto siguiente.



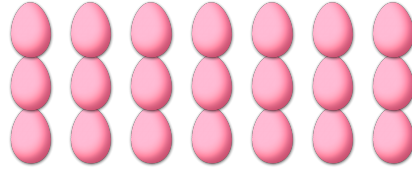
CONTAR HUEVOS DE PASCUAS (1)

Cuente la cantidad en cada conjunto de huevos de Pascuas.


1. Hay ____ huevos de Pascuas en el conjunto siguiente.




2. Hay ____ huevos de Pascuas en el conjunto siguiente.



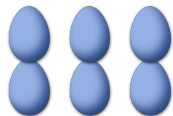
3. Hay ____ huevos de Pascuas en el conjunto siguiente.




4. Hay ____ huevos de Pascuas en el conjunto siguiente.



5. Hay ____ huevos de Pascuas en el conjunto siguiente.



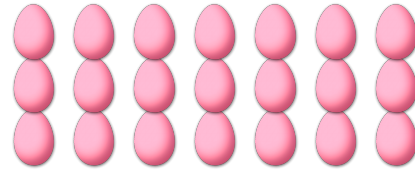

6. Hay ____ huevos de Pascuas en el conjunto siguiente.




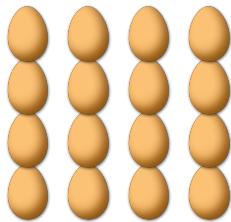
CONTAR HUEVOS DE PASCUAS (D) RESPUESTAS

Cuente la cantidad en cada conjunto de huevos de Pascuas.

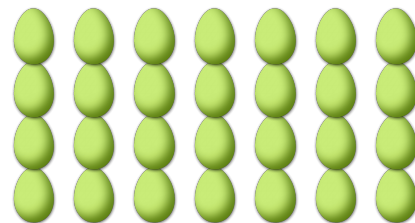
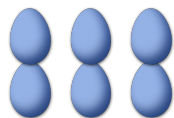
1. Hay 42 huevos de Pascuas en el conjunto siguiente.
2. Hay 21 huevos de Pascuas en el conjunto siguiente.



3. Hay 16 huevos de Pascuas en el conjunto siguiente.
4. Hay 10 huevos de Pascuas en el conjunto siguiente.




5. Hay 6 huevos de Pascuas en el conjunto siguiente.
6. Hay 28 huevos de Pascuas en el conjunto siguiente.




CONTAR HUEVOS DE PASCUAS (E)

Cuente la cantidad en cada conjunto de huevos de Pascuas.

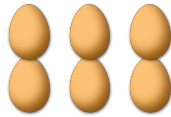
1. Hay ____ huevos de Pascuas en el conjunto siguiente.



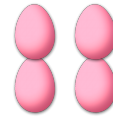
2. Hay ____ huevos de Pascuas en el conjunto siguiente.



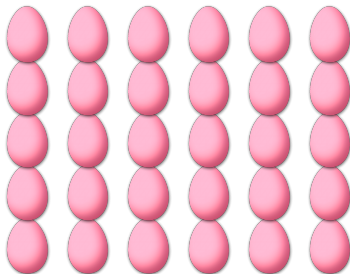
3. Hay ____ huevos de Pascuas en el conjunto siguiente.




4. Hay ____ huevos de Pascuas en el conjunto siguiente.



5. Hay ____ huevos de Pascuas en el conjunto siguiente.





6. Hay ____ huevos de Pascuas en el conjunto siguiente.



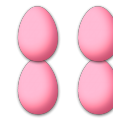
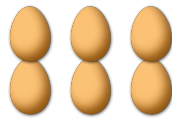
CONTAR HUEVOS DE PASCUAS (E) RESPUESTAS

Cuente la cantidad en cada conjunto de huevos de Pascuas.


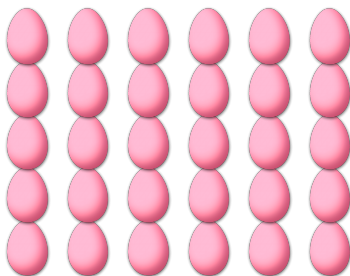
1. Hay 25 huevos de Pascuas en el conjunto siguiente.
2. Hay 35 huevos de Pascuas en el conjunto siguiente.



3. Hay 6 huevos de Pascuas en el conjunto siguiente.
4. Hay 4 huevos de Pascuas en el conjunto siguiente.




5. Hay 30 huevos de Pascuas en el conjunto siguiente.
6. Hay 21 huevos de Pascuas en el conjunto siguiente.




CONTAR HUEVOS DE PASCUAS (F)

Cuente la cantidad en cada conjunto de huevos de Pascuas.


1. Hay ____ huevos de Pascuas en el conjunto siguiente.



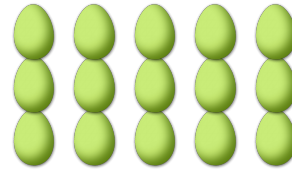
2. Hay ____ huevos de Pascuas en el conjunto siguiente.



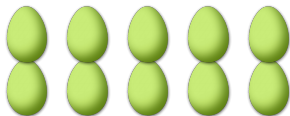
3. Hay ____ huevos de Pascuas en el conjunto siguiente.



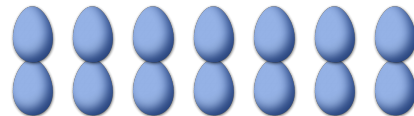
4. Hay ____ huevos de Pascuas en el conjunto siguiente.



5. Hay ____ huevos de Pascuas en el conjunto siguiente.





6. Hay ____ huevos de Pascuas en el conjunto siguiente.



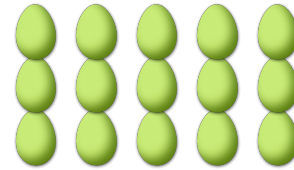

CONTAR HUEVOS DE PASCUAS (F) RESPUESTAS

Cuente la cantidad en cada conjunto de huevos de Pascuas.

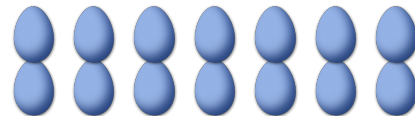
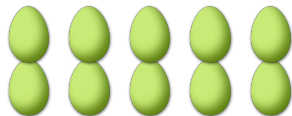
1. Hay 35 huevos de Pascuas en el conjunto siguiente.
2. Hay 30 huevos de Pascuas en el conjunto siguiente.



3. Hay 6 huevos de Pascuas en el conjunto siguiente.
4. Hay 15 huevos de Pascuas en el conjunto siguiente.



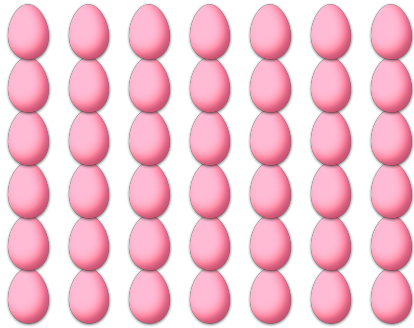
5. Hay 10 huevos de Pascuas en el conjunto siguiente.
6. Hay 14 huevos de Pascuas en el conjunto siguiente.



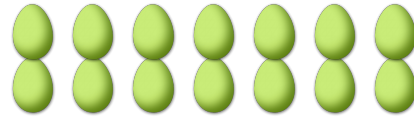
CONTAR HUEVOS DE PASCUAS (6)

Cuente la cantidad en cada conjunto de huevos de Pascuas.


1. Hay ____ huevos de Pascuas en el conjunto siguiente.



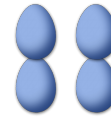
2. Hay ____ huevos de Pascuas en el conjunto siguiente.



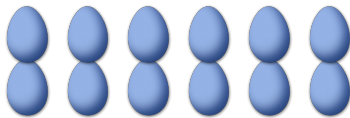
3. Hay ____ huevos de Pascuas en el conjunto siguiente.



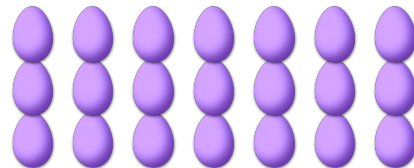
4. Hay ____ huevos de Pascuas en el conjunto siguiente.



5. Hay ____ huevos de Pascuas en el conjunto siguiente.



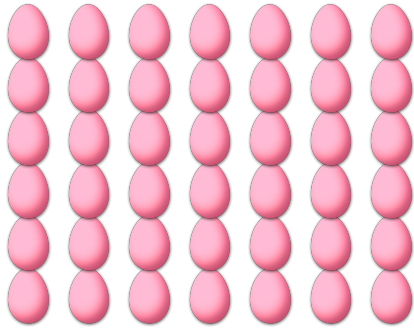
6. Hay ____ huevos de Pascuas en el conjunto siguiente.



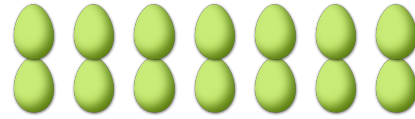
CONTAR HUEVOS DE PASCUAS (G) RESPUESTAS

Cuente la cantidad en cada conjunto de huevos de Pascuas.


1. Hay 42 huevos de Pascuas en el conjunto siguiente.



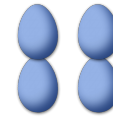
2. Hay 14 huevos de Pascuas en el conjunto siguiente.



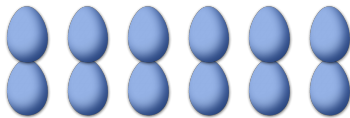
3. Hay 8 huevos de Pascuas en el conjunto siguiente.



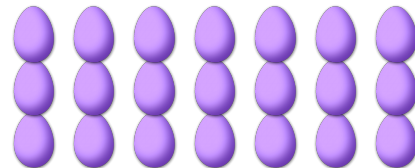
4. Hay 4 huevos de Pascuas en el conjunto siguiente.



5. Hay 12 huevos de Pascuas en el conjunto siguiente.




6. Hay 21 huevos de Pascuas en el conjunto siguiente.




CONTAR HUEVOS DE PASCUAS (H)

Cuente la cantidad en cada conjunto de huevos de Pascuas.

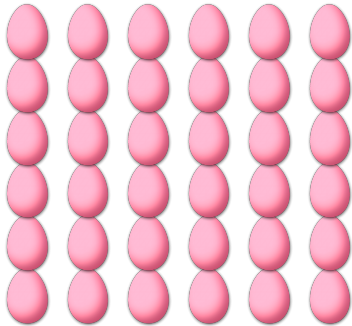
1. Hay ____ huevos de Pascuas en el conjunto siguiente.




2. Hay ____ huevos de Pascuas en el conjunto siguiente.




3. Hay ____ huevos de Pascuas en el conjunto siguiente.




4. Hay ____ huevos de Pascuas en el conjunto siguiente.



5. Hay ____ huevos de Pascuas en el conjunto siguiente.




6. Hay ____ huevos de Pascuas en el conjunto siguiente.




CONTAR HUEVOS DE PASCUAS (HD) RESPUESTAS

Cuente la cantidad en cada conjunto de huevos de Pascuas.

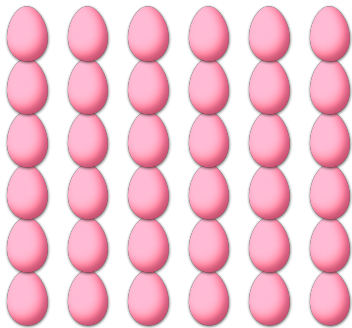
1. Hay 4 huevos de Pascuas en el conjunto siguiente.




2. Hay 35 huevos de Pascuas en el conjunto siguiente.




3. Hay 36 huevos de Pascuas en el conjunto siguiente.




4. Hay 12 huevos de Pascuas en el conjunto siguiente.



5. Hay 15 huevos de Pascuas en el conjunto siguiente.




6. Hay 42 huevos de Pascuas en el conjunto siguiente.




CONTAR HUEVOS DE PASCUAS 10

Cuente la cantidad en cada conjunto de huevos de Pascuas.


1. Hay ____ huevos de Pascuas en el conjunto siguiente.




2. Hay ____ huevos de Pascuas en el conjunto siguiente.




3. Hay ____ huevos de Pascuas en el conjunto siguiente.




4. Hay ____ huevos de Pascuas en el conjunto siguiente.



5. Hay ____ huevos de Pascuas en el conjunto siguiente.




6. Hay ____ huevos de Pascuas en el conjunto siguiente.




CONTAR HUEVOS DE PASCUAS O RESPUESTAS

Cuente la cantidad en cada conjunto de huevos de Pascuas.


1. Hay 24 huevos de Pascuas en el conjunto siguiente.




2. Hay 35 huevos de Pascuas en el conjunto siguiente.




3. Hay 18 huevos de Pascuas en el conjunto siguiente.




4. Hay 30 huevos de Pascuas en el conjunto siguiente.



5. Hay 28 huevos de Pascuas en el conjunto siguiente.



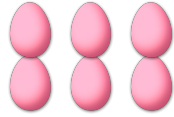
6. Hay 25 huevos de Pascuas en el conjunto siguiente.



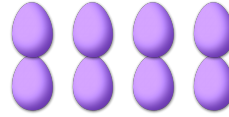
CONTAR HUEVOS DE PASCUAS (1)

Cuente la cantidad en cada conjunto de huevos de Pascuas.

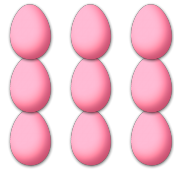
1. Hay ____ huevos de Pascuas en el conjunto siguiente.




2. Hay ____ huevos de Pascuas en el conjunto siguiente.



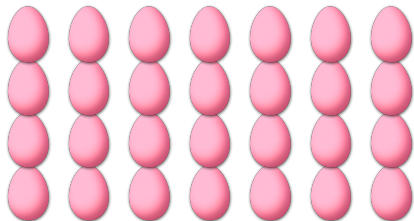
3. Hay ____ huevos de Pascuas en el conjunto siguiente.



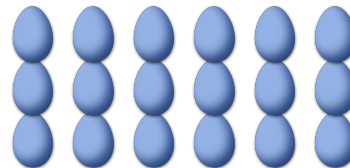
4. Hay ____ huevos de Pascuas en el conjunto siguiente.



5. Hay ____ huevos de Pascuas en el conjunto siguiente.



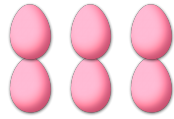
6. Hay ____ huevos de Pascuas en el conjunto siguiente.



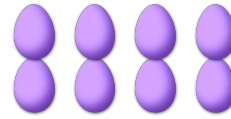
CONTAR HUEVOS DE PASCUAS (O) RESPUESTAS

Cuente la cantidad en cada conjunto de huevos de Pascuas.

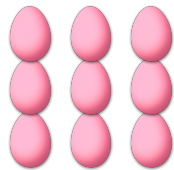
1. Hay 6 huevos de Pascuas en el conjunto siguiente.




2. Hay 8 huevos de Pascuas en el conjunto siguiente.



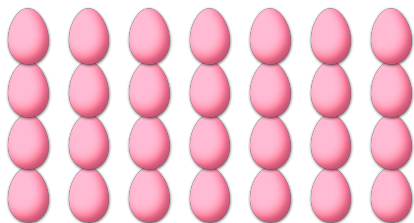
3. Hay 9 huevos de Pascuas en el conjunto siguiente.



4. Hay 42 huevos de Pascuas en el conjunto siguiente.



5. Hay 28 huevos de Pascuas en el conjunto siguiente.



6. Hay 18 huevos de Pascuas en el conjunto siguiente.

