

# Frecuencias de Conejos de Pascuas (A)






Nombre: \_\_\_\_\_

Fecha: \_\_\_\_\_

Puntuación: \_\_\_\_\_

Determinen la frecuencia, la frecuencia relativa, y el porcentaje (hasta un lugar decimal) de cada elemento.








Objeto	Frecuencia	Frecuencia Relativa	Porcentaje
			
			
			
			
			

# Frecuencias de Conejos de Pascuas (A) Respuestas

Nombre: \_\_\_\_\_ Fecha: \_\_\_\_\_ Puntuación: \_\_\_\_\_

Determinen la frecuencia, la frecuencia relativa, y el porcentaje (hasta un lugar decimal) de cada elemento.



Objeto	Frecuencia	Frecuencia Relativa	Porcentaje
	44	$\frac{44}{180} = \frac{11}{45}$	24.4%
	44	$\frac{44}{180} = \frac{11}{45}$	24.4%
	27	$\frac{27}{180} = \frac{3}{20}$	15%
	25	$\frac{25}{180} = \frac{5}{36}$	13.9%
	40	$\frac{40}{180} = \frac{2}{9}$	22.2%