






Frecuencias de Conejos de Pascuas (B)

Nombre: _____ Fecha: _____ Puntuación: _____

Determinen la frecuencia, la frecuencia relativa, y el porcentaje (hasta un lugar decimal) de cada elemento.



Objeto	Frecuencia	Frecuencia Relativa	Porcentaje
			
			
			
			
			

Frecuencias de Conejos de Pascuas (B) Respuestas

Nombre: _____ Fecha: _____ Puntuación: _____

Determinen la frecuencia, la frecuencia relativa, y el porcentaje (hasta un lugar decimal) de cada elemento.



Objeto	Frecuencia	Frecuencia Relativa	Porcentaje
	49	$\frac{49}{180}$	27.2%
	31	$\frac{31}{180}$	17.2%
	24	$\frac{24}{180} = \frac{2}{15}$	13.3%
	39	$\frac{39}{180} = \frac{13}{60}$	21.7%
	37	$\frac{37}{180}$	20.6%