


# Frecuencias de Conejos de Pascuas (D)

Nombre: \_\_\_\_\_ Fecha: \_\_\_\_\_ Puntuación: \_\_\_\_\_

Determinen la frecuencia, la frecuencia relativa, y el porcentaje (hasta un lugar decimal) de cada elemento.








Objeto	Frecuencia	Frecuencia Relativa	Porcentaje

# Frecuencias de Conejos de Pascuas (D) Respuestas

Nombre: \_\_\_\_\_ Fecha: \_\_\_\_\_ Puntuación: \_\_\_\_\_

Determinen la frecuencia, la frecuencia relativa, y el porcentaje (hasta un lugar decimal) de cada elemento.



Objeto	Frecuencia	Frecuencia Relativa	Porcentaje
	22	$\frac{22}{180} = \frac{11}{90}$	12.2%
	29	$\frac{29}{180}$	16.1%
	47	$\frac{47}{180}$	26.1%
	36	$\frac{36}{180} = \frac{1}{5}$	20%
	46	$\frac{46}{180} = \frac{23}{90}$	25.6%