






Frecuencias de Conejos de Pascuas (G)

Nombre: _____ Fecha: _____ Puntuación: _____

Determinen la frecuencia, la frecuencia relativa, y el porcentaje (hasta un lugar decimal) de cada elemento.



Objeto	Frecuencia	Frecuencia Relativa	Porcentaje
			
			
			
			
			

Frecuencias de Conejos de Pascuas (G) Respuestas

Nombre: _____ Fecha: _____ Puntuación: _____

Determinen la frecuencia, la frecuencia relativa, y el porcentaje (hasta un lugar decimal) de cada elemento.



Objeto	Frecuencia	Frecuencia Relativa	Porcentaje
	10	$\frac{10}{180} = \frac{1}{18}$	5.6%
	18	$\frac{18}{180} = \frac{1}{10}$	10%
	33	$\frac{33}{180} = \frac{11}{60}$	18.3%
	25	$\frac{25}{180} = \frac{5}{36}$	13.9%
	94	$\frac{94}{180} = \frac{47}{90}$	52.2%