






Frecuencias de Conejos de Pascuas (J)

Nombre: _____ Fecha: _____ Puntuación: _____

Determinen la frecuencia, la frecuencia relativa, y el porcentaje (hasta un lugar decimal) de cada elemento.



Objeto	Frecuencia	Frecuencia Relativa	Porcentaje
			
			
			
			
			

Frecuencias de Conejos de Pascuas (J) Respuestas

Nombre: _____ Fecha: _____ Puntuación: _____

Determinen la frecuencia, la frecuencia relativa, y el porcentaje (hasta un lugar decimal) de cada elemento.



Objeto	Frecuencia	Frecuencia Relativa	Porcentaje
	55	$\frac{55}{180} = \frac{11}{36}$	30.6%
	21	$\frac{21}{180} = \frac{7}{60}$	11.7%
	42	$\frac{42}{180} = \frac{7}{30}$	23.3%
	25	$\frac{25}{180} = \frac{5}{36}$	13.9%
	37	$\frac{37}{180}$	20.6%