


# Frecuencias de Huevos de Pascuas (J)

Nombre: \_\_\_\_\_

Fecha: \_\_\_\_\_

Puntuación: \_\_\_\_\_

Determinen la frecuencia, la frecuencia relativa, y el porcentaje (hasta un lugar decimal) de cada elemento.



Objeto	Frecuencia	Frecuencia Relativa	Porcentaje


# Frecuencias de Huevos de Pascuas (J) Respuestas






Nombre: \_\_\_\_\_

Fecha: \_\_\_\_\_

Puntuación: \_\_\_\_\_

Determinen la frecuencia, la frecuencia relativa, y el porcentaje (hasta un lugar decimal) de cada elemento.



Objeto	Frecuencia	Frecuencia Relativa	Porcentaje
	20	$\frac{20}{200} = \frac{1}{10}$	10%
	44	$\frac{44}{200} = \frac{11}{50}$	22%
	26	$\frac{26}{200} = \frac{13}{100}$	13%
	56	$\frac{56}{200} = \frac{7}{25}$	28%
	54	$\frac{54}{200} = \frac{27}{100}$	27%