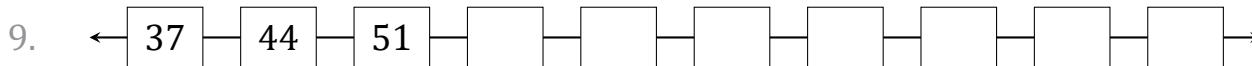
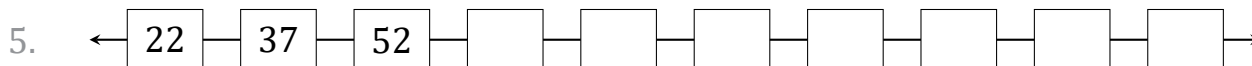
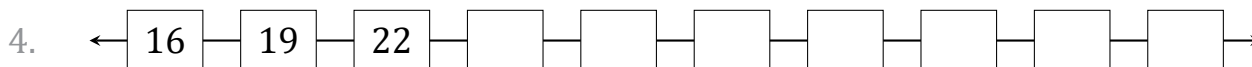
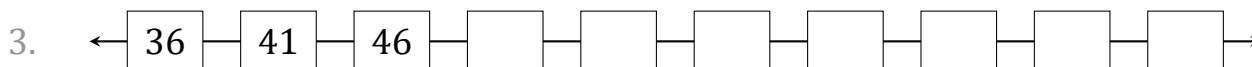


Secuencias Numéricas (B)

Nombre: _____

Fecha: _____

Identifique, continúe y describa cada secuencia numérica.



Secuencias Numéricas (B) Respuestas

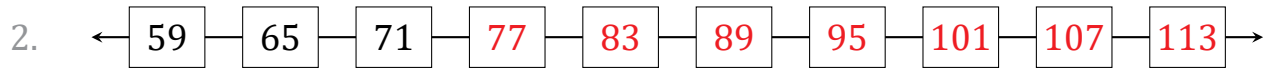
Nombre: _____

Fecha: _____

Identifique, continúe y describa cada secuencia numérica.



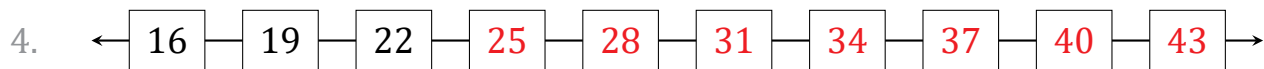
Comenzar en 1 y sumar 2 en cada paso.



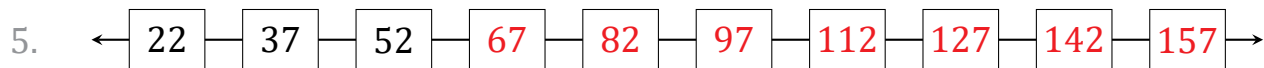
Comenzar en 59 y sumar 6 en cada paso.



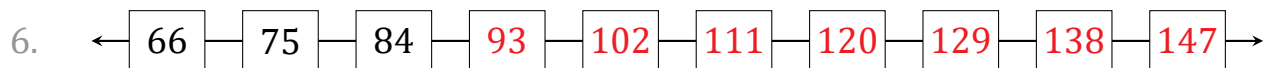
Comenzar en 36 y sumar 5 en cada paso.



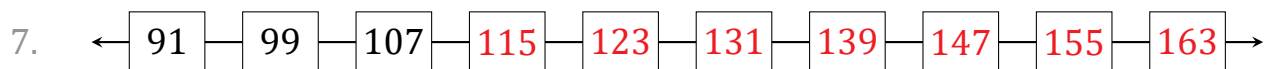
Comenzar en 16 y sumar 3 en cada paso.



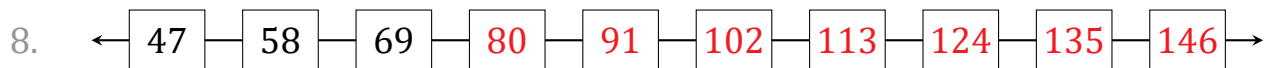
Comenzar en 22 y sumar 15 en cada paso.



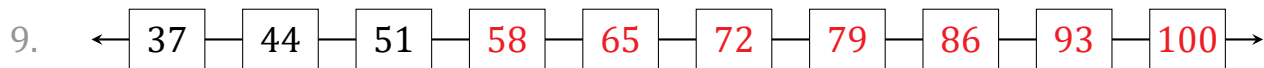
Comenzar en 66 y sumar 9 en cada paso.



Comenzar en 91 y sumar 8 en cada paso.



Comenzar en 47 y sumar 11 en cada paso.



Comenzar en 37 y sumar 7 en cada paso.



Comenzar en 79 y sumar 50 en cada paso.