

Secuencias Numéricas (A)

Nombre: _____

Fecha: _____

Identifique, continúe y describa cada secuencia numérica.

1. ←

38	—	44	—	50	—	□	—	□	—	□	—	□	—	□	—	□	—	□	—	□
----	---	----	---	----	---	---	---	---	---	---	---	---	---	---	---	---	---	---	---	---

 →

2. ←

66	—	76	—	86	—	□	—	□	—	□	—	□	—	□	—	□	—	□	—	□
----	---	----	---	----	---	---	---	---	---	---	---	---	---	---	---	---	---	---	---	---

 →

3. ←

6	—	11	—	16	—	□	—	□	—	□	—	□	—	□	—	□	—	□	—	□
---	---	----	---	----	---	---	---	---	---	---	---	---	---	---	---	---	---	---	---	---

 →

4. ←

17	—	28	—	39	—	□	—	□	—	□	—	□	—	□	—	□	—	□	—	□
----	---	----	---	----	---	---	---	---	---	---	---	---	---	---	---	---	---	---	---	---

 →

5. ←

20	—	35	—	50	—	□	—	□	—	□	—	□	—	□	—	□	—	□	—	□
----	---	----	---	----	---	---	---	---	---	---	---	---	---	---	---	---	---	---	---	---

 →

6. ←

73	—	77	—	81	—	□	—	□	—	□	—	□	—	□	—	□	—	□	—	□
----	---	----	---	----	---	---	---	---	---	---	---	---	---	---	---	---	---	---	---	---

 →

7. ←

57	—	66	—	75	—	□	—	□	—	□	—	□	—	□	—	□	—	□	—	□
----	---	----	---	----	---	---	---	---	---	---	---	---	---	---	---	---	---	---	---	---

 →

8. ←

96	—	121	—	146	—	□	—	□	—	□	—	□	—	□	—	□	—	□	—	□
----	---	-----	---	-----	---	---	---	---	---	---	---	---	---	---	---	---	---	---	---	---

 →

9. ←

48	—	51	—	54	—	□	—	□	—	□	—	□	—	□	—	□	—	□	—	□
----	---	----	---	----	---	---	---	---	---	---	---	---	---	---	---	---	---	---	---	---

 →

10. ←

89	—	90	—	91	—	□	—	□	—	□	—	□	—	□	—	□	—	□	—	□
----	---	----	---	----	---	---	---	---	---	---	---	---	---	---	---	---	---	---	---	---

 →

Secuencias Numéricas (A) Respuestas

Nombre: _____

Fecha: _____

Identifique, continúe y describa cada secuencia numérica.

1. ← 38 — 44 — 50 — 56 — 62 — 68 — 74 — 80 — 86 — 92 →

Comenzar en 38 y sumar 6 en cada paso.

2. ← 66 — 76 — 86 — 96 — 106 — 116 — 126 — 136 — 146 — 156 →

Comenzar en 66 y sumar 10 en cada paso.

3. ← 6 — 11 — 16 — 21 — 26 — 31 — 36 — 41 — 46 — 51 →

Comenzar en 6 y sumar 5 en cada paso.

4. ← 17 — 28 — 39 — 50 — 61 — 72 — 83 — 94 — 105 — 116 →

Comenzar en 17 y sumar 11 en cada paso.

5. ← 20 — 35 — 50 — 65 — 80 — 95 — 110 — 125 — 140 — 155 →

Comenzar en 20 y sumar 15 en cada paso.

6. ← 73 — 77 — 81 — 85 — 89 — 93 — 97 — 101 — 105 — 109 →

Comenzar en 73 y sumar 4 en cada paso.

7. ← 57 — 66 — 75 — 84 — 93 — 102 — 111 — 120 — 129 — 138 →

Comenzar en 57 y sumar 9 en cada paso.

8. ← 96 — 121 — 146 — 171 — 196 — 221 — 246 — 271 — 296 — 321 →

Comenzar en 96 y sumar 25 en cada paso.

9. ← 48 — 51 — 54 — 57 — 60 — 63 — 66 — 69 — 72 — 75 →

Comenzar en 48 y sumar 3 en cada paso.

10. ← 89 — 90 — 91 — 92 — 93 — 94 — 95 — 96 — 97 — 98 →

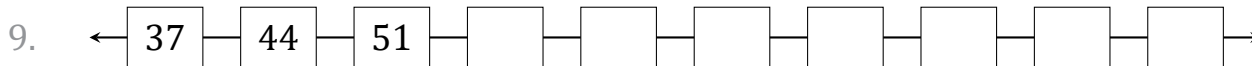
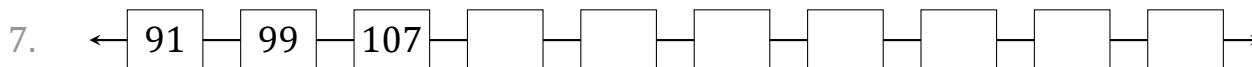
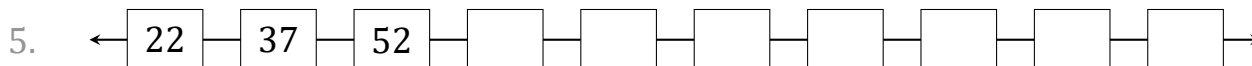
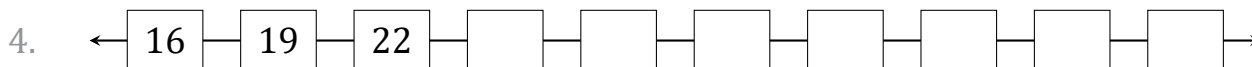
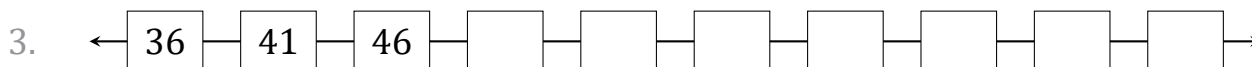
Comenzar en 89 y sumar 1 en cada paso.

Secuencias Numéricas (B)

Nombre: _____

Fecha: _____

Identifique, continúe y describa cada secuencia numérica.



Secuencias Numéricas (B) Respuestas

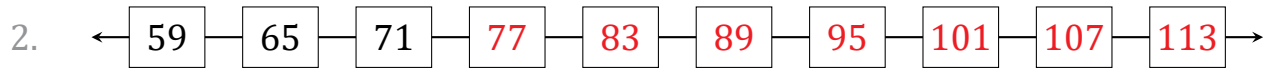
Nombre: _____

Fecha: _____

Identifique, continúe y describa cada secuencia numérica.



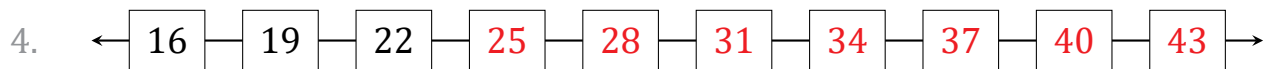
Comenzar en 1 y sumar 2 en cada paso.



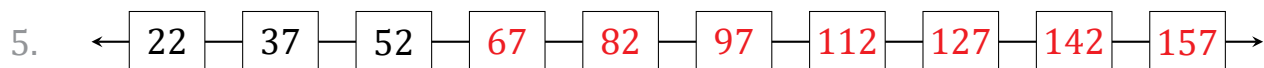
Comenzar en 59 y sumar 6 en cada paso.



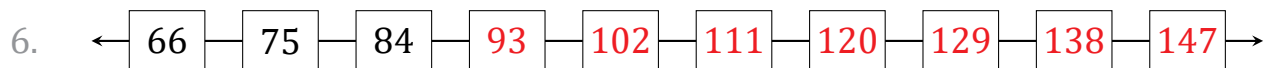
Comenzar en 36 y sumar 5 en cada paso.



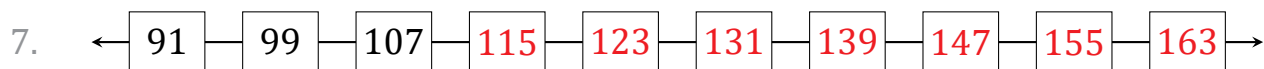
Comenzar en 16 y sumar 3 en cada paso.



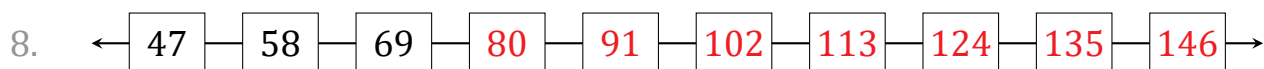
Comenzar en 22 y sumar 15 en cada paso.



Comenzar en 66 y sumar 9 en cada paso.



Comenzar en 91 y sumar 8 en cada paso.



Comenzar en 47 y sumar 11 en cada paso.



Comenzar en 37 y sumar 7 en cada paso.



Comenzar en 79 y sumar 50 en cada paso.

Secuencias Numéricas (C)

Nombre: _____

Fecha: _____

Identifique, continúe y describa cada secuencia numérica.

1. ←

11

 —

36

 —

61

 —

--

 —

--

 —

--

 —

--

 —

--

 —

--

 —

--

 —

--

 →

2. ←

67

 —

75

 —

83

 —

--

 —

--

 —

--

 —

--

 —

--

 —

--

 —

--

 —

--

 →

3. ←

45

 —

46

 —

47

 —

--

 —

--

 —

--

 —

--

 —

--

 —

--

 —

--

 —

--

 →

4. ←

96

 —

106

 —

116

 —

--

 —

--

 —

--

 —

--

 —

--

 —

--

 —

--

 —

--

 →

5. ←

88

 —

100

 —

112

 —

--

 —

--

 —

--

 —

--

 —

--

 —

--

 —

--

 —

--

 →

6. ←

7

 —

10

 —

13

 —

--

 —

--

 —

--

 —

--

 —

--

 —

--

 —

--

 —

--

 →

7. ←

47

 —

53

 —

59

 —

--

 —

--

 —

--

 —

--

 —

--

 —

--

 —

--

 —

--

 →

8. ←

61

 —

63

 —

65

 —

--

 —

--

 —

--

 —

--

 —

--

 —

--

 —

--

 —

--

 →

9. ←

30

 —

37

 —

44

 —

--

 —

--

 —

--

 —

--

 —

--

 —

--

 —

--

 —

--

 →

10. ←

23

 —

73

 —

123

 —

--

 —

--

 —

--

 —

--

 —

--

 —

--

 —

--

 —

--

 →

Secuencias Numéricas (C) Respuestas

Nombre: _____

Fecha: _____

Identifique, continúe y describa cada secuencia numérica.

1. ← 11 — 36 — 61 — 86 — 111 — 136 — 161 — 186 — 211 — 236 →

Comenzar en 11 y sumar 25 en cada paso.

2. ← 67 — 75 — 83 — 91 — 99 — 107 — 115 — 123 — 131 — 139 →

Comenzar en 67 y sumar 8 en cada paso.

3. ← 45 — 46 — 47 — 48 — 49 — 50 — 51 — 52 — 53 — 54 →

Comenzar en 45 y sumar 1 en cada paso.

4. ← 96 — 106 — 116 — 126 — 136 — 146 — 156 — 166 — 176 — 186 →

Comenzar en 96 y sumar 10 en cada paso.

5. ← 88 — 100 — 112 — 124 — 136 — 148 — 160 — 172 — 184 — 196 →

Comenzar en 88 y sumar 12 en cada paso.

6. ← 7 — 10 — 13 — 16 — 19 — 22 — 25 — 28 — 31 — 34 →

Comenzar en 7 y sumar 3 en cada paso.

7. ← 47 — 53 — 59 — 65 — 71 — 77 — 83 — 89 — 95 — 101 →

Comenzar en 47 y sumar 6 en cada paso.

8. ← 61 — 63 — 65 — 67 — 69 — 71 — 73 — 75 — 77 — 79 →

Comenzar en 61 y sumar 2 en cada paso.

9. ← 30 — 37 — 44 — 51 — 58 — 65 — 72 — 79 — 86 — 93 →

Comenzar en 30 y sumar 7 en cada paso.

10. ← 23 — 73 — 123 — 173 — 223 — 273 — 323 — 373 — 423 — 473 →

Comenzar en 23 y sumar 50 en cada paso.

Secuencias Numéricas (D)

Nombre: _____

Fecha: _____

Identifique, continúe y describa cada secuencia numérica.

1. ←

42	—	43	—	44	—	□	—	□	—	□	—	□	—	□	—	□	—	□	—	□
----	---	----	---	----	---	---	---	---	---	---	---	---	---	---	---	---	---	---	---	---

 →

2. ←

14	—	64	—	114	—	□	—	□	—	□	—	□	—	□	—	□	—	□	—	□
----	---	----	---	-----	---	---	---	---	---	---	---	---	---	---	---	---	---	---	---	---

 →

3. ←

58	—	64	—	70	—	□	—	□	—	□	—	□	—	□	—	□	—	□	—	□
----	---	----	---	----	---	---	---	---	---	---	---	---	---	---	---	---	---	---	---	---

 →

4. ←

71	—	86	—	101	—	□	—	□	—	□	—	□	—	□	—	□	—	□	—	□
----	---	----	---	-----	---	---	---	---	---	---	---	---	---	---	---	---	---	---	---	---

 →

5. ←

29	—	36	—	43	—	□	—	□	—	□	—	□	—	□	—	□	—	□	—	□
----	---	----	---	----	---	---	---	---	---	---	---	---	---	---	---	---	---	---	---	---

 →

6. ←

53	—	65	—	77	—	□	—	□	—	□	—	□	—	□	—	□	—	□	—	□
----	---	----	---	----	---	---	---	---	---	---	---	---	---	---	---	---	---	---	---	---

 →

7. ←

78	—	178	—	278	—	□	—	□	—	□	—	□	—	□	—	□	—	□	—	□
----	---	-----	---	-----	---	---	---	---	---	---	---	---	---	---	---	---	---	---	---	---

 →

8. ←

83	—	92	—	101	—	□	—	□	—	□	—	□	—	□	—	□	—	□	—	□
----	---	----	---	-----	---	---	---	---	---	---	---	---	---	---	---	---	---	---	---	---

 →

9. ←

6	—	10	—	14	—	□	—	□	—	□	—	□	—	□	—	□	—	□	—	□
---	---	----	---	----	---	---	---	---	---	---	---	---	---	---	---	---	---	---	---	---

 →

10. ←

91	—	101	—	111	—	□	—	□	—	□	—	□	—	□	—	□	—	□	—	□
----	---	-----	---	-----	---	---	---	---	---	---	---	---	---	---	---	---	---	---	---	---

 →

Secuencias Numéricas (D) Respuestas

Nombre: _____

Fecha: _____

Identifique, continúe y describa cada secuencia numérica.

1. ← 42 — 43 — 44 — 45 — 46 — 47 — 48 — 49 — 50 — 51 →

Comenzar en 42 y sumar 1 en cada paso.

2. ← 14 — 64 — 114 — 164 — 214 — 264 — 314 — 364 — 414 — 464 →

Comenzar en 14 y sumar 50 en cada paso.

3. ← 58 — 64 — 70 — 76 — 82 — 88 — 94 — 100 — 106 — 112 →

Comenzar en 58 y sumar 6 en cada paso.

4. ← 71 — 86 — 101 — 116 — 131 — 146 — 161 — 176 — 191 — 206 →

Comenzar en 71 y sumar 15 en cada paso.

5. ← 29 — 36 — 43 — 50 — 57 — 64 — 71 — 78 — 85 — 92 →

Comenzar en 29 y sumar 7 en cada paso.

6. ← 53 — 65 — 77 — 89 — 101 — 113 — 125 — 137 — 149 — 161 →

Comenzar en 53 y sumar 12 en cada paso.

7. ← 78 — 178 — 278 — 378 — 478 — 578 — 678 — 778 — 878 — 978 →

Comenzar en 78 y sumar 100 en cada paso.

8. ← 83 — 92 — 101 — 110 — 119 — 128 — 137 — 146 — 155 — 164 →

Comenzar en 83 y sumar 9 en cada paso.

9. ← 6 — 10 — 14 — 18 — 22 — 26 — 30 — 34 — 38 — 42 →

Comenzar en 6 y sumar 4 en cada paso.

10. ← 91 — 101 — 111 — 121 — 131 — 141 — 151 — 161 — 171 — 181 →

Comenzar en 91 y sumar 10 en cada paso.

Secuencias Numéricas (E)

Nombre: _____

Fecha: _____

Identifique, continúe y describa cada secuencia numérica.

1. ← — — — — — — — — — →

2. ← — — — — — — — — — →

3. ← — — — — — — — — — →

4. ← — — — — — — — — — →

5. ← — — — — — — — — — →

6. ← — — — — — — — — — →

7. ← — — — — — — — — — →

8. ← — — — — — — — — — →

9. ← — — — — — — — — — →

10. ← — — — — — — — — — →

Secuencias Numéricas (E) Respuestas

Nombre: _____

Fecha: _____

Identifique, continúe y describa cada secuencia numérica.

1. ← 94 — 109 — 124 — 139 — 154 — 169 — 184 — 199 — 214 — 229 →

Comenzar en 94 y sumar 15 en cada paso.

2. ← 47 — 52 — 57 — 62 — 67 — 72 — 77 — 82 — 87 — 92 →

Comenzar en 47 y sumar 5 en cada paso.

3. ← 85 — 91 — 97 — 103 — 109 — 115 — 121 — 127 — 133 — 139 →

Comenzar en 85 y sumar 6 en cada paso.

4. ← 66 — 74 — 82 — 90 — 98 — 106 — 114 — 122 — 130 — 138 →

Comenzar en 66 y sumar 8 en cada paso.

5. ← 59 — 70 — 81 — 92 — 103 — 114 — 125 — 136 — 147 — 158 →

Comenzar en 59 y sumar 11 en cada paso.

6. ← 8 — 9 — 10 — 11 — 12 — 13 — 14 — 15 — 16 — 17 →

Comenzar en 8 y sumar 1 en cada paso.

7. ← 80 — 84 — 88 — 92 — 96 — 100 — 104 — 108 — 112 — 116 →

Comenzar en 80 y sumar 4 en cada paso.

8. ← 12 — 21 — 30 — 39 — 48 — 57 — 66 — 75 — 84 — 93 →

Comenzar en 12 y sumar 9 en cada paso.

9. ← 45 — 52 — 59 — 66 — 73 — 80 — 87 — 94 — 101 — 108 →

Comenzar en 45 y sumar 7 en cada paso.

10. ← 32 — 132 — 232 — 332 — 432 — 532 — 632 — 732 — 832 — 932 →

Comenzar en 32 y sumar 100 en cada paso.

Secuencias Numéricas (F)

Nombre: _____

Fecha: _____

Identifique, continúe y describa cada secuencia numérica.

1. ← — — — — — — — — — →

2. ← — — — — — — — — — →

3. ← — — — — — — — — — →

4. ← — — — — — — — — — →

5. ← — — — — — — — — — →

6. ← — — — — — — — — — →

7. ← — — — — — — — — — →

8. ← — — — — — — — — — →

9. ← — — — — — — — — — →

10. ← — — — — — — — — — →

Secuencias Numéricas (F) Respuestas

Nombre: _____

Fecha: _____

Identifique, continúe y describa cada secuencia numérica.

1. ← 68 — 79 — 90 — 101 — 112 — 123 — 134 — 145 — 156 — 167 →

Comenzar en 68 y sumar 11 en cada paso.

2. ← 95 — 102 — 109 — 116 — 123 — 130 — 137 — 144 — 151 — 158 →

Comenzar en 95 y sumar 7 en cada paso.

3. ← 50 — 60 — 70 — 80 — 90 — 100 — 110 — 120 — 130 — 140 →

Comenzar en 50 y sumar 10 en cada paso.

4. ← 59 — 62 — 65 — 68 — 71 — 74 — 77 — 80 — 83 — 86 →

Comenzar en 59 y sumar 3 en cada paso.

5. ← 87 — 91 — 95 — 99 — 103 — 107 — 111 — 115 — 119 — 123 →

Comenzar en 87 y sumar 4 en cada paso.

6. ← 36 — 48 — 60 — 72 — 84 — 96 — 108 — 120 — 132 — 144 →

Comenzar en 36 y sumar 12 en cada paso.

7. ← 43 — 48 — 53 — 58 — 63 — 68 — 73 — 78 — 83 — 88 →

Comenzar en 43 y sumar 5 en cada paso.

8. ← 77 — 83 — 89 — 95 — 101 — 107 — 113 — 119 — 125 — 131 →

Comenzar en 77 y sumar 6 en cada paso.

9. ← 4 — 54 — 104 — 154 — 204 — 254 — 304 — 354 — 404 — 454 →

Comenzar en 4 y sumar 50 en cada paso.

10. ← 18 — 26 — 34 — 42 — 50 — 58 — 66 — 74 — 82 — 90 →

Comenzar en 18 y sumar 8 en cada paso.

Secuencias Numéricas (G)

Nombre: _____

Fecha: _____

Identifique, continúe y describa cada secuencia numérica.

1. ← — — — — — — — — — →

2. ← — — — — — — — — — →

3. ← — — — — — — — — — →

4. ← — — — — — — — — — →

5. ← — — — — — — — — — →

6. ← — — — — — — — — — →

7. ← — — — — — — — — — →

8. ← — — — — — — — — — →

9. ← — — — — — — — — — →

10. ← — — — — — — — — — →

Secuencias Numéricas (G) Respuestas

Nombre: _____

Fecha: _____

Identifique, continúe y describa cada secuencia numérica.

1. ← 29 — 36 — 43 — 50 — 57 — 64 — 71 — 78 — 85 — 92 →

Comenzar en 29 y sumar 7 en cada paso.

2. ← 67 — 78 — 89 — 100 — 111 — 122 — 133 — 144 — 155 — 166 →

Comenzar en 67 y sumar 11 en cada paso.

3. ← 96 — 121 — 146 — 171 — 196 — 221 — 246 — 271 — 296 — 321 →

Comenzar en 96 y sumar 25 en cada paso.

4. ← 23 — 29 — 35 — 41 — 47 — 53 — 59 — 65 — 71 — 77 →

Comenzar en 23 y sumar 6 en cada paso.

5. ← 84 — 92 — 100 — 108 — 116 — 124 — 132 — 140 — 148 — 156 →

Comenzar en 84 y sumar 8 en cada paso.

6. ← 58 — 70 — 82 — 94 — 106 — 118 — 130 — 142 — 154 — 166 →

Comenzar en 58 y sumar 12 en cada paso.

7. ← 79 — 88 — 97 — 106 — 115 — 124 — 133 — 142 — 151 — 160 →

Comenzar en 79 y sumar 9 en cada paso.

8. ← 43 — 44 — 45 — 46 — 47 — 48 — 49 — 50 — 51 — 52 →

Comenzar en 43 y sumar 1 en cada paso.

9. ← 9 — 11 — 13 — 15 — 17 — 19 — 21 — 23 — 25 — 27 →

Comenzar en 9 y sumar 2 en cada paso.

10. ← 54 — 59 — 64 — 69 — 74 — 79 — 84 — 89 — 94 — 99 →

Comenzar en 54 y sumar 5 en cada paso.

Secuencias Numéricas (H)

Nombre: _____

Fecha: _____

Identifique, continúe y describa cada secuencia numérica.

1. \leftarrow — — — — — — — — — \rightarrow

2. \leftarrow — — — — — — — — — \rightarrow

3. \leftarrow — — — — — — — — — \rightarrow

4. \leftarrow — — — — — — — — — \rightarrow

5. \leftarrow — — — — — — — — — \rightarrow

6. \leftarrow — — — — — — — — — \rightarrow

7. \leftarrow — — — — — — — — — \rightarrow

8. \leftarrow — — — — — — — — — \rightarrow

9. \leftarrow — — — — — — — — — \rightarrow

10. \leftarrow — — — — — — — — — \rightarrow

Secuencias Numéricas (H) Respuestas

Nombre: _____

Fecha: _____

Identifique, continúe y describa cada secuencia numérica.

1. ← 33 — 48 — 63 — 78 — 93 — 108 — 123 — 138 — 153 — 168 →

Comenzar en 33 y sumar 15 en cada paso.

2. ← 91 — 94 — 97 — 100 — 103 — 106 — 109 — 112 — 115 — 118 →

Comenzar en 91 y sumar 3 en cada paso.

3. ← 27 — 31 — 35 — 39 — 43 — 47 — 51 — 55 — 59 — 63 →

Comenzar en 27 y sumar 4 en cada paso.

4. ← 73 — 173 — 273 — 373 — 473 — 573 — 673 — 773 — 873 — 973 →

Comenzar en 73 y sumar 100 en cada paso.

5. ← 58 — 69 — 80 — 91 — 102 — 113 — 124 — 135 — 146 — 157 →

Comenzar en 58 y sumar 11 en cada paso.

6. ← 83 — 108 — 133 — 158 — 183 — 208 — 233 — 258 — 283 — 308 →

Comenzar en 83 y sumar 25 en cada paso.

7. ← 5 — 6 — 7 — 8 — 9 — 10 — 11 — 12 — 13 — 14 →

Comenzar en 5 y sumar 1 en cada paso.

8. ← 66 — 78 — 90 — 102 — 114 — 126 — 138 — 150 — 162 — 174 →

Comenzar en 66 y sumar 12 en cada paso.

9. ← 48 — 55 — 62 — 69 — 76 — 83 — 90 — 97 — 104 — 111 →

Comenzar en 48 y sumar 7 en cada paso.

10. ← 18 — 26 — 34 — 42 — 50 — 58 — 66 — 74 — 82 — 90 →

Comenzar en 18 y sumar 8 en cada paso.

Secuencias Numéricas (I)

Nombre: _____

Fecha: _____

Identifique, continúe y describa cada secuencia numérica.

1. ←

11	—	17	—	23	—	□	—	□	—	□	—	□	—	□	—	□	—	□	—	□
----	---	----	---	----	---	---	---	---	---	---	---	---	---	---	---	---	---	---	---	---

 →

2. ←

20	—	30	—	40	—	□	—	□	—	□	—	□	—	□	—	□	—	□	—	□
----	---	----	---	----	---	---	---	---	---	---	---	---	---	---	---	---	---	---	---	---

 →

3. ←

61	—	70	—	79	—	□	—	□	—	□	—	□	—	□	—	□	—	□	—	□
----	---	----	---	----	---	---	---	---	---	---	---	---	---	---	---	---	---	---	---	---

 →

4. ←

65	—	80	—	95	—	□	—	□	—	□	—	□	—	□	—	□	—	□	—	□
----	---	----	---	----	---	---	---	---	---	---	---	---	---	---	---	---	---	---	---	---

 →

5. ←

98	—	123	—	148	—	□	—	□	—	□	—	□	—	□	—	□	—	□	—	□
----	---	-----	---	-----	---	---	---	---	---	---	---	---	---	---	---	---	---	---	---	---

 →

6. ←

30	—	37	—	44	—	□	—	□	—	□	—	□	—	□	—	□	—	□	—	□
----	---	----	---	----	---	---	---	---	---	---	---	---	---	---	---	---	---	---	---	---

 →

7. ←

78	—	83	—	88	—	□	—	□	—	□	—	□	—	□	—	□	—	□	—	□
----	---	----	---	----	---	---	---	---	---	---	---	---	---	---	---	---	---	---	---	---

 →

8. ←

40	—	44	—	48	—	□	—	□	—	□	—	□	—	□	—	□	—	□	—	□
----	---	----	---	----	---	---	---	---	---	---	---	---	---	---	---	---	---	---	---	---

 →

9. ←

86	—	89	—	92	—	□	—	□	—	□	—	□	—	□	—	□	—	□	—	□
----	---	----	---	----	---	---	---	---	---	---	---	---	---	---	---	---	---	---	---	---

 →

10. ←

2	—	3	—	4	—	□	—	□	—	□	—	□	—	□	—	□	—	□	—	□
---	---	---	---	---	---	---	---	---	---	---	---	---	---	---	---	---	---	---	---	---

 →

Secuencias Numéricas (I) Respuestas

Nombre: _____

Fecha: _____

Identifique, continúe y describa cada secuencia numérica.




Comenzar en 11 y sumar 6 en cada paso.



Comenzar en 20 y sumar 10 en cada paso.



Comenzar en 61 y sumar 9 en cada paso.



Comenzar en 65 y sumar 15 en cada paso.



Comenzar en 98 y sumar 25 en cada paso.



Comenzar en 30 y sumar 7 en cada paso.



Comenzar en 78 y sumar 5 en cada paso.



Comenzar en 40 y sumar 4 en cada paso.



Comenzar en 86 y sumar 3 en cada paso.



Comenzar en 2 y sumar 1 en cada paso.

Secuencias Numéricas (J)

Nombre: _____

Fecha: _____

Identifique, continúe y describa cada secuencia numérica.

1. ← — — — — — — — — — →

2. ← — — — — — — — — — →

3. ← — — — — — — — — — →

4. ← — — — — — — — — — →

5. ← — — — — — — — — — →

6. ← — — — — — — — — — →

7. ← — — — — — — — — — →

8. ← — — — — — — — — — →

9. ← — — — — — — — — — →

10. ← — — — — — — — — — →

Secuencias Numéricas (J) Respuestas

Nombre: _____

Fecha: _____

Identifique, continúe y describa cada secuencia numérica.

1. ← 64 — 67 — 70 — 73 — 76 — 79 — 82 — 85 — 88 — 91 →

Comenzar en 64 y sumar 3 en cada paso.

2. ← 26 — 41 — 56 — 71 — 86 — 101 — 116 — 131 — 146 — 161 →

Comenzar en 26 y sumar 15 en cada paso.

3. ← 75 — 84 — 93 — 102 — 111 — 120 — 129 — 138 — 147 — 156 →

Comenzar en 75 y sumar 9 en cada paso.

4. ← 30 — 40 — 50 — 60 — 70 — 80 — 90 — 100 — 110 — 120 →

Comenzar en 30 y sumar 10 en cada paso.

5. ← 89 — 101 — 113 — 125 — 137 — 149 — 161 — 173 — 185 — 197 →

Comenzar en 89 y sumar 12 en cada paso.

6. ← 42 — 48 — 54 — 60 — 66 — 72 — 78 — 84 — 90 — 96 →

Comenzar en 42 y sumar 6 en cada paso.

7. ← 1 — 9 — 17 — 25 — 33 — 41 — 49 — 57 — 65 — 73 →

Comenzar en 1 y sumar 8 en cada paso.

8. ← 61 — 161 — 261 — 361 — 461 — 561 — 661 — 761 — 861 — 961 →

Comenzar en 61 y sumar 100 en cada paso.

9. ← 53 — 55 — 57 — 59 — 61 — 63 — 65 — 67 — 69 — 71 →

Comenzar en 53 y sumar 2 en cada paso.

10. ← 12 — 19 — 26 — 33 — 40 — 47 — 54 — 61 — 68 — 75 →

Comenzar en 12 y sumar 7 en cada paso.