

Secuencias Numéricas (A)

Nombre: _____

Fecha: _____

Identifique, continúe y describa cada secuencia numérica.

1. ← — — — — — — — — — →

2. ← — — — — — — — — — →

3. ← — — — — — — — — — →

4. ← — — — — — — — — — →

5. ← — — — — — — — — — →

6. ← — — — — — — — — — →

7. ← — — — — — — — — — →

8. ← — — — — — — — — — →

9. ← — — — — — — — — — →

10. ← — — — — — — — — — →

Secuencias Numéricas (A) Respuestas

Nombre: _____

Fecha: _____

Identifique, continúe y describa cada secuencia numérica.



Comenzar en 54 y restar 3 en cada paso.




Comenzar en 37 y sumar 25 en cada paso.



Comenzar en 91 y restar 5 en cada paso.



Comenzar en 35 y sumar 100 en cada paso.



Comenzar en 519 y restar 50 en cada paso.



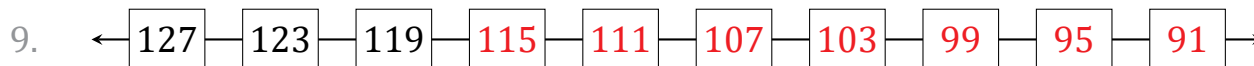
Comenzar en 82 y sumar 6 en cada paso.



Comenzar en 141 y restar 9 en cada paso.



Comenzar en 11 y sumar 1 en cada paso.



Comenzar en 127 y restar 4 en cada paso.



Comenzar en 77 y sumar 12 en cada paso.

Secuencias Numéricas (B)

Nombre: _____

Fecha: _____

Identifique, continúe y describa cada secuencia numérica.

1. \leftarrow \rightarrow

2. \leftarrow \rightarrow

3. \leftarrow \rightarrow

4. \leftarrow \rightarrow

5. \leftarrow \rightarrow

6. \leftarrow \rightarrow

7. \leftarrow \rightarrow

8. \leftarrow \rightarrow

9. \leftarrow \rightarrow

10. \leftarrow \rightarrow

Secuencias Numéricas (B) Respuestas

Nombre: _____

Fecha: _____

Identifique, continúe y describa cada secuencia numérica.

1. ← 290 — 265 — 240 — 215 — 190 — 165 — 140 — 115 — 90 — 65 →

Comenzar en 290 y restar 25 en cada paso.

2. ← 18 — 25 — 32 — 39 — 46 — 53 — 60 — 67 — 74 — 81 →

Comenzar en 18 y sumar 7 en cada paso.

3. ← 191 — 180 — 169 — 158 — 147 — 136 — 125 — 114 — 103 — 92 →

Comenzar en 191 y restar 11 en cada paso.

4. ← 79 — 87 — 95 — 103 — 111 — 119 — 127 — 135 — 143 — 151 →

Comenzar en 79 y sumar 8 en cada paso.

5. ← 155 — 143 — 131 — 119 — 107 — 95 — 83 — 71 — 59 — 47 →

Comenzar en 155 y restar 12 en cada paso.

6. ← 34 — 39 — 44 — 49 — 54 — 59 — 64 — 69 — 74 — 79 →

Comenzar en 34 y sumar 5 en cada paso.

7. ← 119 — 110 — 101 — 92 — 83 — 74 — 65 — 56 — 47 — 38 →

Comenzar en 119 y restar 9 en cada paso.

8. ← 84 — 134 — 184 — 234 — 284 — 334 — 384 — 434 — 484 — 534 →

Comenzar en 84 y sumar 50 en cada paso.

9. ← 42 — 40 — 38 — 36 — 34 — 32 — 30 — 28 — 26 — 24 →

Comenzar en 42 y restar 2 en cada paso.

10. ← 9 — 19 — 29 — 39 — 49 — 59 — 69 — 79 — 89 — 99 →

Comenzar en 9 y sumar 10 en cada paso.

Secuencias Numéricas (C)

Nombre: _____

Fecha: _____

Identifique, continúe y describa cada secuencia numérica.

1. \leftarrow \rightarrow

2. \leftarrow \rightarrow

3. \leftarrow \rightarrow

4. \leftarrow \rightarrow

5. \leftarrow \rightarrow

6. \leftarrow \rightarrow

7. \leftarrow \rightarrow

8. \leftarrow \rightarrow

9. \leftarrow \rightarrow

10. \leftarrow \rightarrow

Secuencias Numéricas (C) Respuestas

Nombre: _____

Fecha: _____

Identifique, continúe y describa cada secuencia numérica.

1. ← 123 — 118 — 113 — 108 — 103 — 98 — 93 — 88 — 83 — 78 →

Comenzar en 123 y restar 5 en cada paso.

2. ← 40 — 55 — 70 — 85 — 100 — 115 — 130 — 145 — 160 — 175 →

Comenzar en 40 y sumar 15 en cada paso.

3. ← 198 — 187 — 176 — 165 — 154 — 143 — 132 — 121 — 110 — 99 →

Comenzar en 198 y restar 11 en cada paso.

4. ← 34 — 134 — 234 — 334 — 434 — 534 — 634 — 734 — 834 — 934 →

Comenzar en 34 y sumar 100 en cada paso.

5. ← 174 — 162 — 150 — 138 — 126 — 114 — 102 — 90 — 78 — 66 →

Comenzar en 174 y restar 12 en cada paso.

6. ← 3 — 13 — 23 — 33 — 43 — 53 — 63 — 73 — 83 — 93 →

Comenzar en 3 y sumar 10 en cada paso.

7. ← 169 — 160 — 151 — 142 — 133 — 124 — 115 — 106 — 97 — 88 →

Comenzar en 169 y restar 9 en cada paso.

8. ← 60 — 63 — 66 — 69 — 72 — 75 — 78 — 81 — 84 — 87 →

Comenzar en 60 y sumar 3 en cada paso.

9. ← 60 — 59 — 58 — 57 — 56 — 55 — 54 — 53 — 52 — 51 →

Comenzar en 60 y restar 1 en cada paso.

10. ← 19 — 23 — 27 — 31 — 35 — 39 — 43 — 47 — 51 — 55 →

Comenzar en 19 y sumar 4 en cada paso.

Secuencias Numéricas (D)

Nombre: _____

Fecha: _____

Identifique, continúe y describa cada secuencia numérica.

1. ← 155 — 140 — 125 — — — — — — — →

2. ← 7 — 12 — 17 — — — — — — — →

3. ← 94 — 87 — 80 — — — — — — — →

4. ← 37 — 41 — 45 — — — — — — — →

5. ← 976 — 876 — 776 — — — — — — — →

6. ← 18 — 21 — 24 — — — — — — — →

7. ← 173 — 161 — 149 — — — — — — — →

8. ← 84 — 85 — 86 — — — — — — — →

9. ← 105 — 99 — 93 — — — — — — — →

10. ← 93 — 101 — 109 — — — — — — — →

Secuencias Numéricas (D) Respuestas

Nombre: _____

Fecha: _____

Identifique, continúe y describa cada secuencia numérica.

1. ← 155 — 140 — 125 — 110 — 95 — 80 — 65 — 50 — 35 — 20 →

Comenzar en 155 y restar 15 en cada paso.

2. ← 7 — 12 — 17 — 22 — 27 — 32 — 37 — 42 — 47 — 52 →

Comenzar en 7 y sumar 5 en cada paso.

3. ← 94 — 87 — 80 — 73 — 66 — 59 — 52 — 45 — 38 — 31 →

Comenzar en 94 y restar 7 en cada paso.

4. ← 37 — 41 — 45 — 49 — 53 — 57 — 61 — 65 — 69 — 73 →

Comenzar en 37 y sumar 4 en cada paso.

5. ← 976 — 876 — 776 — 676 — 576 — 476 — 376 — 276 — 176 — 76 →

Comenzar en 976 y restar 100 en cada paso.

6. ← 18 — 21 — 24 — 27 — 30 — 33 — 36 — 39 — 42 — 45 →

Comenzar en 18 y sumar 3 en cada paso.

7. ← 173 — 161 — 149 — 137 — 125 — 113 — 101 — 89 — 77 — 65 →

Comenzar en 173 y restar 12 en cada paso.

8. ← 84 — 85 — 86 — 87 — 88 — 89 — 90 — 91 — 92 — 93 →

Comenzar en 84 y sumar 1 en cada paso.

9. ← 105 — 99 — 93 — 87 — 81 — 75 — 69 — 63 — 57 — 51 →

Comenzar en 105 y restar 6 en cada paso.

10. ← 93 — 101 — 109 — 117 — 125 — 133 — 141 — 149 — 157 — 165 →

Comenzar en 93 y sumar 8 en cada paso.

Secuencias Numéricas (E)

Nombre: _____

Fecha: _____

Identifique, continúe y describa cada secuencia numérica.

1. ← 169 — 159 — 149 — — — — — — — →

2. ← 29 — 37 — 45 — — — — — — — →

3. ← 113 — 107 — 101 — — — — — — — →

4. ← 91 — 100 — 109 — — — — — — — →

5. ← 69 — 62 — 55 — — — — — — — →

6. ← 15 — 115 — 215 — — — — — — — →

7. ← 60 — 59 — 58 — — — — — — — →

8. ← 44 — 47 — 50 — — — — — — — →

9. ← 103 — 99 — 95 — — — — — — — →

10. ← 85 — 110 — 135 — — — — — — — →

Secuencias Numéricas (E) Respuestas

Nombre: _____

Fecha: _____

Identifique, continúe y describa cada secuencia numérica.

1. ← 169 — 159 — 149 — 139 — 129 — 119 — 109 — 99 — 89 — 79 →

Comenzar en 169 y restar 10 en cada paso.

2. ← 29 — 37 — 45 — 53 — 61 — 69 — 77 — 85 — 93 — 101 →

Comenzar en 29 y sumar 8 en cada paso.

3. ← 113 — 107 — 101 — 95 — 89 — 83 — 77 — 71 — 65 — 59 →

Comenzar en 113 y restar 6 en cada paso.

4. ← 91 — 100 — 109 — 118 — 127 — 136 — 145 — 154 — 163 — 172 →

Comenzar en 91 y sumar 9 en cada paso.

5. ← 69 — 62 — 55 — 48 — 41 — 34 — 27 — 20 — 13 — 6 →

Comenzar en 69 y restar 7 en cada paso.

6. ← 15 — 115 — 215 — 315 — 415 — 515 — 615 — 715 — 815 — 915 →

Comenzar en 15 y sumar 100 en cada paso.

7. ← 60 — 59 — 58 — 57 — 56 — 55 — 54 — 53 — 52 — 51 →

Comenzar en 60 y restar 1 en cada paso.

8. ← 44 — 47 — 50 — 53 — 56 — 59 — 62 — 65 — 68 — 71 →

Comenzar en 44 y sumar 3 en cada paso.

9. ← 103 — 99 — 95 — 91 — 87 — 83 — 79 — 75 — 71 — 67 →

Comenzar en 103 y restar 4 en cada paso.

10. ← 85 — 110 — 135 — 160 — 185 — 210 — 235 — 260 — 285 — 310 →

Comenzar en 85 y sumar 25 en cada paso.

Secuencias Numéricas (F)

Nombre: _____

Fecha: _____

Identifique, continúe y describa cada secuencia numérica.

1. ← — — — — — — — — — →

2. ← — — — — — — — — — →

3. ← — — — — — — — — — →

4. ← — — — — — — — — — →

5. ← — — — — — — — — — →

6. ← — — — — — — — — — →

7. ← — — — — — — — — — →

8. ← — — — — — — — — — →

9. ← — — — — — — — — — →

10. ← — — — — — — — — — →

Secuencias Numéricas (F) Respuestas

Nombre: _____

Fecha: _____

Identifique, continúe y describa cada secuencia numérica.



Comenzar en 42 y restar 2 en cada paso.



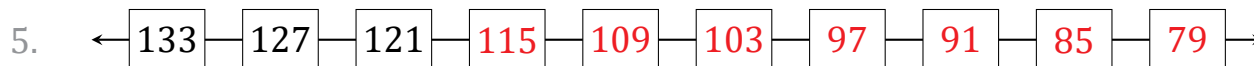
Comenzar en 55 y sumar 11 en cada paso.



Comenzar en 115 y restar 5 en cada paso.



Comenzar en 87 y sumar 15 en cada paso.



Comenzar en 133 y restar 6 en cada paso.



Comenzar en 97 y sumar 10 en cada paso.



Comenzar en 57 y restar 1 en cada paso.



Comenzar en 6 y sumar 9 en cada paso.



Comenzar en 43 y restar 3 en cada paso.



Comenzar en 38 y sumar 50 en cada paso.

Secuencias Numéricas (G)

Nombre: _____

Fecha: _____

Identifique, continúe y describa cada secuencia numérica.

1. ← — — — — — — — — — →

2. ← — — — — — — — — — →

3. ← — — — — — — — — — →

4. ← — — — — — — — — — →

5. ← — — — — — — — — — →

6. ← — — — — — — — — — →

7. ← — — — — — — — — — →

8. ← — — — — — — — — — →

9. ← — — — — — — — — — →

10. ← — — — — — — — — — →

Secuencias Numéricas (G) Respuestas

Nombre: _____

Fecha: _____

Identifique, continúe y describa cada secuencia numérica.

1. ← 139 — 133 — 127 — 121 — 115 — 109 — 103 — 97 — 91 — 85 →

Comenzar en 139 y restar 6 en cada paso.

2. ← 73 — 88 — 103 — 118 — 133 — 148 — 163 — 178 — 193 — 208 →

Comenzar en 73 y sumar 15 en cada paso.

3. ← 159 — 148 — 137 — 126 — 115 — 104 — 93 — 82 — 71 — 60 →

Comenzar en 159 y restar 11 en cada paso.

4. ← 20 — 23 — 26 — 29 — 32 — 35 — 38 — 41 — 44 — 47 →

Comenzar en 20 y sumar 3 en cada paso.

5. ← 139 — 134 — 129 — 124 — 119 — 114 — 109 — 104 — 99 — 94 →

Comenzar en 139 y restar 5 en cada paso.

6. ← 42 — 52 — 62 — 72 — 82 — 92 — 102 — 112 — 122 — 132 →

Comenzar en 42 y sumar 10 en cada paso.

7. ← 967 — 867 — 767 — 667 — 567 — 467 — 367 — 267 — 167 — 67 →

Comenzar en 967 y restar 100 en cada paso.

8. ← 16 — 41 — 66 — 91 — 116 — 141 — 166 — 191 — 216 — 241 →

Comenzar en 16 y sumar 25 en cada paso.

9. ← 72 — 70 — 68 — 66 — 64 — 62 — 60 — 58 — 56 — 54 →

Comenzar en 72 y restar 2 en cada paso.

10. ← 1 — 8 — 15 — 22 — 29 — 36 — 43 — 50 — 57 — 64 →

Comenzar en 1 y sumar 7 en cada paso.

Secuencias Numéricas (H)

Nombre: _____

Fecha: _____

Identifique, continúe y describa cada secuencia numérica.

1. ← 131 — 120 — 109 — — — — — — — →

2. ← 97 — 147 — 197 — — — — — — — →

3. ← 140 — 130 — 120 — — — — — — — →

4. ← 16 — 28 — 40 — — — — — — — →

5. ← 58 — 54 — 50 — — — — — — — →

6. ← 83 — 91 — 99 — — — — — — — →

7. ← 52 — 51 — 50 — — — — — — — →

8. ← 8 — 108 — 208 — — — — — — — →

9. ← 210 — 195 — 180 — — — — — — — →

10. ← 71 — 96 — 121 — — — — — — — →

Secuencias Numéricas (H) Respuestas

Nombre: _____

Fecha: _____

Identifique, continúe y describa cada secuencia numérica.

1. ← 131 — 120 — 109 — 98 — 87 — 76 — 65 — 54 — 43 — 32 →

Comenzar en 131 y restar 11 en cada paso.

2. ← 97 — 147 — 197 — 247 — 297 — 347 — 397 — 447 — 497 — 547 →

Comenzar en 97 y sumar 50 en cada paso.

3. ← 140 — 130 — 120 — 110 — 100 — 90 — 80 — 70 — 60 — 50 →

Comenzar en 140 y restar 10 en cada paso.

4. ← 16 — 28 — 40 — 52 — 64 — 76 — 88 — 100 — 112 — 124 →

Comenzar en 16 y sumar 12 en cada paso.

5. ← 58 — 54 — 50 — 46 — 42 — 38 — 34 — 30 — 26 — 22 →

Comenzar en 58 y restar 4 en cada paso.

6. ← 83 — 91 — 99 — 107 — 115 — 123 — 131 — 139 — 147 — 155 →

Comenzar en 83 y sumar 8 en cada paso.

7. ← 52 — 51 — 50 — 49 — 48 — 47 — 46 — 45 — 44 — 43 →

Comenzar en 52 y restar 1 en cada paso.

8. ← 8 — 108 — 208 — 308 — 408 — 508 — 608 — 708 — 808 — 908 →

Comenzar en 8 y sumar 100 en cada paso.

9. ← 210 — 195 — 180 — 165 — 150 — 135 — 120 — 105 — 90 — 75 →

Comenzar en 210 y restar 15 en cada paso.

10. ← 71 — 96 — 121 — 146 — 171 — 196 — 221 — 246 — 271 — 296 →

Comenzar en 71 y sumar 25 en cada paso.

Secuencias Numéricas (I)

Nombre: _____

Fecha: _____

Identifique, continúe y describa cada secuencia numérica.

1. ← 105 — 94 — 83 — — — — — — — →

2. ← 14 — 29 — 44 — — — — — — — →

3. ← 127 — 118 — 109 — — — — — — — →

4. ← 64 — 69 — 74 — — — — — — — →

5. ← 86 — 80 — 74 — — — — — — — →

6. ← 61 — 63 — 65 — — — — — — — →

7. ← 149 — 142 — 135 — — — — — — — →

8. ← 19 — 22 — 25 — — — — — — — →

9. ← 993 — 893 — 793 — — — — — — — →

10. ← 41 — 66 — 91 — — — — — — — →

Secuencias Numéricas (I) Respuestas

Nombre: _____

Fecha: _____

Identifique, continúe y describa cada secuencia numérica.

1. ← 105 — 94 — 83 — 72 — 61 — 50 — 39 — 28 — 17 — 6 →

Comenzar en 105 y restar 11 en cada paso.

2. ← 14 — 29 — 44 — 59 — 74 — 89 — 104 — 119 — 134 — 149 →

Comenzar en 14 y sumar 15 en cada paso.

3. ← 127 — 118 — 109 — 100 — 91 — 82 — 73 — 64 — 55 — 46 →

Comenzar en 127 y restar 9 en cada paso.

4. ← 64 — 69 — 74 — 79 — 84 — 89 — 94 — 99 — 104 — 109 →

Comenzar en 64 y sumar 5 en cada paso.

5. ← 86 — 80 — 74 — 68 — 62 — 56 — 50 — 44 — 38 — 32 →

Comenzar en 86 y restar 6 en cada paso.

6. ← 61 — 63 — 65 — 67 — 69 — 71 — 73 — 75 — 77 — 79 →

Comenzar en 61 y sumar 2 en cada paso.

7. ← 149 — 142 — 135 — 128 — 121 — 114 — 107 — 100 — 93 — 86 →

Comenzar en 149 y restar 7 en cada paso.

8. ← 19 — 22 — 25 — 28 — 31 — 34 — 37 — 40 — 43 — 46 →

Comenzar en 19 y sumar 3 en cada paso.

9. ← 993 — 893 — 793 — 693 — 593 — 493 — 393 — 293 — 193 — 93 →

Comenzar en 993 y restar 100 en cada paso.

10. ← 41 — 66 — 91 — 116 — 141 — 166 — 191 — 216 — 241 — 266 →

Comenzar en 41 y sumar 25 en cada paso.

Secuencias Numéricas (J)

Nombre: _____

Fecha: _____

Identifique, continúe y describa cada secuencia numérica.

1. ←

62	—	59	—	56	—	□	—	□	—	□	—	□	—	□	—	□	—	□	—	□
----	---	----	---	----	---	---	---	---	---	---	---	---	---	---	---	---	---	---	---	---

 →

2. ←

48	—	49	—	50	—	□	—	□	—	□	—	□	—	□	—	□	—	□	—	□
----	---	----	---	----	---	---	---	---	---	---	---	---	---	---	---	---	---	---	---	---

 →

3. ←

156	—	145	—	134	—	□	—	□	—	□	—	□	—	□	—	□	—	□	—	□
-----	---	-----	---	-----	---	---	---	---	---	---	---	---	---	---	---	---	---	---	---	---

 →

4. ←

39	—	45	—	51	—	□	—	□	—	□	—	□	—	□	—	□	—	□	—	□
----	---	----	---	----	---	---	---	---	---	---	---	---	---	---	---	---	---	---	---	---

 →

5. ←

105	—	96	—	87	—	□	—	□	—	□	—	□	—	□	—	□	—	□	—	□
-----	---	----	---	----	---	---	---	---	---	---	---	---	---	---	---	---	---	---	---	---

 →

6. ←

11	—	36	—	61	—	□	—	□	—	□	—	□	—	□	—	□	—	□	—	□
----	---	----	---	----	---	---	---	---	---	---	---	---	---	---	---	---	---	---	---	---

 →

7. ←

182	—	172	—	162	—	□	—	□	—	□	—	□	—	□	—	□	—	□	—	□
-----	---	-----	---	-----	---	---	---	---	---	---	---	---	---	---	---	---	---	---	---	---

 →

8. ←

68	—	80	—	92	—	□	—	□	—	□	—	□	—	□	—	□	—	□	—	□
----	---	----	---	----	---	---	---	---	---	---	---	---	---	---	---	---	---	---	---	---

 →

9. ←

53	—	48	—	43	—	□	—	□	—	□	—	□	—	□	—	□	—	□	—	□
----	---	----	---	----	---	---	---	---	---	---	---	---	---	---	---	---	---	---	---	---

 →

10. ←

79	—	81	—	83	—	□	—	□	—	□	—	□	—	□	—	□	—	□	—	□
----	---	----	---	----	---	---	---	---	---	---	---	---	---	---	---	---	---	---	---	---

 →

Secuencias Numéricas (J) Respuestas

Nombre: _____

Fecha: _____

Identifique, continúe y describa cada secuencia numérica.

1. ← 62 — 59 — 56 — 53 — 50 — 47 — 44 — 41 — 38 — 35 →

Comenzar en 62 y restar 3 en cada paso.

2. ← 48 — 49 — 50 — 51 — 52 — 53 — 54 — 55 — 56 — 57 →

Comenzar en 48 y sumar 1 en cada paso.

3. ← 156 — 145 — 134 — 123 — 112 — 101 — 90 — 79 — 68 — 57 →

Comenzar en 156 y restar 11 en cada paso.

4. ← 39 — 45 — 51 — 57 — 63 — 69 — 75 — 81 — 87 — 93 →

Comenzar en 39 y sumar 6 en cada paso.

5. ← 105 — 96 — 87 — 78 — 69 — 60 — 51 — 42 — 33 — 24 →

Comenzar en 105 y restar 9 en cada paso.

6. ← 11 — 36 — 61 — 86 — 111 — 136 — 161 — 186 — 211 — 236 →

Comenzar en 11 y sumar 25 en cada paso.

7. ← 182 — 172 — 162 — 152 — 142 — 132 — 122 — 112 — 102 — 92 →

Comenzar en 182 y restar 10 en cada paso.

8. ← 68 — 80 — 92 — 104 — 116 — 128 — 140 — 152 — 164 — 176 →

Comenzar en 68 y sumar 12 en cada paso.

9. ← 53 — 48 — 43 — 38 — 33 — 28 — 23 — 18 — 13 — 8 →

Comenzar en 53 y restar 5 en cada paso.

10. ← 79 — 81 — 83 — 85 — 87 — 89 — 91 — 93 — 95 — 97 →

Comenzar en 79 y sumar 2 en cada paso.