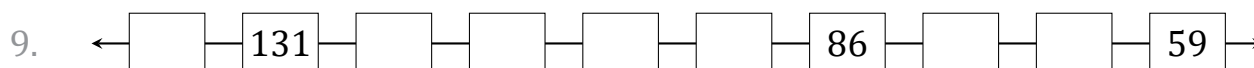
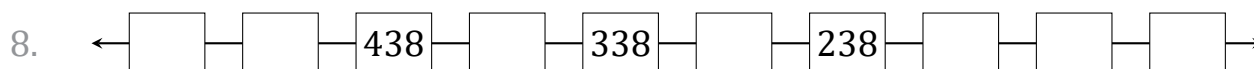
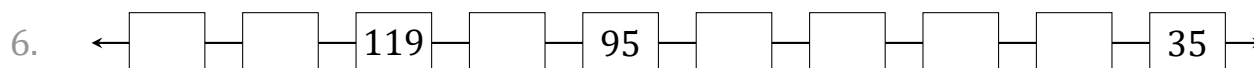
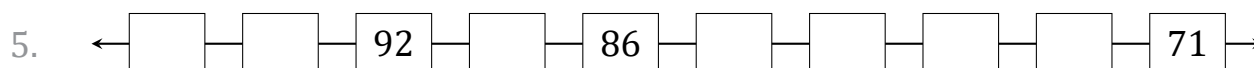
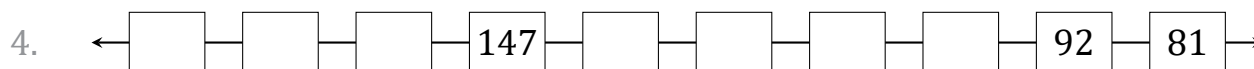
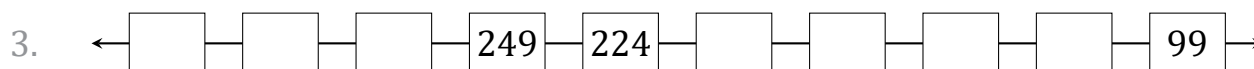


Secuencias Numéricas (B)

Nombre: _____

Fecha: _____

Identifique, complete y describa cada secuencia numérica.



Secuencias Numéricas (B) Respuestas

Nombre: _____

Fecha: _____

Identifique, complete y describa cada secuencia numérica.

1. ← 80 — 74 — 68 — 62 — 56 — 50 — 44 — 38 — 32 — 26 →

Comenzar en 80 y restar 6 en cada paso.

2. ← 101 — 91 — 81 — 71 — 61 — 51 — 41 — 31 — 21 — 11 →

Comenzar en 101 y restar 10 en cada paso.

3. ← 324 — 299 — 274 — 249 — 224 — 199 — 174 — 149 — 124 — 99 →

Comenzar en 324 y restar 25 en cada paso.

4. ← 180 — 169 — 158 — 147 — 136 — 125 — 114 — 103 — 92 — 81 →

Comenzar en 180 y restar 11 en cada paso.

5. ← 98 — 95 — 92 — 89 — 86 — 83 — 80 — 77 — 74 — 71 →

Comenzar en 98 y restar 3 en cada paso.

6. ← 143 — 131 — 119 — 107 — 95 — 83 — 71 — 59 — 47 — 35 →

Comenzar en 143 y restar 12 en cada paso.

7. ← 88 — 83 — 78 — 73 — 68 — 63 — 58 — 53 — 48 — 43 →

Comenzar en 88 y restar 5 en cada paso.

8. ← 538 — 488 — 438 — 388 — 338 — 288 — 238 — 188 — 138 — 88 →

Comenzar en 538 y restar 50 en cada paso.

9. ← 140 — 131 — 122 — 113 — 104 — 95 — 86 — 77 — 68 — 59 →

Comenzar en 140 y restar 9 en cada paso.

10. ← 19 — 17 — 15 — 13 — 11 — 9 — 7 — 5 — 3 — 1 →

Comenzar en 19 y restar 2 en cada paso.