

Secuencias Numéricas (D)

Nombre: _____

Fecha: _____

Identifique, complete y describa cada secuencia numérica.

1. ← 90 — □ — □ — □ — □ — 85 — 84 — □ — □ — □ →

2. ← □ — □ — □ — 110 — □ — □ — 101 — 98 — □ — □ →

3. ← 135 — □ — 113 — □ — □ — □ — □ — □ — 47 — □ →

4. ← □ — 154 — 146 — □ — □ — 122 — □ — □ — □ — □ →

5. ← □ — 132 — □ — □ — □ — 96 — □ — 78 — □ — □ →

6. ← 971 — □ — □ — □ — □ — 471 — □ — □ — □ — 71 →

7. ← 457 — □ — □ — 307 — □ — 207 — □ — □ — □ — □ →

8. ← □ — 101 — □ — 87 — □ — 73 — □ — □ — □ — □ →

9. ← □ — □ — □ — □ — 36 — 32 — □ — □ — □ — 16 →


10. ← 68 — 66 — □ — □ — □ — □ — □ — □ — □ — 50 →

Secuencias Numéricas (D) Respuestas

Nombre: _____

Fecha: _____

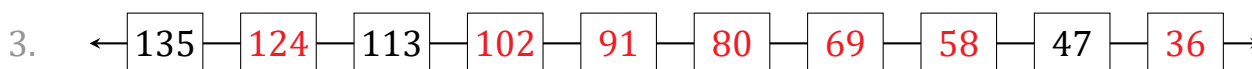
Identifique, complete y describa cada secuencia numérica.



Comenzar en 90 y restar 1 en cada paso.



Comenzar en 119 y restar 3 en cada paso.



Comenzar en 135 y restar 11 en cada paso.



Comenzar en 162 y restar 8 en cada paso.



Comenzar en 141 y restar 9 en cada paso.



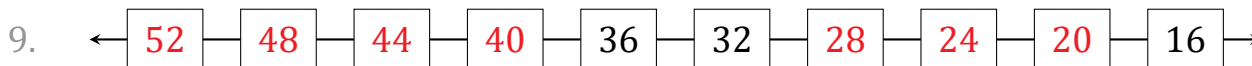
Comenzar en 971 y restar 100 en cada paso.



Comenzar en 457 y restar 50 en cada paso.



Comenzar en 108 y restar 7 en cada paso.



Comenzar en 52 y restar 4 en cada paso.



Comenzar en 68 y restar 2 en cada paso.