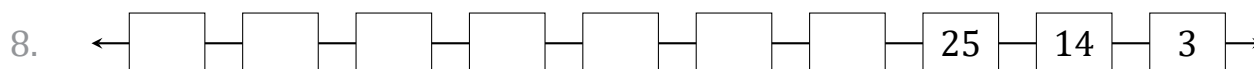
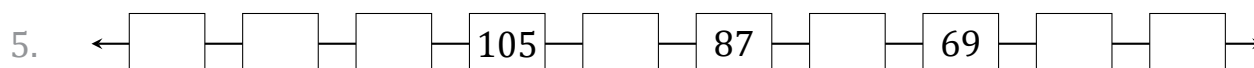
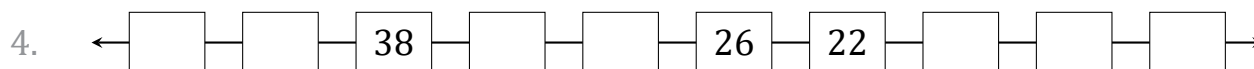
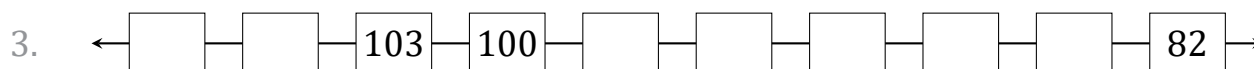


Secuencias Numéricas (G)

Nombre: _____

Fecha: _____

Identifique, complete y describa cada secuencia numérica.



Secuencias Numéricas (G) Respuestas

Nombre: _____

Fecha: _____

Identifique, complete y describa cada secuencia numérica.

1. ← 45 — 44 — 43 — 42 — 41 — 40 — 39 — 38 — 37 — 36 →

Comenzar en 45 y restar 1 en cada paso.

2. ← 188 — 178 — 168 — 158 — 148 — 138 — 128 — 118 — 108 — 98 →

Comenzar en 188 y restar 10 en cada paso.

3. ← 109 — 106 — 103 — 100 — 97 — 94 — 91 — 88 — 85 — 82 →

Comenzar en 109 y restar 3 en cada paso.

4. ← 46 — 42 — 38 — 34 — 30 — 26 — 22 — 18 — 14 — 10 →

Comenzar en 46 y restar 4 en cada paso.

5. ← 132 — 123 — 114 — 105 — 96 — 87 — 78 — 69 — 60 — 51 →

Comenzar en 132 y restar 9 en cada paso.

6. ← 86 — 81 — 76 — 71 — 66 — 61 — 56 — 51 — 46 — 41 →

Comenzar en 86 y restar 5 en cada paso.

7. ← 509 — 459 — 409 — 359 — 309 — 259 — 209 — 159 — 109 — 59 →

Comenzar en 509 y restar 50 en cada paso.

8. ← 102 — 91 — 80 — 69 — 58 — 47 — 36 — 25 — 14 — 3 →

Comenzar en 102 y restar 11 en cada paso.

9. ← 129 — 122 — 115 — 108 — 101 — 94 — 87 — 80 — 73 — 66 →

Comenzar en 129 y restar 7 en cada paso.

10. ← 299 — 274 — 249 — 224 — 199 — 174 — 149 — 124 — 99 — 74 →

Comenzar en 299 y restar 25 en cada paso.