

Secuencias Numéricas (A)

Nombre: _____

Fecha: _____

Identifique, complete y describa cada secuencia numérica.

1. ← — — — — 546 — — 346 — — — 46 →

2. ← — — — — — 115 — 106 — — — 79 →

3. ← — — — — 67 — 65 — 63 — — — →

4. ← 168 — — 138 — 123 — — — — — — →

5. ← — 166 — 156 — — — — 116 — — — →

6. ← 72 — — — — — 42 — 36 — — — →

7. ← — — 125 — — — — 77 — — — 41 →

8. ← — — — — — 127 — — — 103 — 95 →

9. ← — 112 — 107 — — — 92 — — — — →

10. ← — — — 28 — 24 — 20 — — — — →

Secuencias Numéricas (A) Respuestas

Nombre: _____

Fecha: _____

Identifique, complete y describa cada secuencia numérica.

1. ← 946 — 846 — 746 — 646 — 546 — 446 — 346 — 246 — 146 — 46 →

Comenzar en 946 y restar 100 en cada paso.

2. ← 160 — 151 — 142 — 133 — 124 — 115 — 106 — 97 — 88 — 79 →

Comenzar en 160 y restar 9 en cada paso.

3. ← 75 — 73 — 71 — 69 — 67 — 65 — 63 — 61 — 59 — 57 →

Comenzar en 75 y restar 2 en cada paso.

4. ← 168 — 153 — 138 — 123 — 108 — 93 — 78 — 63 — 48 — 33 →

Comenzar en 168 y restar 15 en cada paso.

5. ← 176 — 166 — 156 — 146 — 136 — 126 — 116 — 106 — 96 — 86 →

Comenzar en 176 y restar 10 en cada paso.

6. ← 72 — 66 — 60 — 54 — 48 — 42 — 36 — 30 — 24 — 18 →

Comenzar en 72 y restar 6 en cada paso.

7. ← 149 — 137 — 125 — 113 — 101 — 89 — 77 — 65 — 53 — 41 →

Comenzar en 149 y restar 12 en cada paso.

8. ← 167 — 159 — 151 — 143 — 135 — 127 — 119 — 111 — 103 — 95 →

Comenzar en 167 y restar 8 en cada paso.

9. ← 117 — 112 — 107 — 102 — 97 — 92 — 87 — 82 — 77 — 72 →

Comenzar en 117 y restar 5 en cada paso.

10. ← 40 — 36 — 32 — 28 — 24 — 20 — 16 — 12 — 8 — 4 →

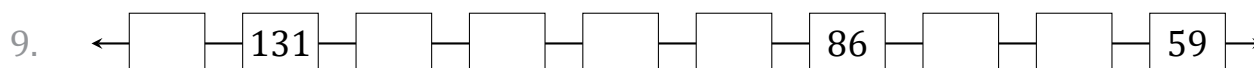
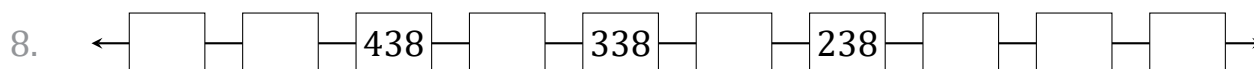
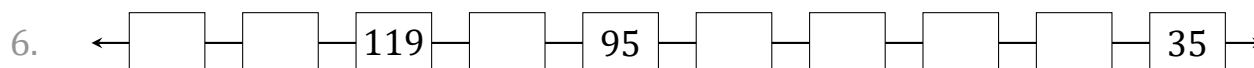
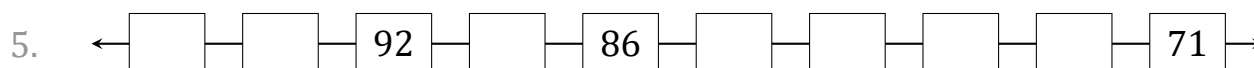
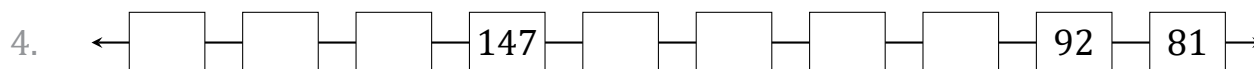
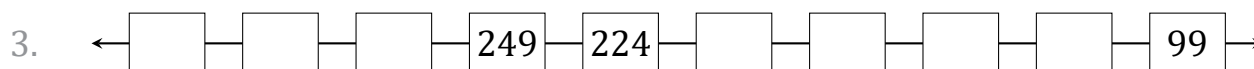
Comenzar en 40 y restar 4 en cada paso.

Secuencias Numéricas (B)

Nombre: _____

Fecha: _____

Identifique, complete y describa cada secuencia numérica.



Secuencias Numéricas (B) Respuestas

Nombre: _____

Fecha: _____

Identifique, complete y describa cada secuencia numérica.

1. ← 80 — 74 — 68 — 62 — 56 — 50 — 44 — 38 — 32 — 26 →

Comenzar en 80 y restar 6 en cada paso.

2. ← 101 — 91 — 81 — 71 — 61 — 51 — 41 — 31 — 21 — 11 →

Comenzar en 101 y restar 10 en cada paso.

3. ← 324 — 299 — 274 — 249 — 224 — 199 — 174 — 149 — 124 — 99 →

Comenzar en 324 y restar 25 en cada paso.

4. ← 180 — 169 — 158 — 147 — 136 — 125 — 114 — 103 — 92 — 81 →

Comenzar en 180 y restar 11 en cada paso.

5. ← 98 — 95 — 92 — 89 — 86 — 83 — 80 — 77 — 74 — 71 →

Comenzar en 98 y restar 3 en cada paso.

6. ← 143 — 131 — 119 — 107 — 95 — 83 — 71 — 59 — 47 — 35 →

Comenzar en 143 y restar 12 en cada paso.

7. ← 88 — 83 — 78 — 73 — 68 — 63 — 58 — 53 — 48 — 43 →

Comenzar en 88 y restar 5 en cada paso.

8. ← 538 — 488 — 438 — 388 — 338 — 288 — 238 — 188 — 138 — 88 →

Comenzar en 538 y restar 50 en cada paso.

9. ← 140 — 131 — 122 — 113 — 104 — 95 — 86 — 77 — 68 — 59 →

Comenzar en 140 y restar 9 en cada paso.

10. ← 19 — 17 — 15 — 13 — 11 — 9 — 7 — 5 — 3 — 1 →

Comenzar en 19 y restar 2 en cada paso.

Secuencias Numéricas (C)

Nombre: _____

Fecha: _____

Identifique, complete y describa cada secuencia numérica.

1. \leftarrow — 16 — — — 13 — — — — 9 — \rightarrow

2. \leftarrow 190 — — 166 — 154 — — — — — — \rightarrow

3. \leftarrow — — 46 — — — — — — 22 — 18 \rightarrow

4. \leftarrow 180 — — — 147 — — — — — — 81 \rightarrow

5. \leftarrow — 226 — 201 — — — — — 76 — — \rightarrow

6. \leftarrow 113 — 111 — — 107 — — — — — — \rightarrow

7. \leftarrow 74 — 69 — — — — 49 — — — — \rightarrow

8. \leftarrow — — 117 — 107 — — — — 67 — — \rightarrow

9. \leftarrow 121 — — — — — 86 — — — 65 — \rightarrow

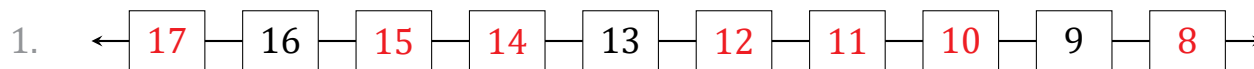
10. \leftarrow — 118 — — — — 94 — — — 76 — \rightarrow

Secuencias Numéricas (C) Respuestas

Nombre: _____

Fecha: _____

Identifique, complete y describa cada secuencia numérica.



Comenzar en 17 y restar 1 en cada paso.




Comenzar en 190 y restar 12 en cada paso.



Comenzar en 54 y restar 4 en cada paso.



Comenzar en 180 y restar 11 en cada paso.



Comenzar en 251 y restar 25 en cada paso.



Comenzar en 113 y restar 2 en cada paso.



Comenzar en 74 y restar 5 en cada paso.



Comenzar en 137 y restar 10 en cada paso.



Comenzar en 121 y restar 7 en cada paso.



Comenzar en 124 y restar 6 en cada paso.

Secuencias Numéricas (D)

Nombre: _____

Fecha: _____

Identifique, complete y describa cada secuencia numérica.

1. ← — — — — — — — — — →

2. ← — — — — — — — — — →

3. ← — — — — — — — — — →

4. ← — — — — — — — — — →

5. ← — — — — — — — — — →

6. ← — — — — — — — — — →

7. ← — — — — — — — — — →

8. ← — — — — — — — — — →

9. ← — — — — — — — — — →

10. ← — — — — — — — — — →

Secuencias Numéricas (D) Respuestas

Nombre: _____

Fecha: _____

Identifique, complete y describa cada secuencia numérica.

1. ← 90 — 89 — 88 — 87 — 86 — 85 — 84 — 83 — 82 — 81 →

Comenzar en 90 y restar 1 en cada paso.

2. ← 119 — 116 — 113 — 110 — 107 — 104 — 101 — 98 — 95 — 92 →

Comenzar en 119 y restar 3 en cada paso.

3. ← 135 — 124 — 113 — 102 — 91 — 80 — 69 — 58 — 47 — 36 →

Comenzar en 135 y restar 11 en cada paso.

4. ← 162 — 154 — 146 — 138 — 130 — 122 — 114 — 106 — 98 — 90 →

Comenzar en 162 y restar 8 en cada paso.

5. ← 141 — 132 — 123 — 114 — 105 — 96 — 87 — 78 — 69 — 60 →

Comenzar en 141 y restar 9 en cada paso.

6. ← 971 — 871 — 771 — 671 — 571 — 471 — 371 — 271 — 171 — 71 →

Comenzar en 971 y restar 100 en cada paso.

7. ← 457 — 407 — 357 — 307 — 257 — 207 — 157 — 107 — 57 — 7 →

Comenzar en 457 y restar 50 en cada paso.

8. ← 108 — 101 — 94 — 87 — 80 — 73 — 66 — 59 — 52 — 45 →

Comenzar en 108 y restar 7 en cada paso.

9. ← 52 — 48 — 44 — 40 — 36 — 32 — 28 — 24 — 20 — 16 →

Comenzar en 52 y restar 4 en cada paso.

10. ← 68 — 66 — 64 — 62 — 60 — 58 — 56 — 54 — 52 — 50 →

Comenzar en 68 y restar 2 en cada paso.

Secuencias Numéricas (E)

Nombre: _____

Fecha: _____

Identifique, complete y describa cada secuencia numérica.

1. \leftarrow — — 103 — — 83 — 73 — — — — \rightarrow

2. \leftarrow 35 — 33 — — — — — 28 — \rightarrow

3. \leftarrow 160 — 146 — — — — — — — 97 \rightarrow

4. \leftarrow 63 57 — — — — — 27 — — \rightarrow

5. \leftarrow — 79 — 71 — — — — — 31 — — \rightarrow

6. \leftarrow — 194 — 179 — — — — — 104 — — \rightarrow

7. \leftarrow — 69 — 67 — — — — — 57 — — \rightarrow

8. \leftarrow — 469 — — 369 — — — — 169 — — \rightarrow

9. \leftarrow — 138 — — — 102 — 90 — — — — \rightarrow

10. \leftarrow 86 — — — — 74 — — — 65 — — \rightarrow

Secuencias Numéricas (E) Respuestas

Nombre: _____

Fecha: _____

Identifique, complete y describa cada secuencia numérica.

1. ← 123 — 113 — 103 — 93 — 83 — 73 — 63 — 53 — 43 — 33 →

Comenzar en 123 y restar 10 en cada paso.

2. ← 35 — 34 — 33 — 32 — 31 — 30 — 29 — 28 — 27 — 26 →

Comenzar en 35 y restar 1 en cada paso.

3. ← 160 — 153 — 146 — 139 — 132 — 125 — 118 — 111 — 104 — 97 →

Comenzar en 160 y restar 7 en cada paso.

4. ← 63 — 57 — 51 — 45 — 39 — 33 — 27 — 21 — 15 — 9 →

Comenzar en 63 y restar 6 en cada paso.

5. ← 87 — 79 — 71 — 63 — 55 — 47 — 39 — 31 — 23 — 15 →

Comenzar en 87 y restar 8 en cada paso.

6. ← 209 — 194 — 179 — 164 — 149 — 134 — 119 — 104 — 89 — 74 →

Comenzar en 209 y restar 15 en cada paso.

7. ← 71 — 69 — 67 — 65 — 63 — 61 — 59 — 57 — 55 — 53 →

Comenzar en 71 y restar 2 en cada paso.

8. ← 519 — 469 — 419 — 369 — 319 — 269 — 219 — 169 — 119 — 69 →

Comenzar en 519 y restar 50 en cada paso.

9. ← 150 — 138 — 126 — 114 — 102 — 90 — 78 — 66 — 54 — 42 →

Comenzar en 150 y restar 12 en cada paso.

10. ← 86 — 83 — 80 — 77 — 74 — 71 — 68 — 65 — 62 — 59 →

Comenzar en 86 y restar 3 en cada paso.

Secuencias Numéricas (F)

Nombre: _____

Fecha: _____

Identifique, complete y describa cada secuencia numérica.

1. \leftarrow — 459 — — — — 259 — — — 109 — \rightarrow

2. \leftarrow — — 31 — 29 — — — 23 — — — \rightarrow

3. \leftarrow 161 — — — 131 — — — — 91 — — \rightarrow

4. \leftarrow — — 93 — 87 — — 75 — — — — \rightarrow

5. \leftarrow — 143 — — — — 115 — — 101 — — \rightarrow

6. \leftarrow — — — — 149 — — 127 — 116 — — \rightarrow

7. \leftarrow — — — 83 — 75 — — 59 — — — \rightarrow

8. \leftarrow — — — — 581 — — — 281 — — 81 \rightarrow

9. \leftarrow — — 103 — — 85 — — — — — 40 \rightarrow

10. \leftarrow — 62 — 57 — — — — — — 27 — \rightarrow

Secuencias Numéricas (F) Respuestas

Nombre: _____

Fecha: _____

Identifique, complete y describa cada secuencia numérica.

1. ← 509 — 459 — 409 — 359 — 309 — 259 — 209 — 159 — 109 — 59 →

Comenzar en 509 y restar 50 en cada paso.

2. ← 35 — 33 — 31 — 29 — 27 — 25 — 23 — 21 — 19 — 17 →

Comenzar en 35 y restar 2 en cada paso.

3. ← 161 — 151 — 141 — 131 — 121 — 111 — 101 — 91 — 81 — 71 →

Comenzar en 161 y restar 10 en cada paso.

4. ← 105 — 99 — 93 — 87 — 81 — 75 — 69 — 63 — 57 — 51 →

Comenzar en 105 y restar 6 en cada paso.

5. ← 150 — 143 — 136 — 129 — 122 — 115 — 108 — 101 — 94 — 87 →

Comenzar en 150 y restar 7 en cada paso.

6. ← 193 — 182 — 171 — 160 — 149 — 138 — 127 — 116 — 105 — 94 →

Comenzar en 193 y restar 11 en cada paso.

7. ← 107 — 99 — 91 — 83 — 75 — 67 — 59 — 51 — 43 — 35 →

Comenzar en 107 y restar 8 en cada paso.

8. ← 981 — 881 — 781 — 681 — 581 — 481 — 381 — 281 — 181 — 81 →

Comenzar en 981 y restar 100 en cada paso.

9. ← 121 — 112 — 103 — 94 — 85 — 76 — 67 — 58 — 49 — 40 →

Comenzar en 121 y restar 9 en cada paso.

10. ← 67 — 62 — 57 — 52 — 47 — 42 — 37 — 32 — 27 — 22 →

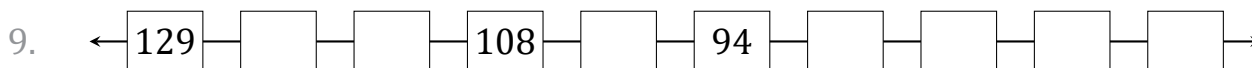
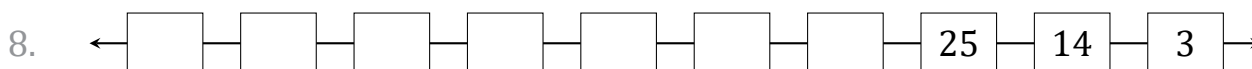
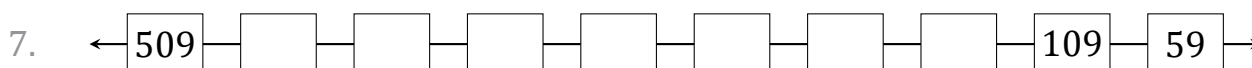
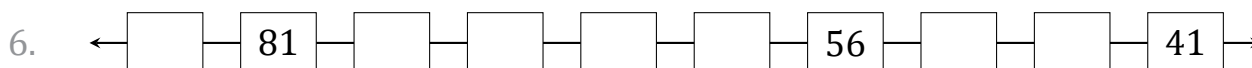
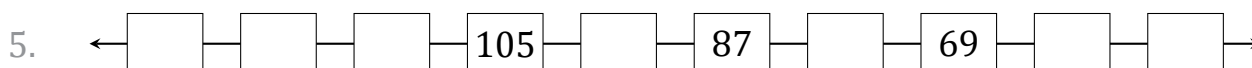
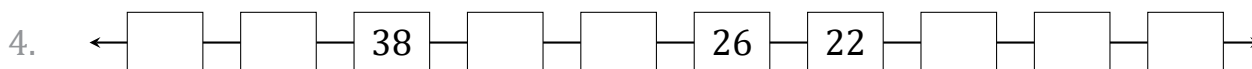
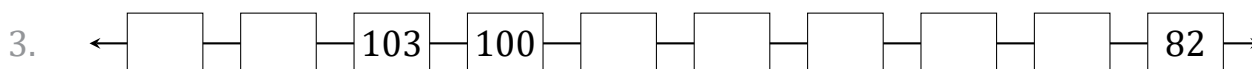
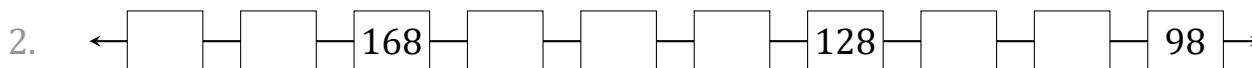
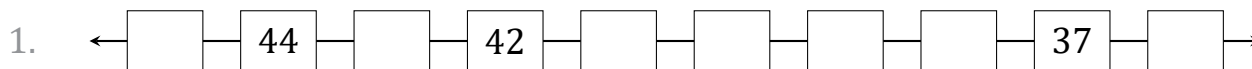
Comenzar en 67 y restar 5 en cada paso.

Secuencias Numéricas (G)

Nombre: _____

Fecha: _____

Identifique, complete y describa cada secuencia numérica.



Secuencias Numéricas (G) Respuestas

Nombre: _____

Fecha: _____

Identifique, complete y describa cada secuencia numérica.

1. ← 45 — 44 — 43 — 42 — 41 — 40 — 39 — 38 — 37 — 36 →

Comenzar en 45 y restar 1 en cada paso.

2. ← 188 — 178 — 168 — 158 — 148 — 138 — 128 — 118 — 108 — 98 →

Comenzar en 188 y restar 10 en cada paso.

3. ← 109 — 106 — 103 — 100 — 97 — 94 — 91 — 88 — 85 — 82 →

Comenzar en 109 y restar 3 en cada paso.

4. ← 46 — 42 — 38 — 34 — 30 — 26 — 22 — 18 — 14 — 10 →

Comenzar en 46 y restar 4 en cada paso.

5. ← 132 — 123 — 114 — 105 — 96 — 87 — 78 — 69 — 60 — 51 →

Comenzar en 132 y restar 9 en cada paso.

6. ← 86 — 81 — 76 — 71 — 66 — 61 — 56 — 51 — 46 — 41 →

Comenzar en 86 y restar 5 en cada paso.

7. ← 509 — 459 — 409 — 359 — 309 — 259 — 209 — 159 — 109 — 59 →

Comenzar en 509 y restar 50 en cada paso.

8. ← 102 — 91 — 80 — 69 — 58 — 47 — 36 — 25 — 14 — 3 →

Comenzar en 102 y restar 11 en cada paso.

9. ← 129 — 122 — 115 — 108 — 101 — 94 — 87 — 80 — 73 — 66 →

Comenzar en 129 y restar 7 en cada paso.

10. ← 299 — 274 — 249 — 224 — 199 — 174 — 149 — 124 — 99 — 74 →

Comenzar en 299 y restar 25 en cada paso.

Secuencias Numéricas (H)

Nombre: _____

Fecha: _____

Identifique, complete y describa cada secuencia numérica.

1. ← — — — — — 77 — 62 — 47 — — →

2. ← — — — — 323 — — — 173 — 123 — →

3. ← — — — — — — 91 — 90 — — 88 →

4. ← — 183 — — — — 139 — — — — 95 →

5. ← — — 101 — 93 — — 77 — — — — →

6. ← 100 — — 92 — — — — — 72 — — →

7. ← 112 — — — — — — — 63 — 56 — →

8. ← — — — — — — 40 — — 34 — 31 →

9. ← — 75 — — — — — 30 — 21 — — →

10. ← 281 — 256 — — — — — — 106 — — →

Secuencias Numéricas (H) Respuestas

Nombre: _____

Fecha: _____

Identifique, complete y describa cada secuencia numérica.

1. ← 152 — 137 — 122 — 107 — 92 — 77 — 62 — 47 — 32 — 17 →

Comenzar en 152 y restar 15 en cada paso.

2. ← 523 — 473 — 423 — 373 — 323 — 273 — 223 — 173 — 123 — 73 →

Comenzar en 523 y restar 50 en cada paso.

3. ← 97 — 96 — 95 — 94 — 93 — 92 — 91 — 90 — 89 — 88 →

Comenzar en 97 y restar 1 en cada paso.

4. ← 194 — 183 — 172 — 161 — 150 — 139 — 128 — 117 — 106 — 95 →

Comenzar en 194 y restar 11 en cada paso.

5. ← 117 — 109 — 101 — 93 — 85 — 77 — 69 — 61 — 53 — 45 →

Comenzar en 117 y restar 8 en cada paso.

6. ← 100 — 96 — 92 — 88 — 84 — 80 — 76 — 72 — 68 — 64 →

Comenzar en 100 y restar 4 en cada paso.

7. ← 112 — 105 — 98 — 91 — 84 — 77 — 70 — 63 — 56 — 49 →

Comenzar en 112 y restar 7 en cada paso.

8. ← 58 — 55 — 52 — 49 — 46 — 43 — 40 — 37 — 34 — 31 →

Comenzar en 58 y restar 3 en cada paso.

9. ← 84 — 75 — 66 — 57 — 48 — 39 — 30 — 21 — 12 — 3 →

Comenzar en 84 y restar 9 en cada paso.

10. ← 281 — 256 — 231 — 206 — 181 — 156 — 131 — 106 — 81 — 56 →

Comenzar en 281 y restar 25 en cada paso.

Secuencias Numéricas (I)

Nombre: _____

Fecha: _____

Identifique, complete y describa cada secuencia numérica.

1. \leftarrow \rightarrow

2. \leftarrow \rightarrow

3. \leftarrow \rightarrow

4. \leftarrow \rightarrow

5. \leftarrow \rightarrow

6. \leftarrow \rightarrow

7. \leftarrow \rightarrow

8. \leftarrow \rightarrow

9. \leftarrow \rightarrow

10. \leftarrow \rightarrow

Secuencias Numéricas (I) Respuestas

Nombre: _____

Fecha: _____

Identifique, complete y describa cada secuencia numérica.

1. ← 159 — 144 — 129 — 114 — 99 — 84 — 69 — 54 — 39 — 24 →

Comenzar en 159 y restar 15 en cada paso.

2. ← 91 — 89 — 87 — 85 — 83 — 81 — 79 — 77 — 75 — 73 →

Comenzar en 91 y restar 2 en cada paso.

3. ← 158 — 148 — 138 — 128 — 118 — 108 — 98 — 88 — 78 — 68 →

Comenzar en 158 y restar 10 en cada paso.

4. ← 92 — 87 — 82 — 77 — 72 — 67 — 62 — 57 — 52 — 47 →

Comenzar en 92 y restar 5 en cada paso.

5. ← 72 — 65 — 58 — 51 — 44 — 37 — 30 — 23 — 16 — 9 →

Comenzar en 72 y restar 7 en cada paso.

6. ← 135 — 131 — 127 — 123 — 119 — 115 — 111 — 107 — 103 — 99 →

Comenzar en 135 y restar 4 en cada paso.

7. ← 68 — 65 — 62 — 59 — 56 — 53 — 50 — 47 — 44 — 41 →

Comenzar en 68 y restar 3 en cada paso.

8. ← 137 — 131 — 125 — 119 — 113 — 107 — 101 — 95 — 89 — 83 →

Comenzar en 137 y restar 6 en cada paso.

9. ← 465 — 415 — 365 — 315 — 265 — 215 — 165 — 115 — 65 — 15 →

Comenzar en 465 y restar 50 en cada paso.

10. ← 286 — 261 — 236 — 211 — 186 — 161 — 136 — 111 — 86 — 61 →

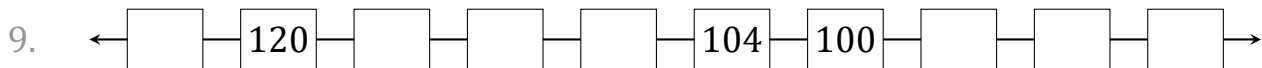
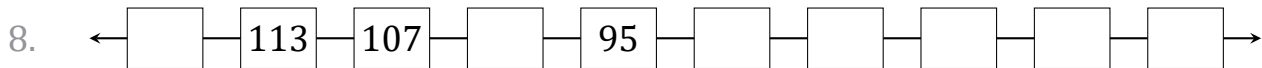
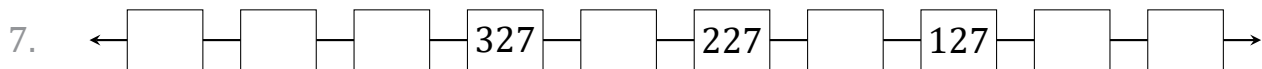
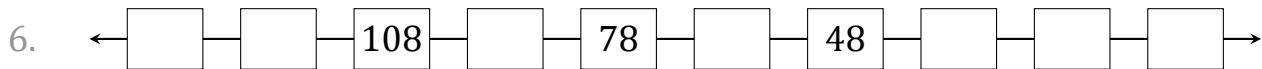
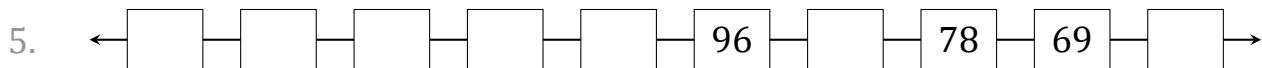
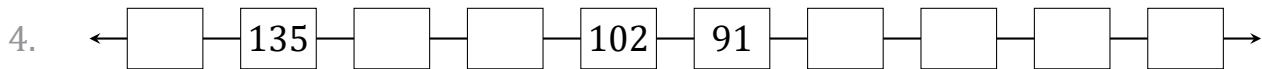
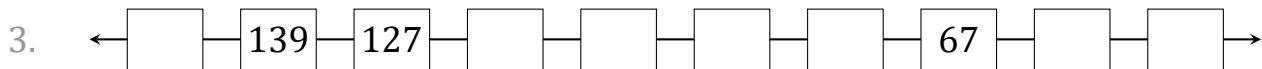
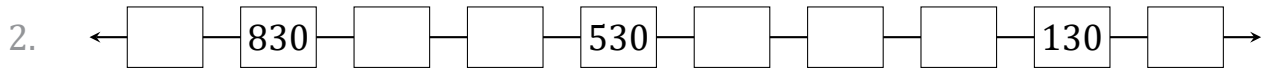
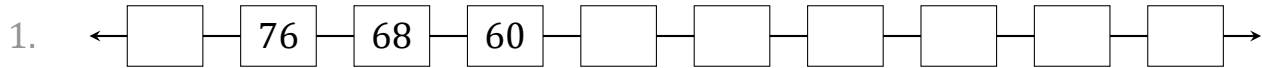
Comenzar en 286 y restar 25 en cada paso.

Secuencias Numéricas (J)

Nombre: _____

Fecha: _____

Identifique, complete y describa cada secuencia numérica.



Secuencias Numéricas (J) Respuestas

Nombre: _____

Fecha: _____

Identifique, complete y describa cada secuencia numérica.

1. ← 84 — 76 — 68 — 60 — 52 — 44 — 36 — 28 — 20 — 12 →

Comenzar en 84 y restar 8 en cada paso.

2. ← 930 — 830 — 730 — 630 — 530 — 430 — 330 — 230 — 130 — 30 →

Comenzar en 930 y restar 100 en cada paso.

3. ← 151 — 139 — 127 — 115 — 103 — 91 — 79 — 67 — 55 — 43 →

Comenzar en 151 y restar 12 en cada paso.

4. ← 146 — 135 — 124 — 113 — 102 — 91 — 80 — 69 — 58 — 47 →

Comenzar en 146 y restar 11 en cada paso.

5. ← 141 — 132 — 123 — 114 — 105 — 96 — 87 — 78 — 69 — 60 →

Comenzar en 141 y restar 9 en cada paso.

6. ← 138 — 123 — 108 — 93 — 78 — 63 — 48 — 33 — 18 — 3 →

Comenzar en 138 y restar 15 en cada paso.

7. ← 477 — 427 — 377 — 327 — 277 — 227 — 177 — 127 — 77 — 27 →

Comenzar en 477 y restar 50 en cada paso.

8. ← 119 — 113 — 107 — 101 — 95 — 89 — 83 — 77 — 71 — 65 →

Comenzar en 119 y restar 6 en cada paso.

9. ← 124 — 120 — 116 — 112 — 108 — 104 — 100 — 96 — 92 — 88 →

Comenzar en 124 y restar 4 en cada paso.

10. ← 182 — 172 — 162 — 152 — 142 — 132 — 122 — 112 — 102 — 92 →

Comenzar en 182 y restar 10 en cada paso.